

Lönd heimsins

Afríka

194 lönd í sex heimsálfum sem voru sjálfstæð í nóvember 2006



Þessa bók á

Leiðbeiningar

Þessi verkefni eru hugsuð fyrir nemendur sem fylgja ekki hefðbundnu námsefni en geta hentað fyrir hvern sem er. Einfölduð verkefni sem miða að því að kynna fyrir nemandanum helstu sjálfstjórnarríki í heiminum og miða að því að nemandinn geti nýtt sér upplýsingarnar ef hann heimsækir viðkomandi lönd í framtíðinni. Efninu er skipt upp í kafla sem miðast við heimsálfurnar:

- Evrópa,
- Asía,
- Afríka,
- Eyjaálfa
- N-Ameríka og S-Ameríka

Hægt er að prenta út þessi verkefni eða vinna þau í spjaldtölvu og prenta út síðar eða geyma á stafrænu formi. Gert er ráð fyrir að viðkomandi hafi tölvu, spjaldtölvu eða síma til að leita að upplýsingunum. Flest svörin er að finna í <https://www.wikipedia.org/> og þarf finnast líka hnattmyndir til að setja við hverja tösku. Upplýsingar um hitastig er að finna á vefnum <https://www.yr.no/> undir statisticks. Nemandinn getur málað fánann í spjaldtölvunni eða prenta út myndir af fána, hann lítur t.d. með trélitum og síðan er tekinn mynd af honum og sett yfir ólitaða fánann. Samhliða þessum verkefnum eru svo verkefni á Kahoot þar sem finna þarf rétta fána og staðsetningu á hnettinum. Á kortið aftast er merkt inn í réttan hring númerið sem tilheyrir hvaða landi.

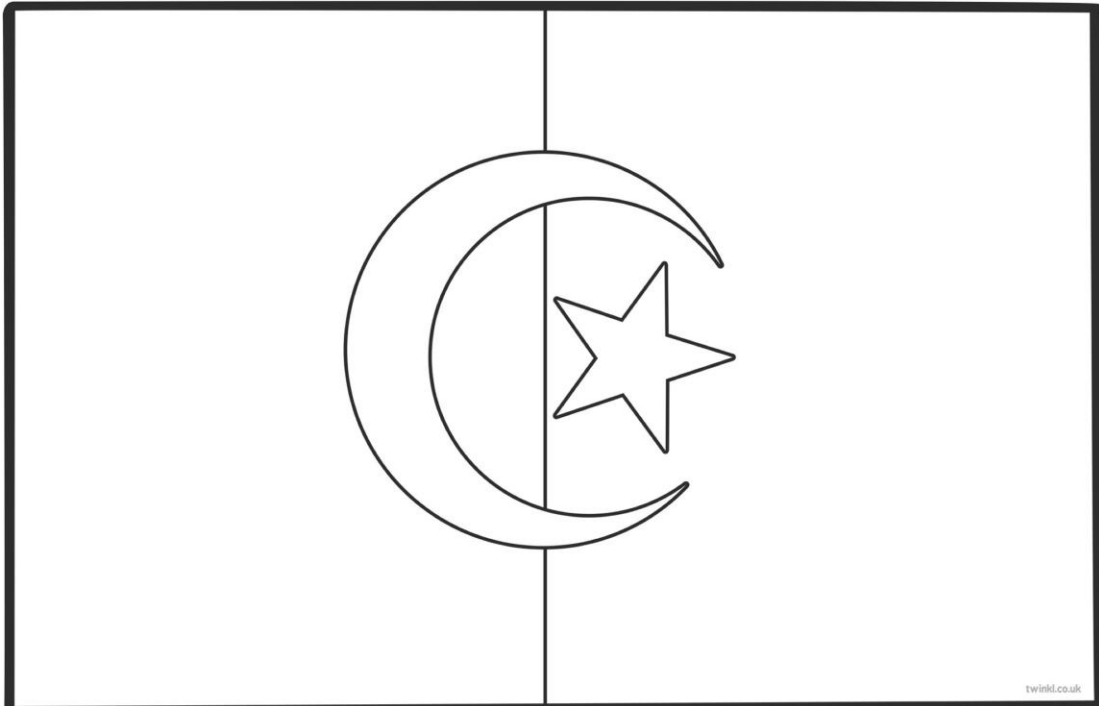
Nöfn og númer landa, notið númer til að merkja inn á kort

	Íslenska	Enska	Heimsálfa
3	Alsír	Algeria	Afríka
20	Botsvana	Botswana	Afríka
28	Djíbúti	Djibouti	Afríka
30	Egyptaland	Egypt	Afríka
33	Eþíópía	Ethiopia	Afríka
35	Fílabeinsströndin	Ivory Coast	Afríka
39	Gabon	Gabon	Afríka
40	Gambía	Gambia	Afríka
41	Gana	Ghana	Afríka
43	Gínea	Guinea	Afríka
62	Kamerún	Cameroon	Afríka
66	Kenía	Kenya	Afríka
77	Lesótó	Lesotho	Afríka
80	Líbería	Libería	Afríka
84	Madagaskar	Madagascar	Afríka
87	Malaví	Malawi	Afríka
89	Malí	Mali	Afríka
91	Máritanía	Mauritius	Afríka
92	Marokkó	Morocco	Afríka
94	Mið-Afríkulyðveldið	Central African Republic	Afríka
98	Mosambík	Mozambique	Afríka
100	Namibía	Namibia	Afríka
103	Níger	Nigeria	Afríka
104	Nígería	Nigeria	Afríka
124	Sambía	Zambia	Afríka
130	Saó Tóme og Prinsípe	Sao Tomé and Príncipe	Afríka
131	Senegal	Senegal	Afríka
133	Seycshellesjar	Seyshelles	Afríka
134	Síerra León	Sierra Leone	Afríka
135	Simbabve	Zimbabwe	Afríka
141	Súdan	Sudan	Afríka
142	Suður-Afríka	South Africa	Afríka
146	Svasíland	Swaziland	Afríka
152	Tansanía	Tanzania	Afríka
154	Tógó	Togo	Afríka
157	Túnis	Tunisia	Afríka

3. Landið heitir: **Alsír** á íslensku og

á ensku

Fáni landsins lítur svona út litaðu í réttum litum



- Landið er í Evrópu
 Asíu
 Afríku
 Norður-Ameríku
 Suður-Ameríku
 Eyjaálfu
 Antartíku

Gjaldmiðillinn í landinu heitir: _____ táknið fyrir hann er _____

Höfuborg landsins heitir: _____

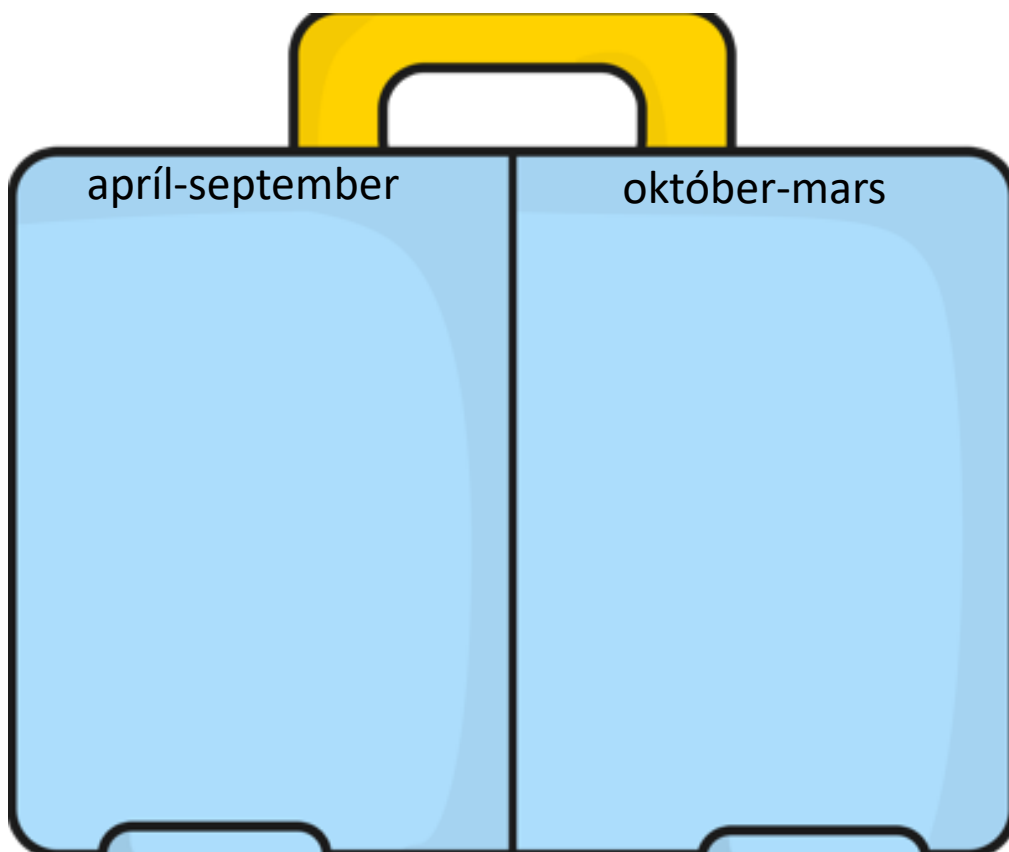
Tungumálið sem talað er í landinu er: _____

- Í landinu búa færri en 1 milljón manns
 1-10 milljón manns
 10-100 milljón manns
 100 milljón eða fleirri

Meðalhitinn apríl-september í landinu er: _____°C

Meðalhitinn október-mars í landinu er : _____°C

Hverju pakka ég þá niður í tösku ef ég fer í heimsókn þangað
Finndu myndir á netinu, afritaðu það sem þú þarft að nota og
límdu í töskuna

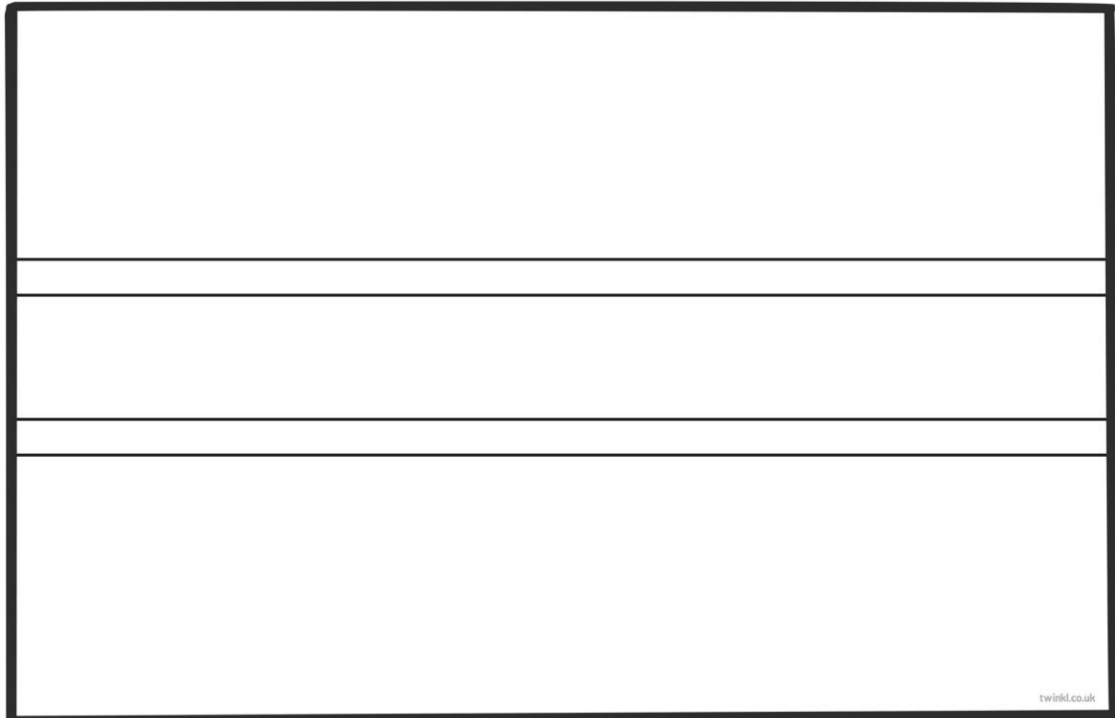


Staðsetning á hnettinum, getur afritað myndir í Wikipedia

20. Landið heitir: **Botsvana** á íslensku og

_____ á ensku

Fáni landsins lítur svona út litaðu í réttum litum



- Landið er í Evrópu
 Asíu
 Afríku
 Norður-Ameríku
 Suður-Ameríku
 Eyjaálfu
 Antartíku

Gjaldmiðillinn í landinu heitir: _____ táknið fyrir hann er _____

Höfuborg landsins heitir: _____

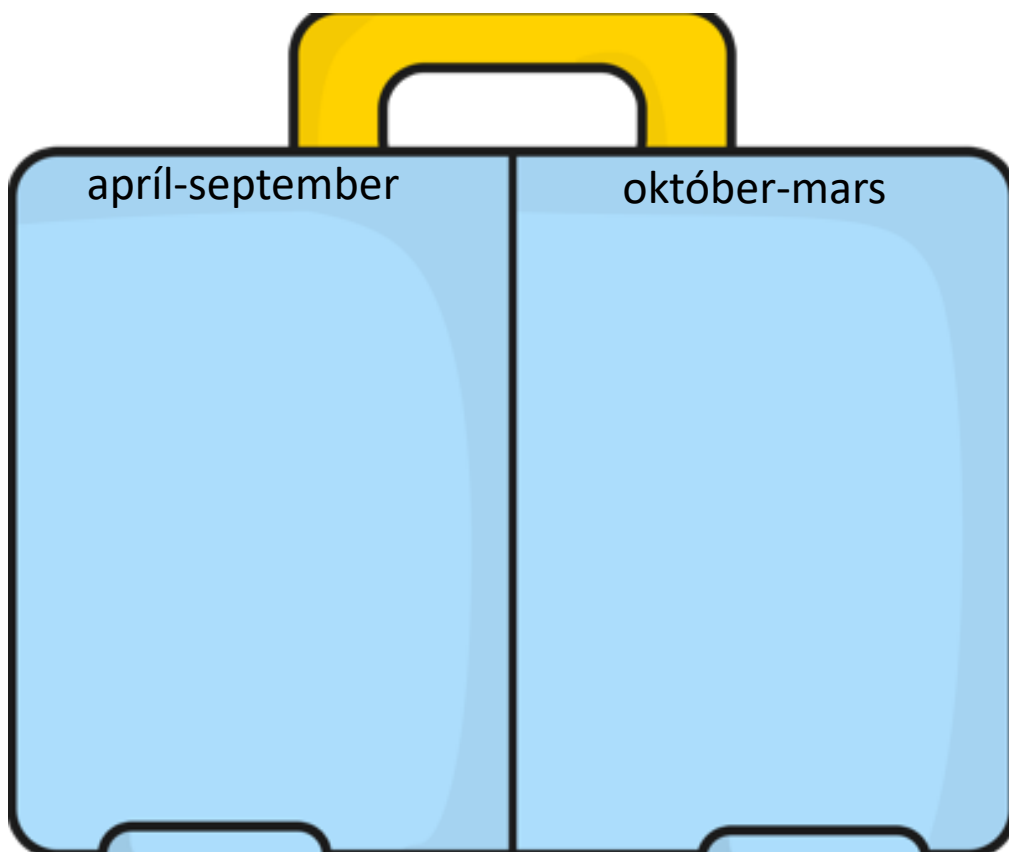
Tungumálið sem talað er í landinu er: _____

- Í landinu búa færri en 1 milljón manns
 1-10 milljón manns
 10-100 milljón manns
 100 milljón eða fleirri

Meðalhitinn apríl-september í landinu er: _____°C

Meðalhitinn október-mars í landinu er : _____°C

Hverju pakka ég þá niður í tösku ef ég fer í heimsókn þangað
Finndu myndir á netinu, afritaðu það sem þú þarft að nota og
límdu í töskuna

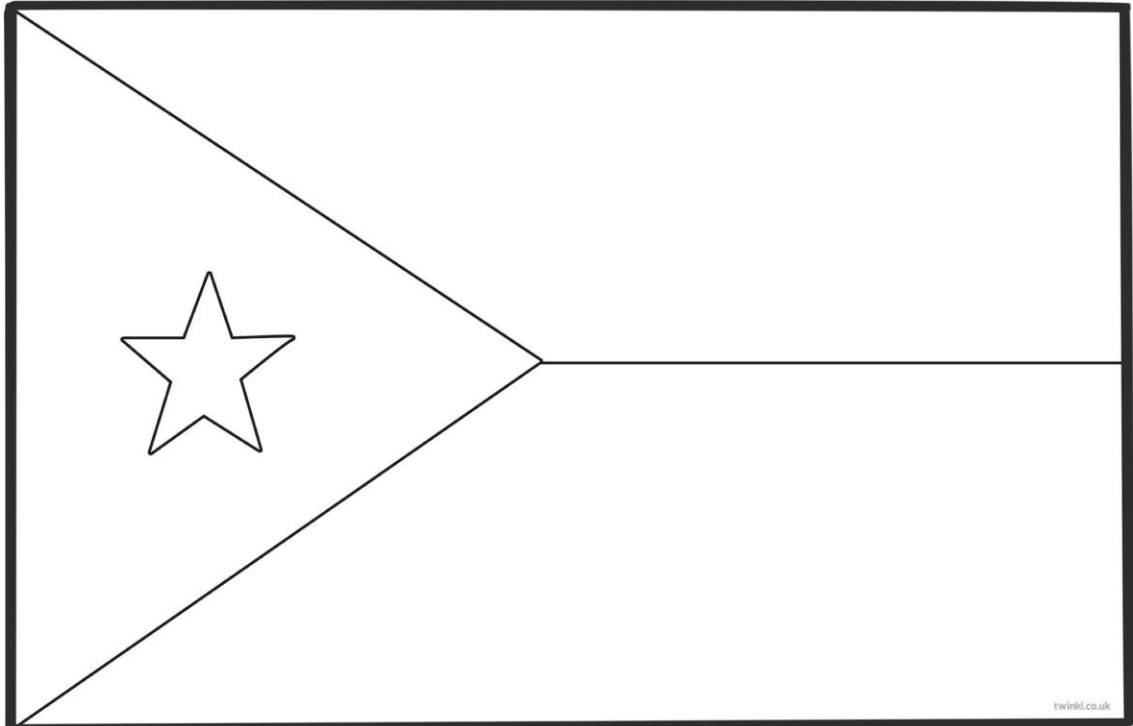


Staðsetning á hnettinum, getur afritað myndir í Wikipedia

28. Landið heitir: **Djíbúti** á íslensku og

_____ á ensku

Fáni landsins lítur svona út litaðu í réttum litum



- Landið er í Evrópu
 Asíu
 Afríku
 Norður-Ameríku
 Suður-Ameríku
 Eyjaálfu
 Antartíku

Gjaldmiðillinn í landinu heitir: _____ tákníð fyrir hann er _____

Höfuborg landsins heitir: _____

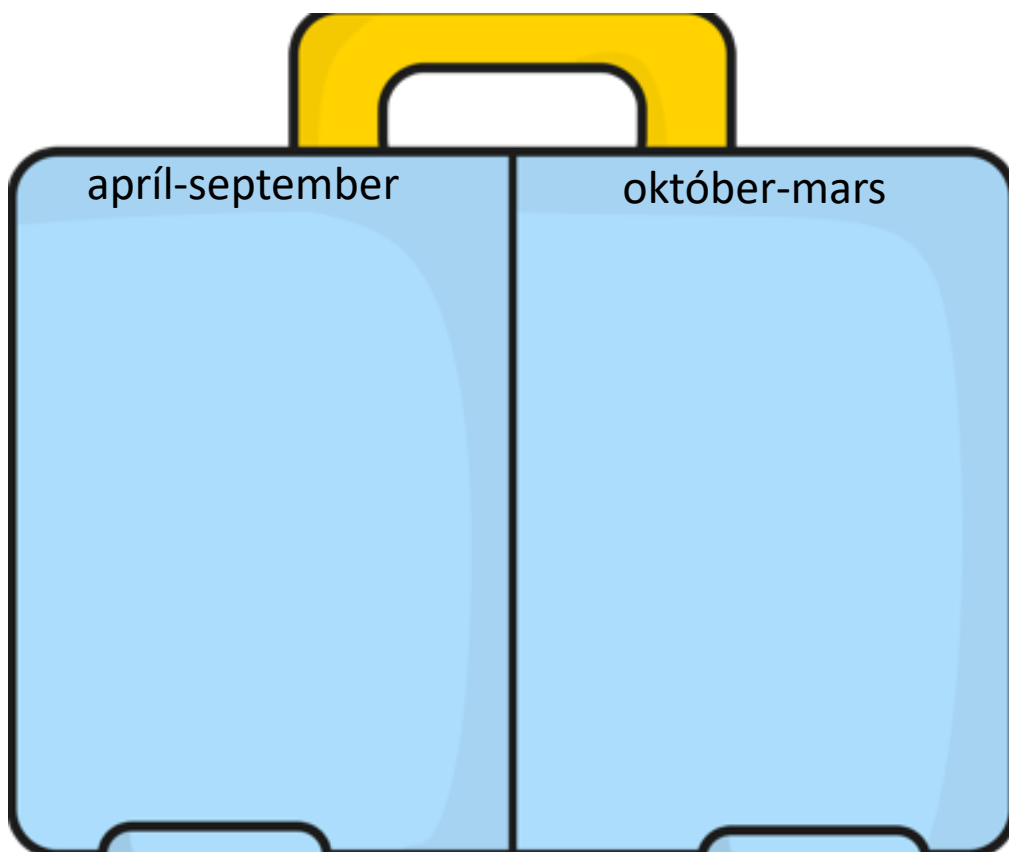
Tungumálið sem talað er í landinu er: _____

- Í landinu búa færri en 1 milljón manns
 1-10 milljón manns
 10-100 milljón manns
 100 milljón eða fleirri

Meðalhitinn apríl-september í landinu er: _____°C

Meðalhitinn október-mars í landinu er : _____°C

Hverju pakka ég þá niður í tösku ef ég fer í heimsókn þangað
Finndu myndir á netinu, afritaðu það sem þú þarft að nota og
límdu í töskuna




Staðsetning á hnettinum, getur afritað myndir í Wikipedia

30. Landið heitir: **Egyptaland** á íslensku og

_____ á ensku

Fáni landsins lítur svona út litaðu í réttum litum



- Landið er í Evrópu
 Asíu
 Afríku
 Norður-Ameríku
 Suður-Ameríku
 Eyjaálfu
 Antartíku

Gjaldmiðillinn í landinu heitir: _____ táknið fyrir hann er _____

Höfuborg landsins heitir: _____

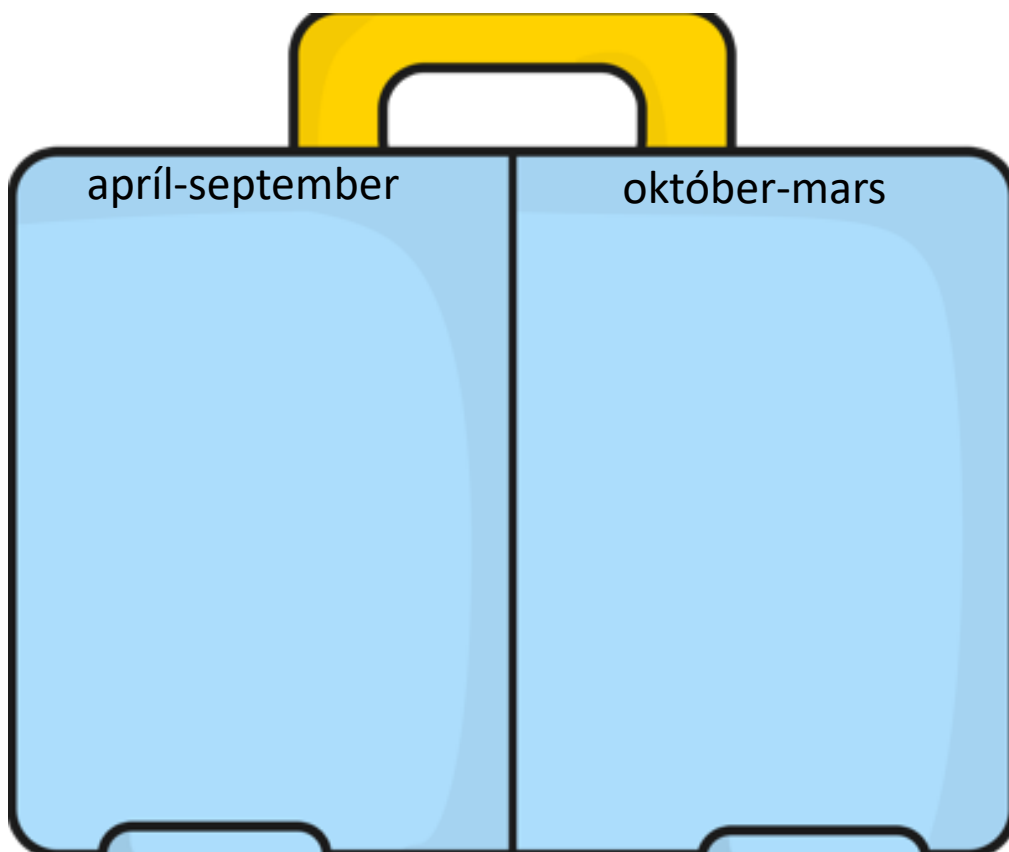
Tungumálið sem talað er í landinu er: _____

- Í landinu búa færri en 1 milljón manns
 1-10 milljón manns
 10-100 milljón manns
 100 milljón eða fleirri

Meðalhitinn apríl-september í landinu er: _____°C

Meðalhitinn október-mars í landinu er : _____°C

Hverju pakka ég þá niður í tösku ef ég fer í heimsókn þangað
Finndu myndir á netinu, afritaðu það sem þú þarft að nota og
límdu í töskuna

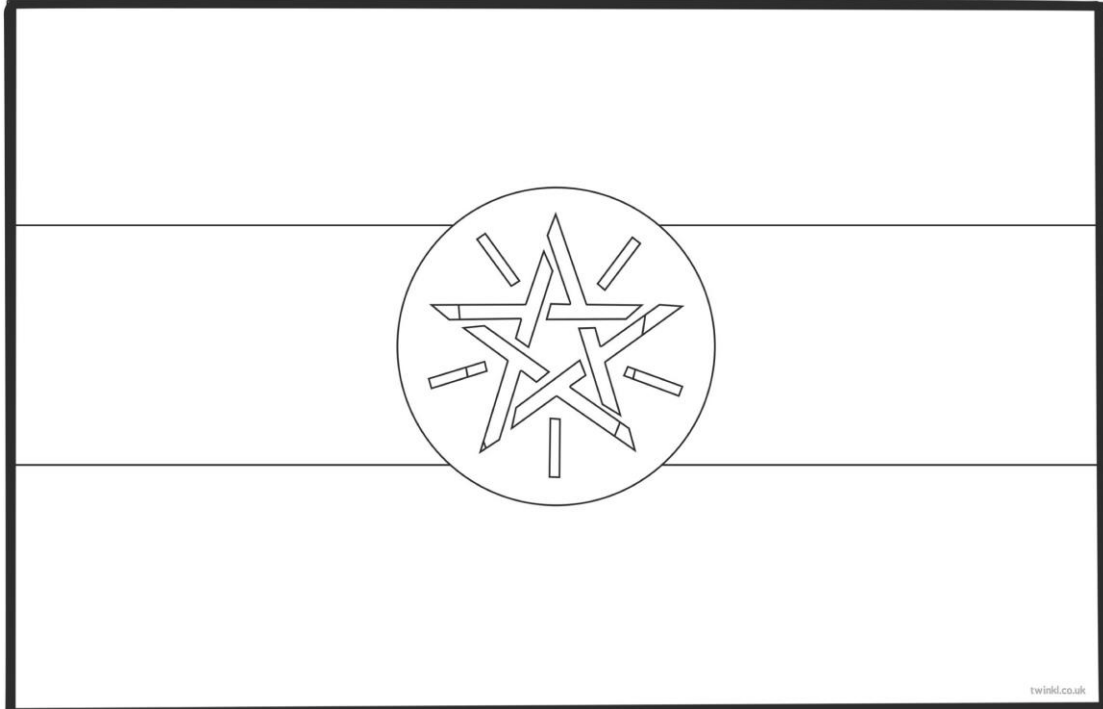


Staðsetning á hnettinum, getur afritað myndir í Wikipedia

33. Landið heitir: **Eþíópía** á íslensku og

_____ á ensku

Fáni landsins lítur svona út litaðu í réttum litum



- Landið er í Evrópu
 Asíu
 Afríku
 Norður-Ameríku
 Suður-Ameríku
 Eyjaálfu
 Antartíku

Gjaldmiðillinn í landinu heitir: _____ tákníð fyrir hann er _____

Höfuborg landsins heitir: _____

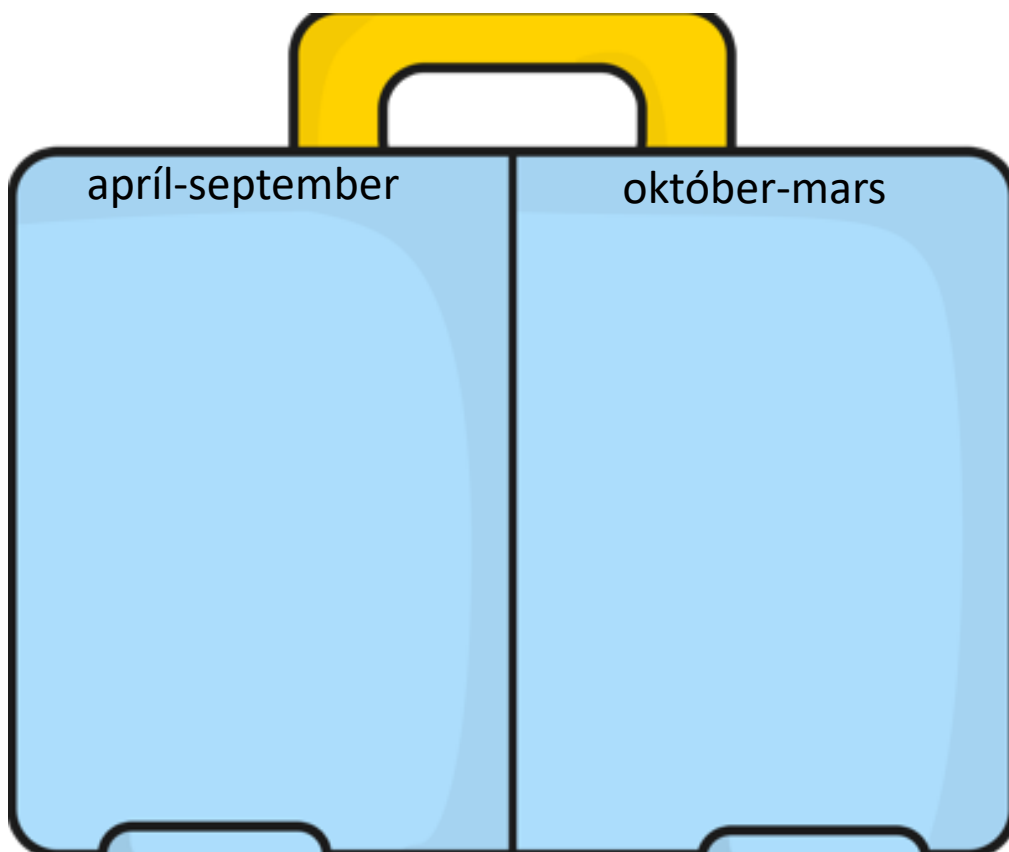
Tungumálið sem talað er í landinu er: _____

- Í landinu búa færri en 1 milljón manns
 1-10 milljón manns
 10-100 milljón manns
 100 milljón eða fleirri

Meðalhitinn apríl-september í landinu er: _____°C

Meðalhitinn október-mars í landinu er : _____°C

Hverju pakka ég þá niður í tösku ef ég fer í heimsókn þangað
Finndu myndir á netinu, afritaðu það sem þú þarft að nota og
límdu í töskuna



Staðsetning á hnettinum, getur afritað myndir í Wikipedia

35. Landið heitir: **Fílabeinsströndin** á íslensku og

_____ á ensku

Fáni landsins lítur svona út litaðu í réttum litum

--	--	--

twinkl.co.uk

- Landið er í Evrópu
 Asíu
 Afríku
 Norður-Ameríku
 Suður-Ameríku
 Eyjaálfu
 Antartíku

Gjaldmiðillinn í landinu heitir: _____ táknið fyrir hann er _____

Höfuborg landsins heitir: _____

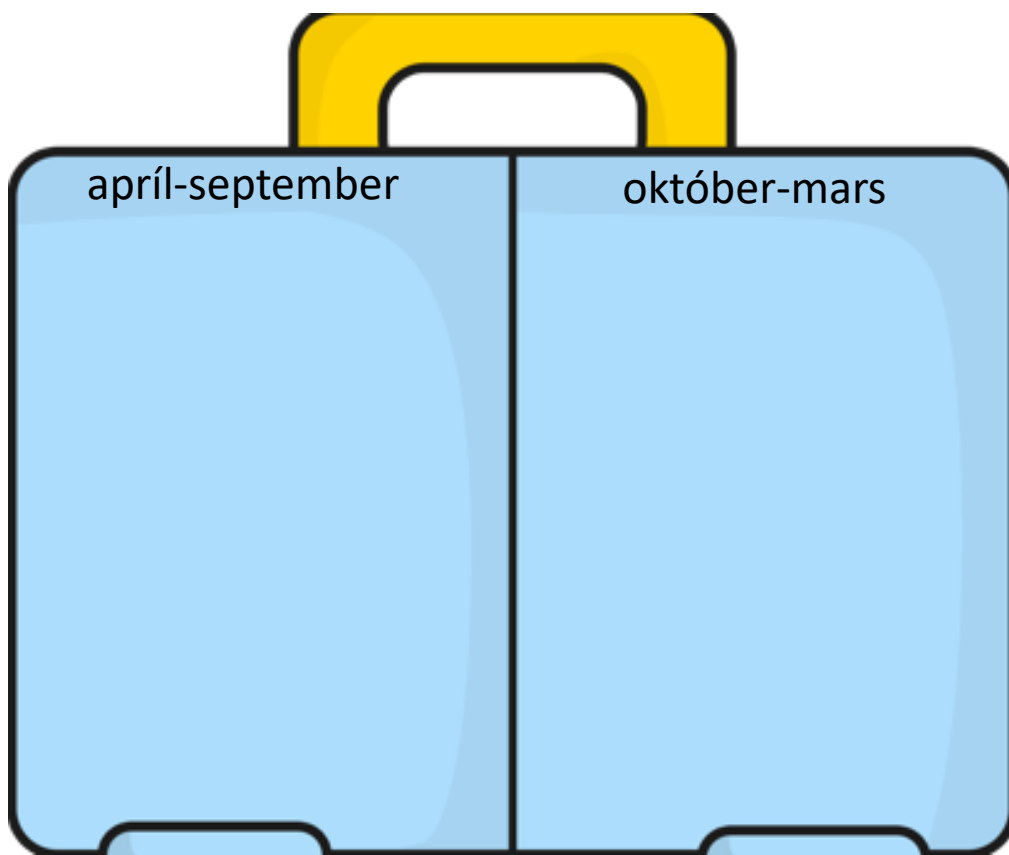
Tungumálið sem talað er í landinu er: _____

- Í landinu búa færri en 1 milljón manns
 1-10 milljón manns
 10-100 milljón manns
 100 milljón eða fleirri

Meðalhitinn apríl-september í landinu er: _____°C

Meðalhitinn október-mars í landinu er : _____°C

Hverju pakka ég þá niður í tösku ef ég fer í heimsókn þangað
Finndu myndir á netinu, afritaðu það sem þú þarft að nota og
límdu í töskuna



Staðsetning á hnettinum, getur afritað myndir í Wikipedia

39. Landið heitir: **Gabon** á íslensku og

á ensku

Fáni landsins lítur svona út litaðu í réttum litum

- Landið er í Evrópu
 Asíu
 Afríku
 Norður-Ameríku
 Suður-Ameríku
 Eyjaálfu
 Antartíku

Gjaldmiðillinn í landinu heitir: _____ táknið fyrir hann er _____

Höfuborg landsins heitir: _____

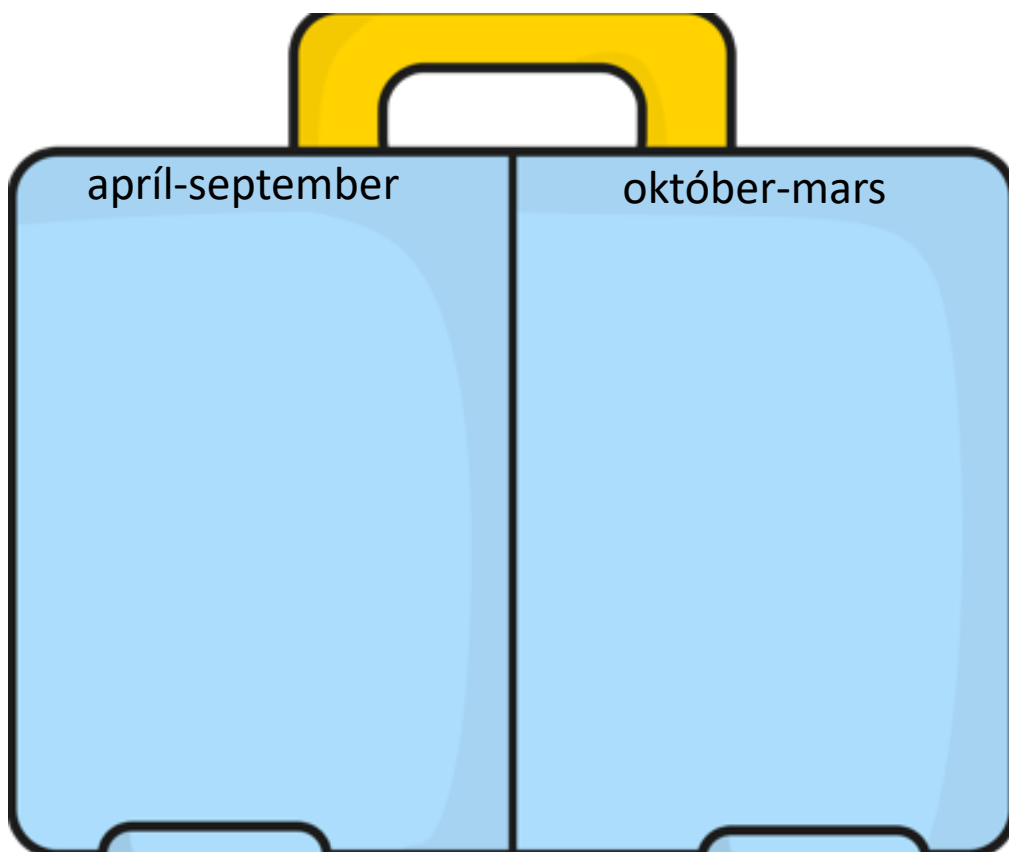
Tungumálið sem talað er í landinu er: _____

- Í landinu búa færri en 1 milljón manns
 1-10 milljón manns
 10-100 milljón manns
 100 milljón eða fleirri

Meðalhitinn apríl-september í landinu er: _____°C

Meðalhitinn október-mars í landinu er : _____°C

Hverju pakka ég þá niður í tösku ef ég fer í heimsókn þangað
Finndu myndir á netinu, afritaðu það sem þú þarft að nota og
límdu í töskuna



Staðsetning á hnettinum, getur afritað myndir í Wikipedia

40. Landið heitir: **Gambía** á íslensku og

á ensku

Fáni landsins lítur svona út litaðu í réttum litum

- Landið er í Evrópu
 Asíu
 Afríku
 Norður-Ameríku
 Suður-Ameríku
 Eyjaálfu
 Antartíku

Gjaldmiðillinn í landinu heitir: _____ táknið fyrir hann er _____

Höfuborg landsins heitir: _____

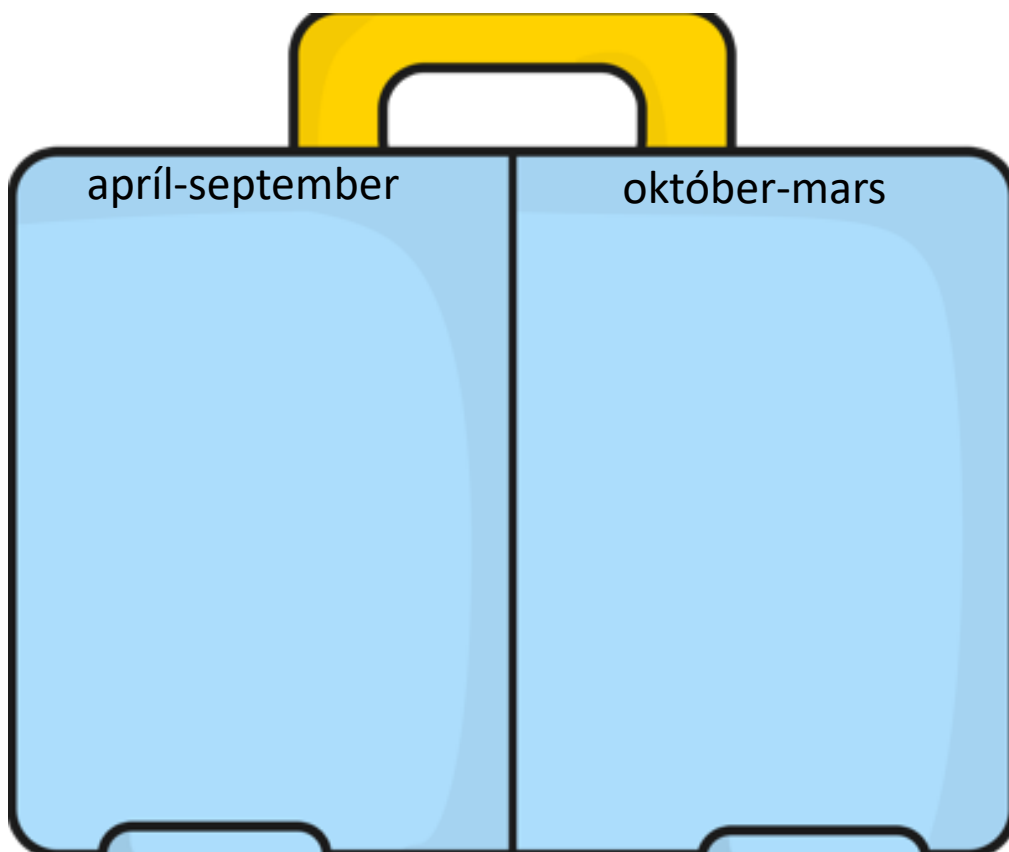
Tungumálið sem talað er í landinu er: _____

- Í landinu búa færri en 1 milljón manns
 1-10 milljón manns
 10-100 milljón manns
 100 milljón eða fleirri

Meðalhitinn apríl-september í landinu er: _____°C

Meðalhitinn október-mars í landinu er : _____°C

Hverju pakka ég þá niður í tösku ef ég fer í heimsókn þangað
Finndu myndir á netinu, afritaðu það sem þú þarft að nota og
límdu í töskuna

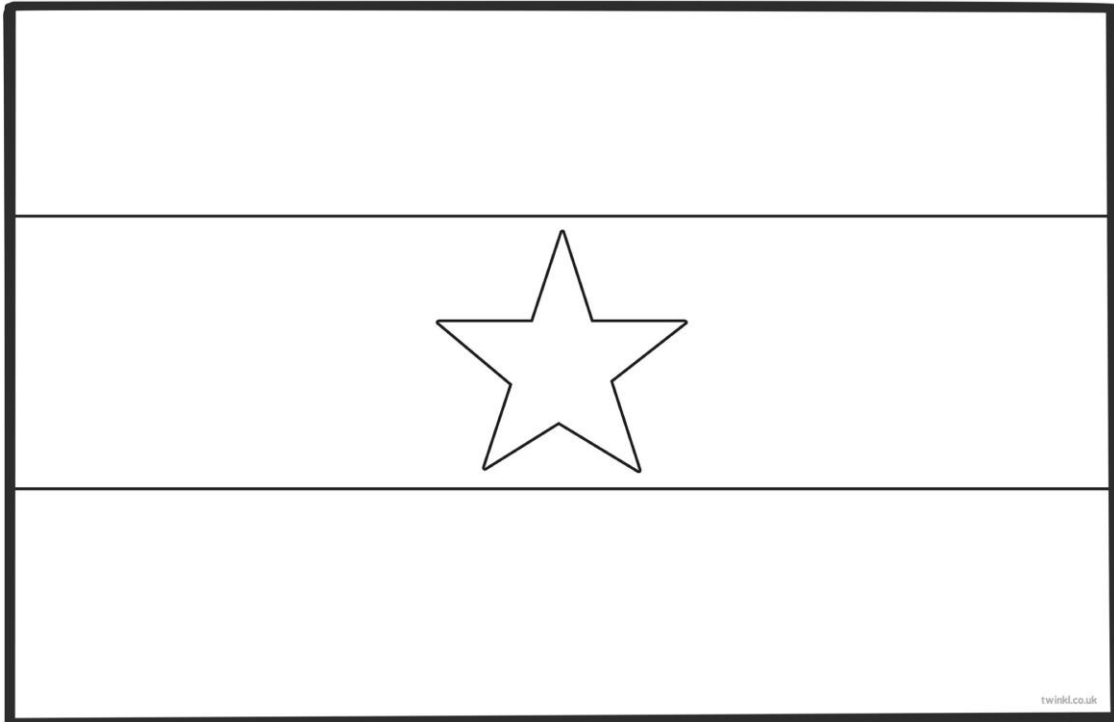


Staðsetning á hnettinum, getur afritað myndir í Wikipedia

41. Landið heitir: **Gana** á íslensku og

_____ á ensku

Fáni landsins lítur svona út litaðu í réttum litum



- Landið er í Evrópu
 Asíu
 Afríku
 Norður-Ameríku
 Suður-Ameríku
 Eyjaálfu
 Antartíku

Gjaldmiðillinn í landinu heitir: _____ táknið fyrir hann er _____

Höfuborg landsins heitir: _____

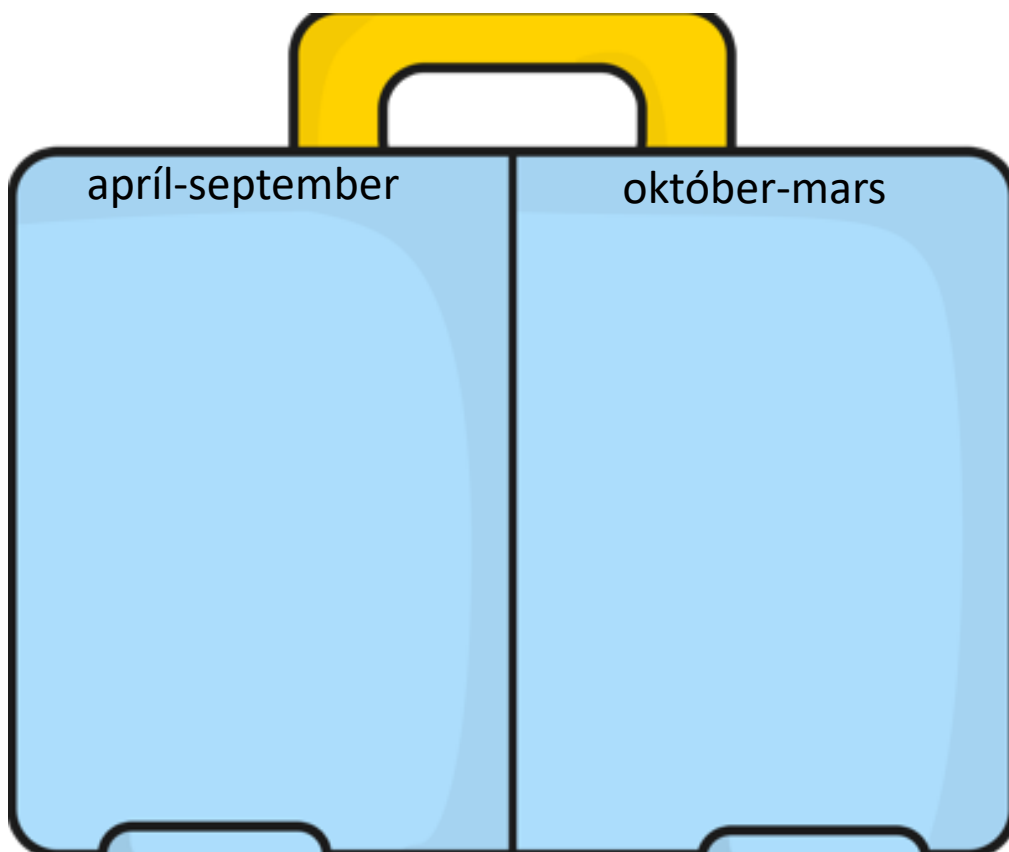
Tungumálið sem talað er í landinu er: _____

- Í landinu búa færri en 1 milljón manns
 1-10 milljón manns
 10-100 milljón manns
 100 milljón eða fleirri

Meðalhitinn apríl-september í landinu er: _____°C

Meðalhitinn október-mars í landinu er : _____°C

Hverju pakka ég þá niður í tösku ef ég fer í heimsókn þangað
Finndu myndir á netinu, afritaðu það sem þú þarft að nota og
límdu í töskuna



Staðsetning á hnettinum, getur afritað myndir í Wikipedia

43. Landið heitir: **Gínea** á íslensku og

_____ á ensku

Fáni landsins lítur svona út litaðu í réttum litum

--	--	--

twinkl.co.uk

- Landið er í Evrópu
 Asíu
 Afríku
 Norður-Ameríku
 Suður-Ameríku
 Eyjaálfu
 Antartíku

Gjaldmiðillinn í landinu heitir: _____ táknið fyrir hann er _____

Höfuborg landsins heitir: _____

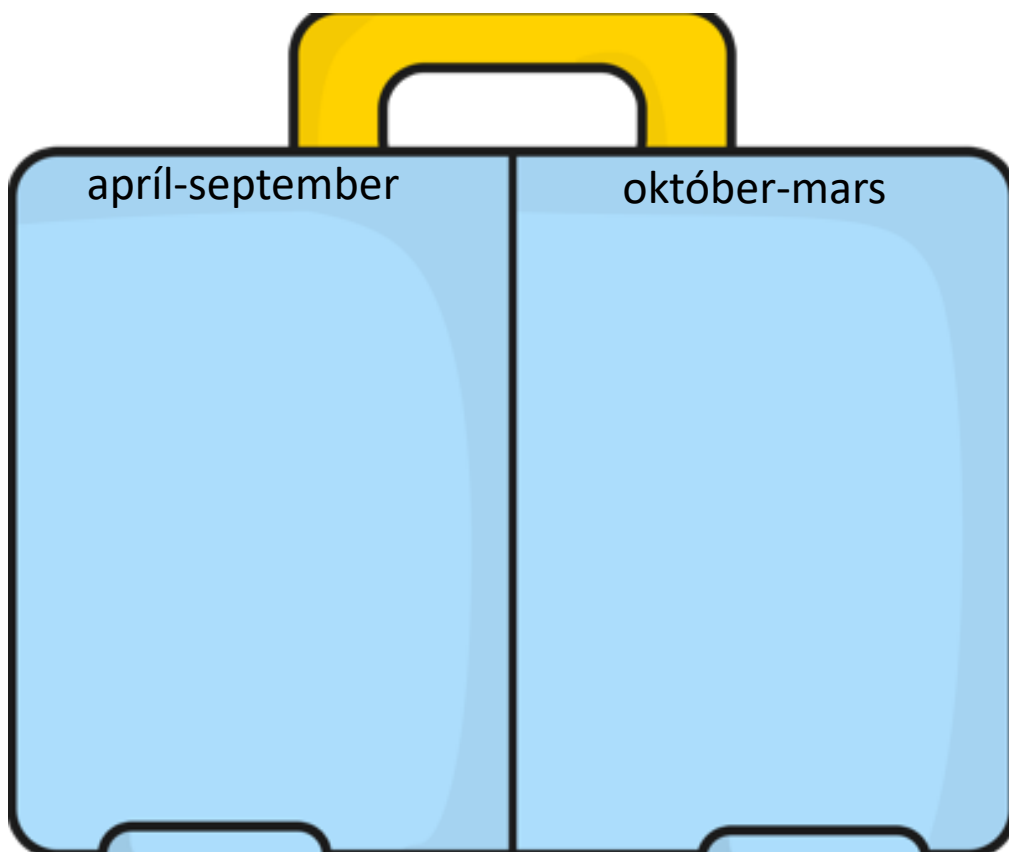
Tungumálið sem talað er í landinu er: _____

- Í landinu búa færri en 1 milljón manns
 1-10 milljón manns
 10-100 milljón manns
 100 milljón eða fleirri

Meðalhitinn apríl-september í landinu er: _____°C

Meðalhitinn október-mars í landinu er : _____°C

Hverju pakka ég þá niður í tösku ef ég fer í heimsókn þangað
Finndu myndir á netinu, afritaðu það sem þú þarft að nota og
límdu í töskuna




Staðsetning á hnettinum, getur afritað myndir í Wikipedia

62. Landið heitir: **Kamerún** á íslensku og

_____ á ensku

Fáni landsins lítur svona út litaðu í réttum litum



- Landið er í Evrópu
 Asíu
 Afríku
 Norður-Ameríku
 Suður-Ameríku
 Eyjaálfu
 Antartíku

Gjaldmiðillinn í landinu heitir: _____ táknið fyrir hann er _____

Höfuborg landsins heitir: _____

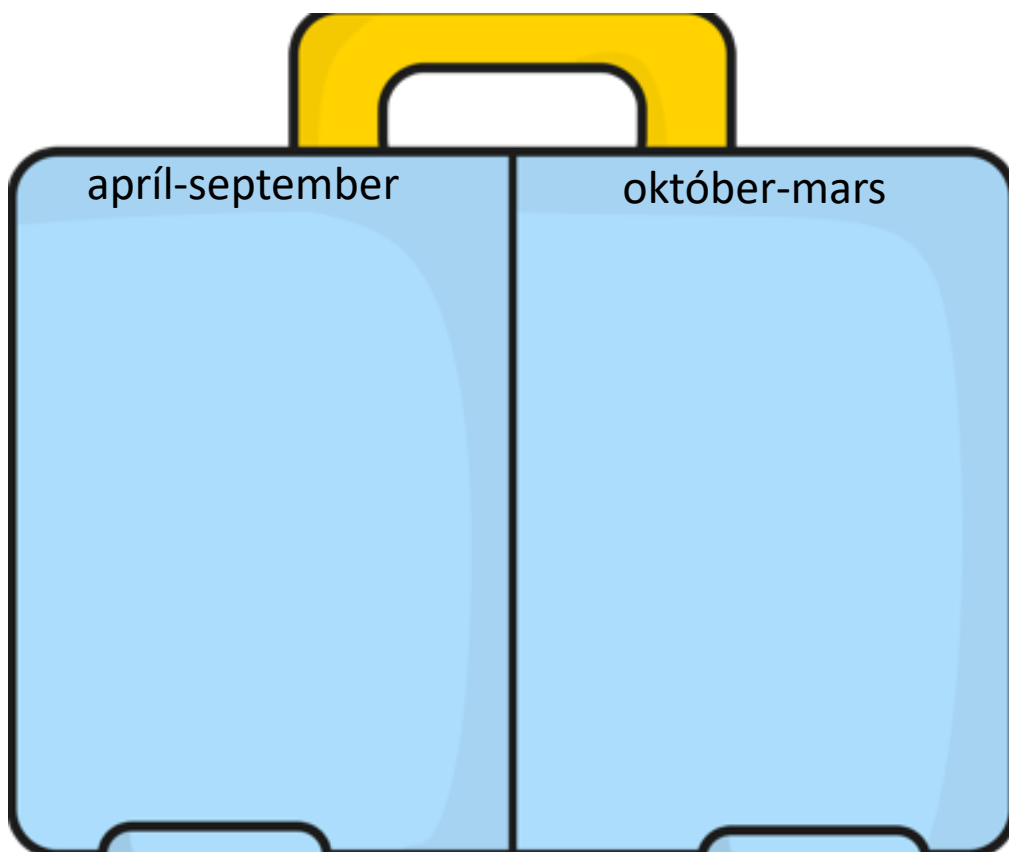
Tungumálið sem talað er í landinu er: _____

- Í landinu búa færri en 1 milljón manns
 1-10 milljón manns
 10-100 milljón manns
 100 milljón eða fleirri

Meðalhitinn apríl-september í landinu er: _____°C

Meðalhitinn október-mars í landinu er : _____°C

Hverju pakka ég þá niður í tösku ef ég fer í heimsókn þangað
Finndu myndir á netinu, afritaðu það sem þú þarft að nota og
límdu í töskuna

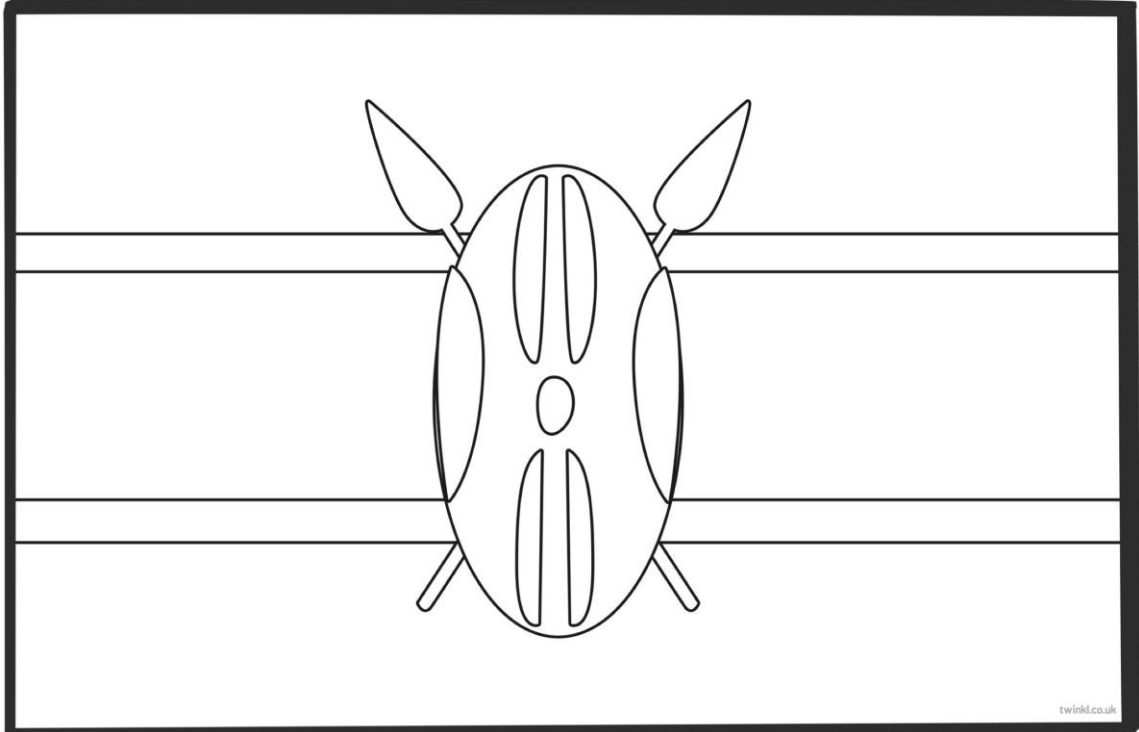


Staðsetning á hnettinum, getur afritað myndir í Wikipedia

66. Landið heitir: **Kenía** á íslensku og

_____ á ensku

Fáni landsins lítur svona út litaðu í réttum litum



- Landið er í Evrópu
 Asíu
 Afríku
 Norður-Ameríku
 Suður-Ameríku
 Eyjaálfu
 Antartíku

Gjaldmiðillinn í landinu heitir: _____ táknið fyrir hann er _____

Höfuborg landsins heitir: _____

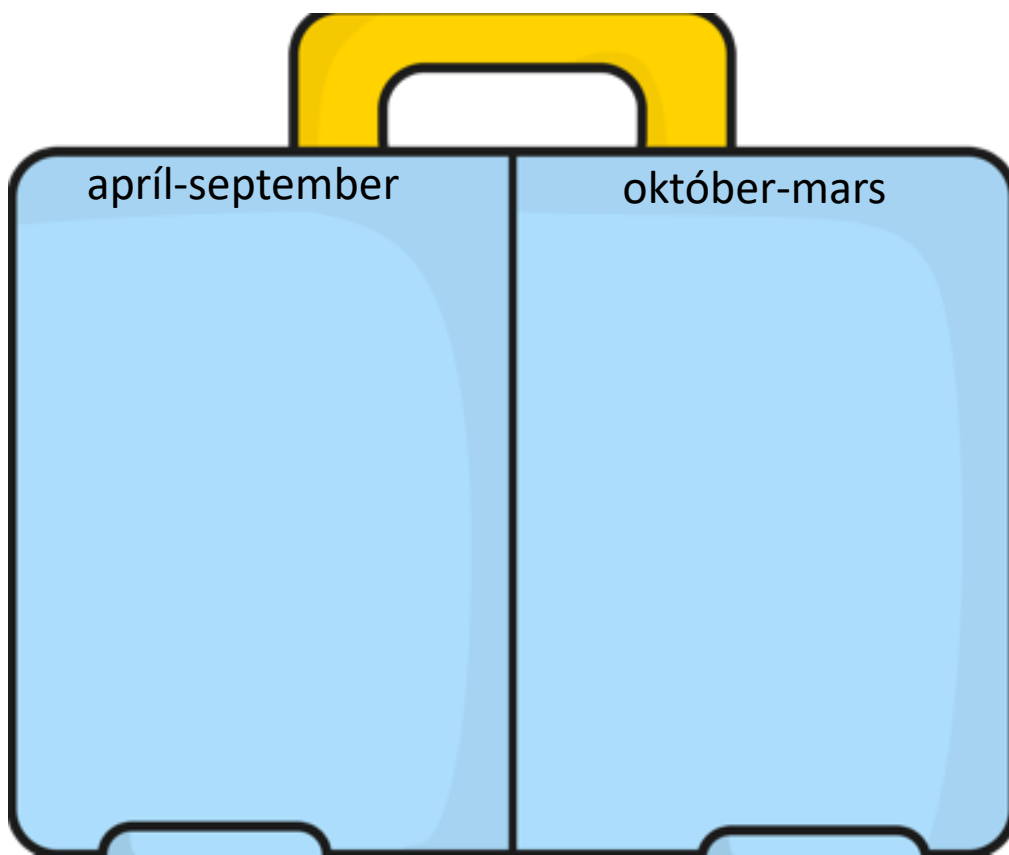
Tungumálið sem talað er í landinu er: _____

- Í landinu búa færri en 1 milljón manns
 1-10 milljón manns
 10-100 milljón manns
 100 milljón eða fleirri

Meðalhitinn apríl-september í landinu er: _____°C

Meðalhitinn október-mars í landinu er : _____°C

Hverju pakka ég þá niður í tösku ef ég fer í heimsókn þangað
Finndu myndir á netinu, afritaðu það sem þú þarft að nota og
límdu í töskuna




Staðsetning á hnettinum, getur afritað myndir í Wikipedia

77. Landið heitir: **Lesótó** á íslensku og

á ensku

Fáni landsins lítur svona út litaðu í réttum litum



- Landið er í Evrópu
 Asíu
 Afríku
 Norður-Ameríku
 Suður-Ameríku
 Eyjaálfu
 Antartíku

Gjaldmiðillinn í landinu heitir: _____ táknið fyrir hann er _____

Höfuborg landsins heitir: _____

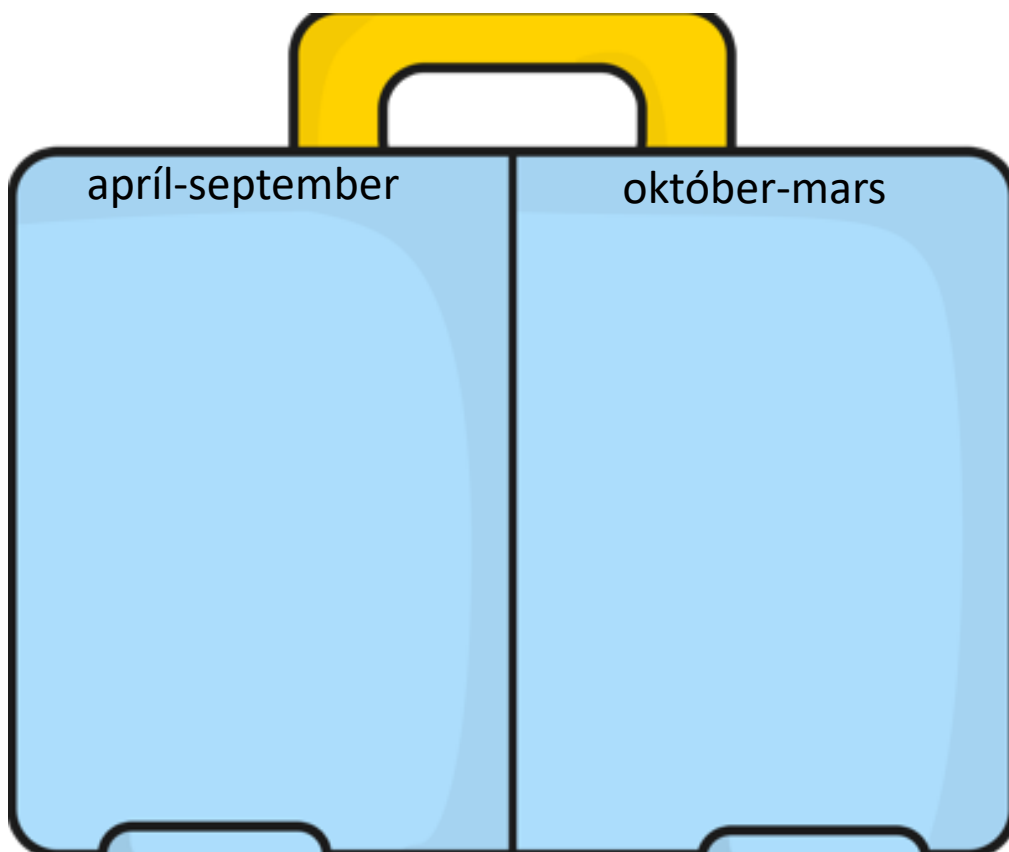
Tungumálið sem talað er í landinu er: _____

- Í landinu búa færri en 1 milljón manns
 1-10 milljón manns
 10-100 milljón manns
 100 milljón eða fleirri

Meðalhitinn apríl-september í landinu er: _____°C

Meðalhitinn október-mars í landinu er : _____°C

Hverju pakka ég þá niður í tösku ef ég fer í heimsókn þangað
Finndu myndir á netinu, afritaðu það sem þú þarft að nota og
límdu í töskuna




Staðsetning á hnettinum, getur afritað myndir í Wikipedia

80. Landið heitir: **Líbería** á íslensku og

á ensku

Fáni landsins lítur svona út litaðu í réttum litum



- Landið er í Evrópu
 Asíu
 Afríku
 Norður-Ameríku
 Suður-Ameríku
 Eyjaálfu
 Antartíku

Gjaldmiðillinn í landinu heitir: _____ táknið fyrir hann er _____

Höfuborg landsins heitir: _____

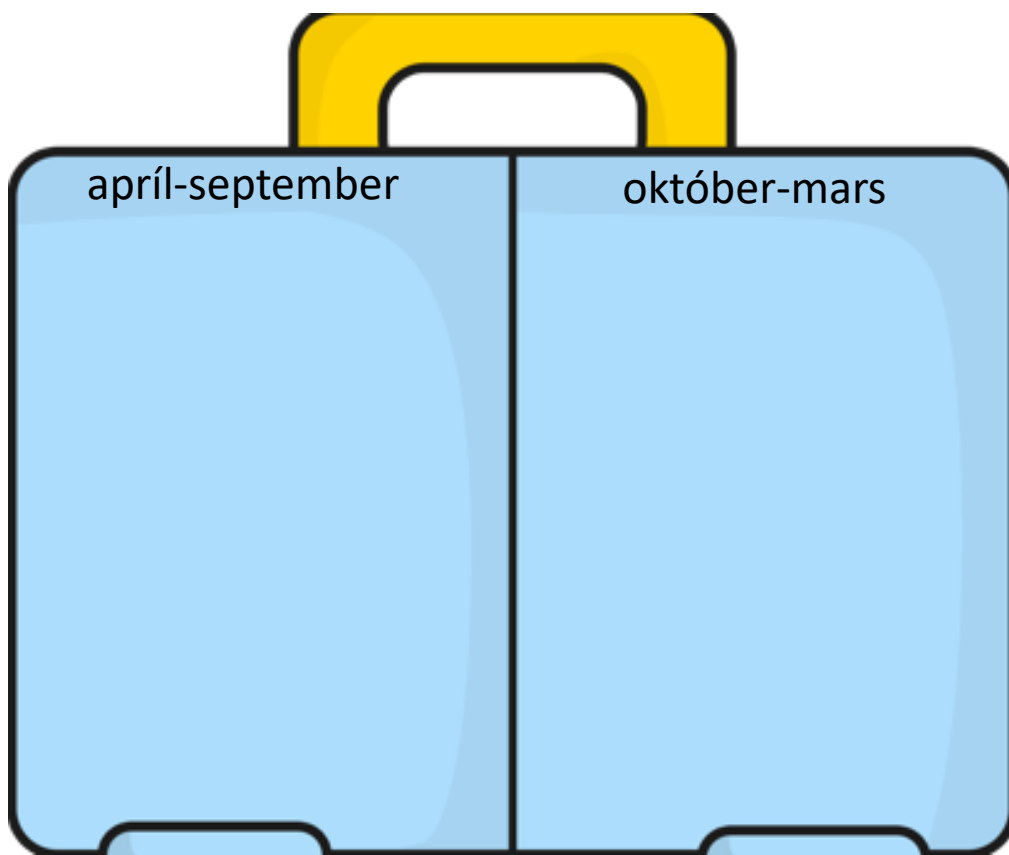
Tungumálið sem talað er í landinu er: _____

- Í landinu búa færri en 1 milljón manns
 1-10 milljón manns
 10-100 milljón manns
 100 milljón eða fleirri

Meðalhitinn apríl-september í landinu er: _____°C

Meðalhitinn október-mars í landinu er : _____°C

Hverju pakka ég þá niður í tösku ef ég fer í heimsókn þangað
Finndu myndir á netinu, afritaðu það sem þú þarft að nota og
límdu í töskuna




Staðsetning á hnettinum, getur afritað myndir í Wikipedia

84. Landið heitir: **Madagaskar** á íslensku og

á ensku

Fáni landsins lítur svona út litaðu í réttum litum



- Landið er í Evrópu
 Asíu
 Afríku
 Norður-Ameríku
 Suður-Ameríku
 Eyjaálfu
 Antartíku

Gjaldmiðillinn í landinu heitir: _____ táknið fyrir hann er _____

Höfuborg landsins heitir: _____

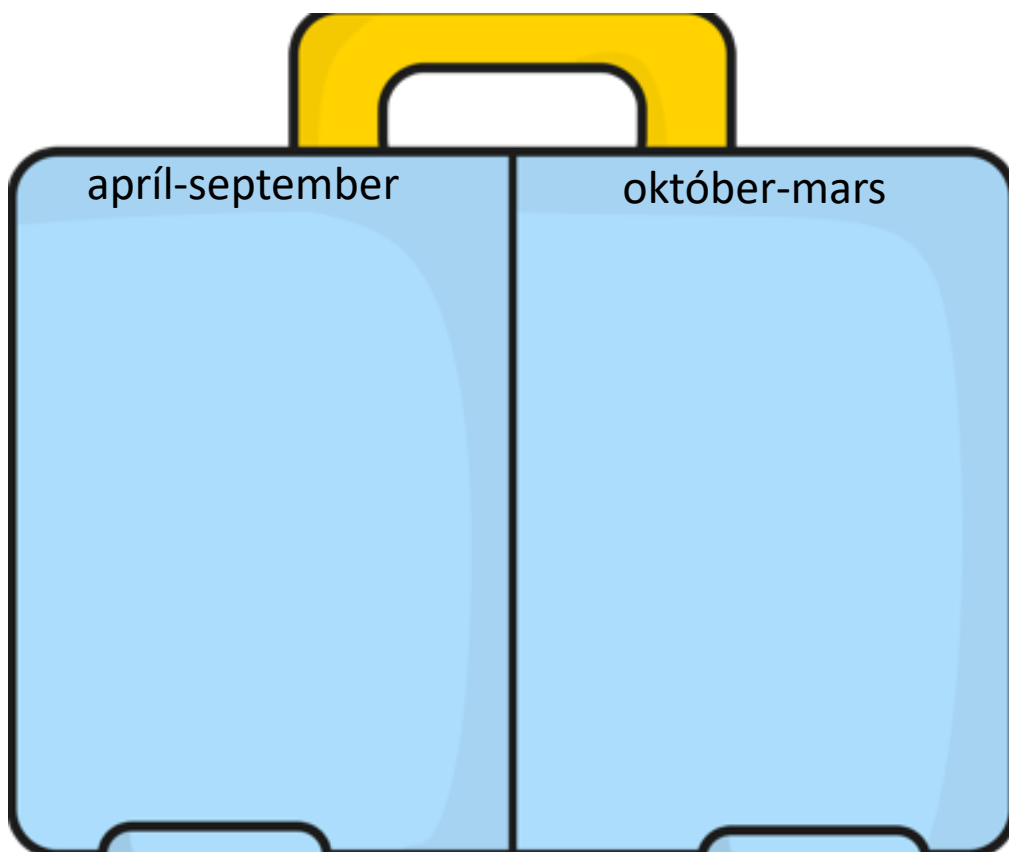
Tungumálið sem talað er í landinu er: _____

- Í landinu búa færri en 1 milljón manns
 1-10 milljón manns
 10-100 milljón manns
 100 milljón eða fleirri

Meðalhitinn apríl-september í landinu er: _____°C

Meðalhitinn október-mars í landinu er : _____°C

Hverju pakka ég þá niður í tösku ef ég fer í heimsókn þangað
Finndu myndir á netinu, afritaðu það sem þú þarft að nota og
límdu í töskuna

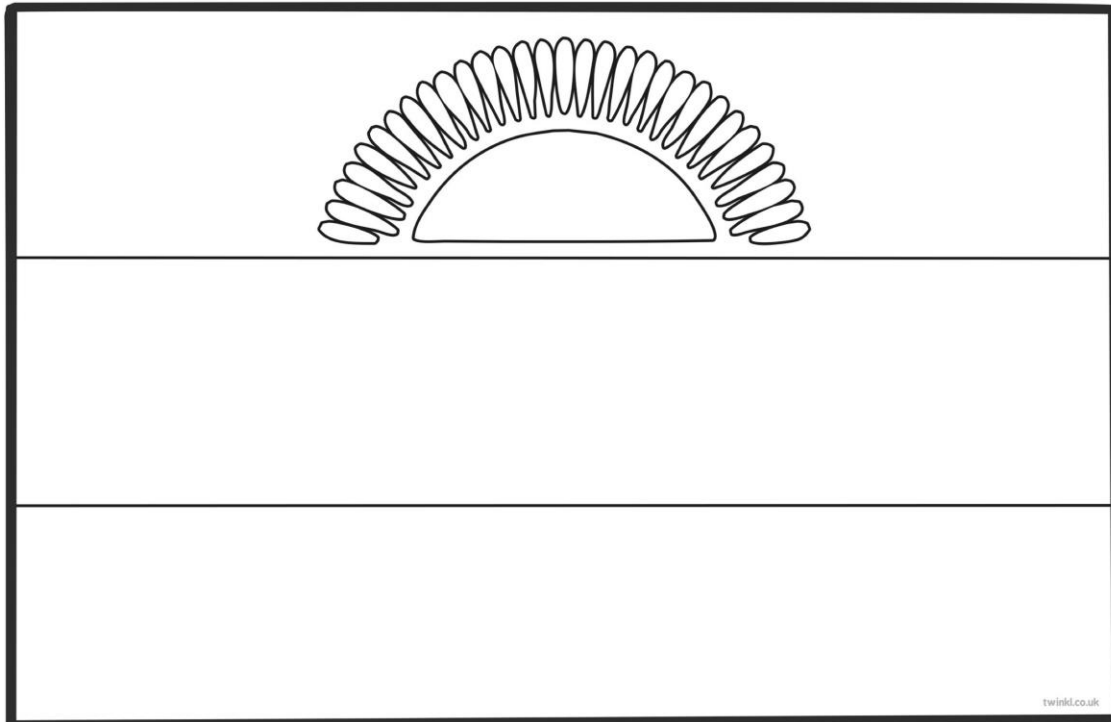


Staðsetning á hnettinum, getur afritað myndir í Wikipedia

87. Landið heitir: **Malaví** á íslensku og

_____ á ensku

Fáni landsins lítur svona út litaðu í réttum litum



- Landið er í Evrópu
 Asíu
 Afríku
 Norður-Ameríku
 Suður-Ameríku
 Eyjaálfu
 Antartíku

Gjaldmiðillinn í landinu heitir: _____ táknið fyrir hann er _____

Höfuborg landsins heitir: _____

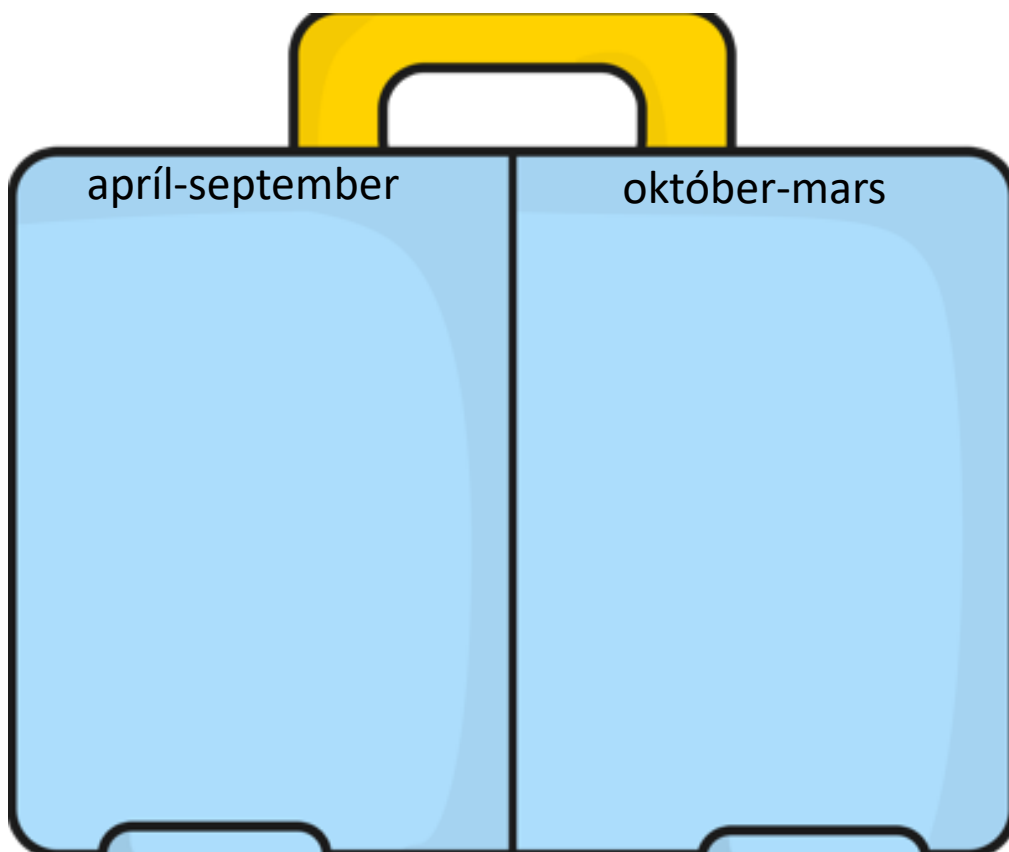
Tungumálið sem talað er í landinu er: _____

- Í landinu búa færri en 1 milljón manns
 1-10 milljón manns
 10-100 milljón manns
 100 milljón eða fleirri

Meðalhitinn apríl-september í landinu er: _____°C

Meðalhitinn október-mars í landinu er : _____°C

Hverju pakka ég þá niður í tösku ef ég fer í heimsókn þangað
Finndu myndir á netinu, afritaðu það sem þú þarft að nota og
límdu í töskuna



Staðsetning á hnettinum, getur afritað myndir í Wikipedia

89. Landið heitir: **Malí** á íslensku og

_____ á ensku

Fáni landsins lítur svona út litaðu í réttum litum

--	--	--

twinkl.co.uk

- Landið er í Evrópu
 Asíu
 Afríku
 Norður-Ameríku
 Suður-Ameríku
 Eyjaálfu
 Antartíku

Gjaldmiðillinn í landinu heitir: _____ táknið fyrir hann er _____

Höfuborg landsins heitir: _____

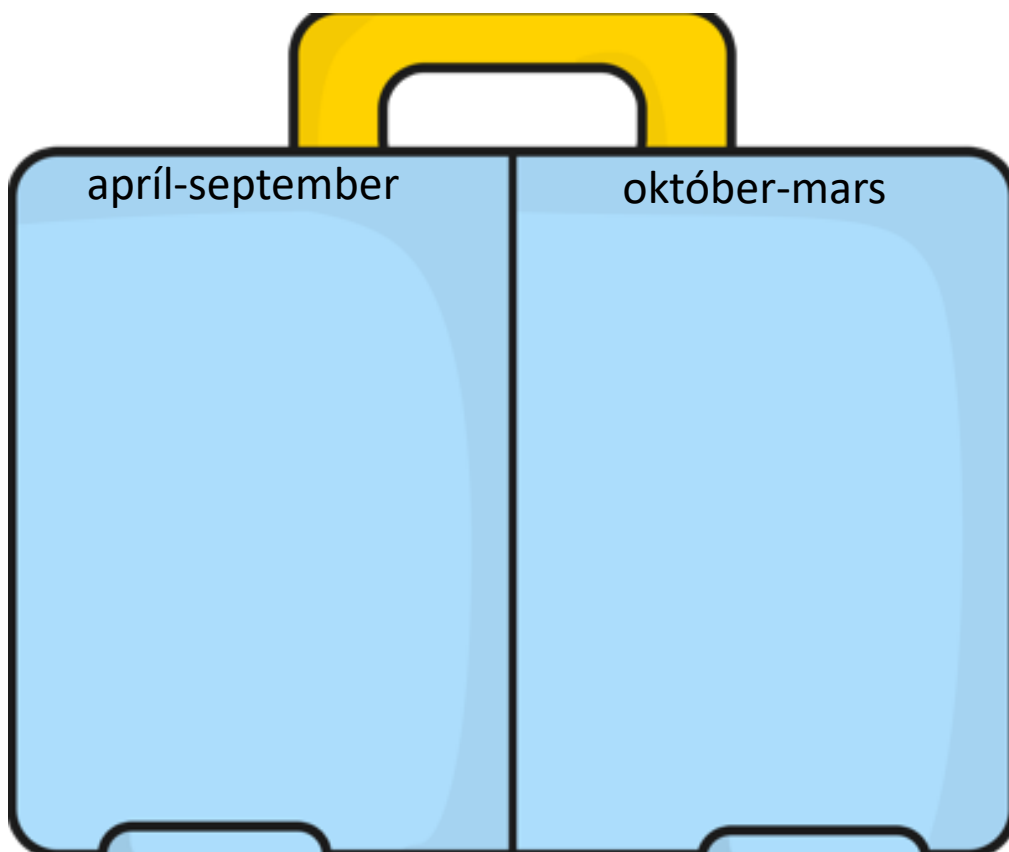
Tungumálið sem talað er í landinu er: _____

- Í landinu búa færri en 1 milljón manns
 1-10 milljón manns
 10-100 milljón manns
 100 milljón eða fleirri

Meðalhitinn apríl-september í landinu er: _____°C

Meðalhitinn október-mars í landinu er : _____°C

Hverju pakka ég þá niður í tösku ef ég fer í heimsókn þangað
Finndu myndir á netinu, afritaðu það sem þú þarft að nota og
límdu í töskuna



Staðsetning á hnettinum, getur afritað myndir í Wikipedia

91. Landið heitir: **Máritanía** á íslensku og

_____ á ensku

Fáni landsins lítur svona út litaðu í réttum litum

twinkl.co.uk

- Landið er í Evrópu
 Asíu
 Afríku
 Norður-Ameríku
 Suður-Ameríku
 Eyjaálfu
 Antartíku

Gjaldmiðillinn í landinu heitir: _____ táknið fyrir hann er _____

Höfuborg landsins heitir: _____

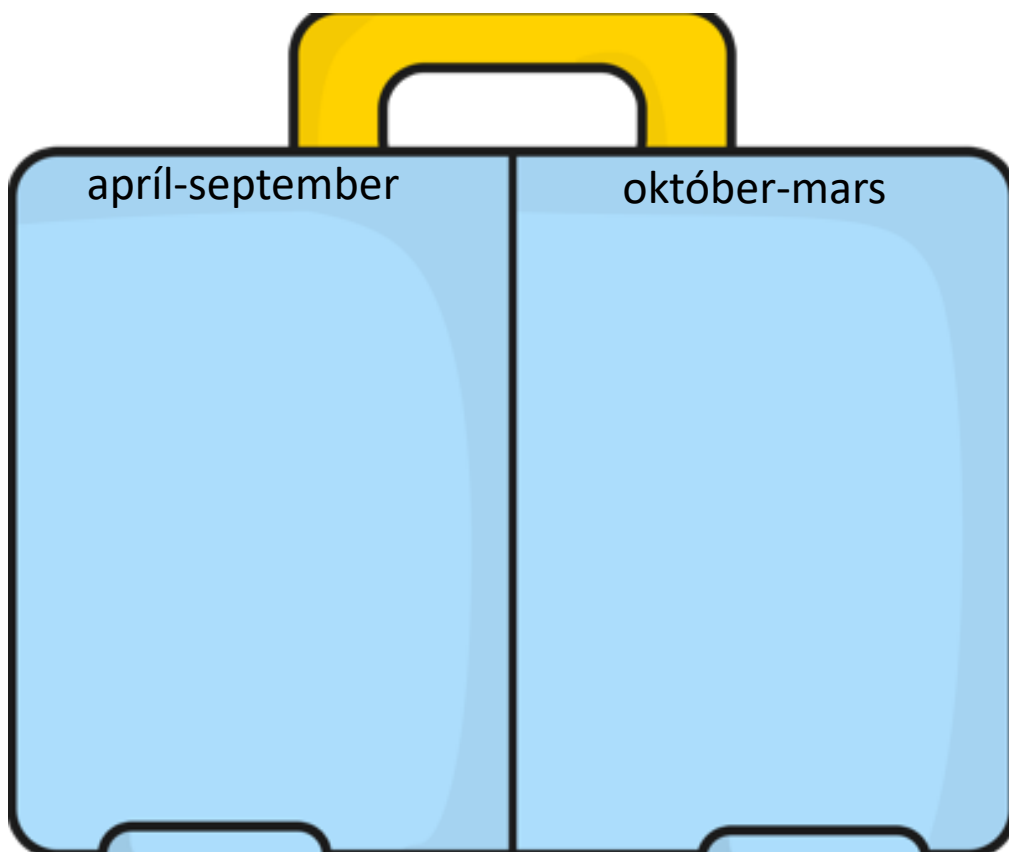
Tungumálið sem talað er í landinu er: _____

- Í landinu búa færri en 1 milljón manns
 1-10 milljón manns
 10-100 milljón manns
 100 milljón eða fleirri

Meðalhitinn apríl-september í landinu er: _____°C

Meðalhitinn október-mars í landinu er : _____°C

Hverju pakka ég þá niður í tösku ef ég fer í heimsókn þangað
Finndu myndir á netinu, afritaðu það sem þú þarft að nota og
límdu í töskuna




Staðsetning á hnettinum, getur afritað myndir í Wikipedia

92. Landið heitir: **Marokkó** á íslensku og

_____ á ensku

Fáni landsins lítur svona út litaðu í réttum litum



- Landið er í Evrópu
 Asíu
 Afríku
 Norður-Ameríku
 Suður-Ameríku
 Eyjaálfu
 Antartíku

Gjaldmiðillinn í landinu heitir: _____ táknið fyrir hann er _____

Höfuborg landsins heitir: _____

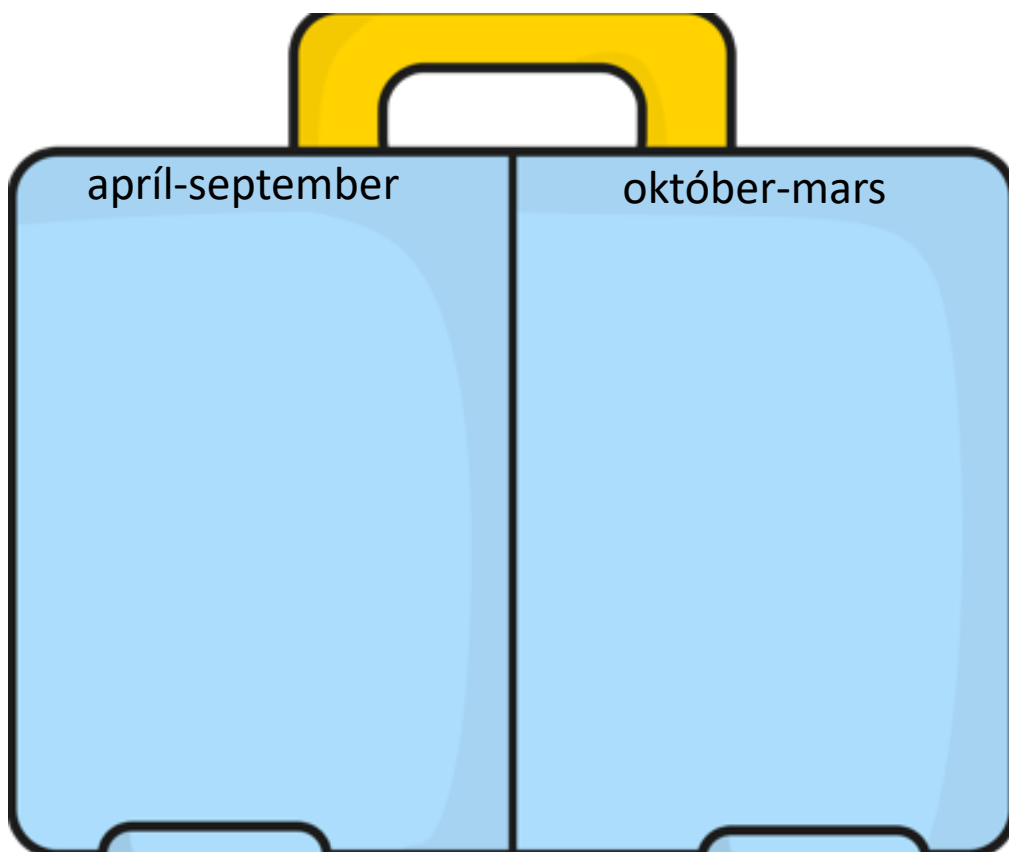
Tungumálið sem talað er í landinu er: _____

- Í landinu búa færri en 1 milljón manns
 1-10 milljón manns
 10-100 milljón manns
 100 milljón eða fleirri

Meðalhitinn apríl-september í landinu er: _____°C

Meðalhitinn október-mars í landinu er : _____°C

Hverju pakka ég þá niður í tösku ef ég fer í heimsókn þangað
Finndu myndir á netinu, afritaðu það sem þú þarft að nota og
límdu í töskuna

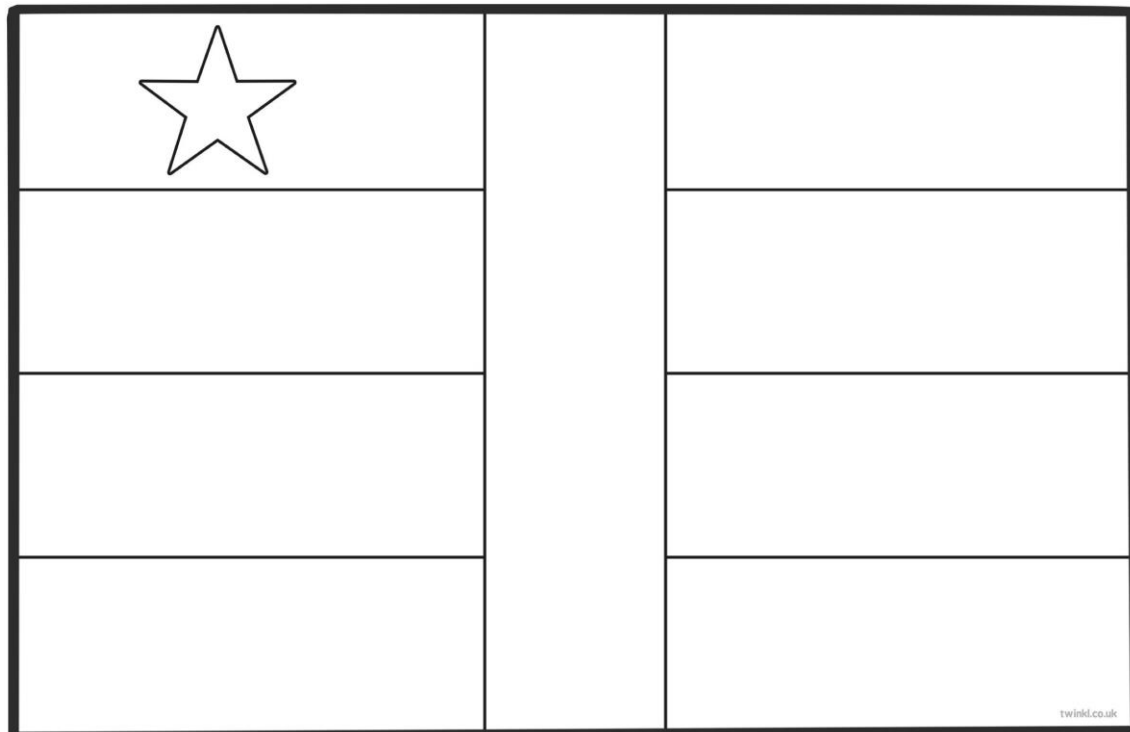


Staðsetning á hnettinum, getur afritað myndir í Wikipedia

94. Landið heitir: **Mið-Afríkulyðveldið** á íslensku og

_____ á ensku

Fáni landsins lítur svona út litaðu í réttum litum



- Landið er í Evrópu
 Asíu
 Afríku
 Norður-Ameríku
 Suður-Ameríku
 Eyjaálfu
 Antartíku

Gjaldmiðillinn í landinu heitir: _____ táknið fyrir hann er _____

Höfuborg landsins heitir: _____

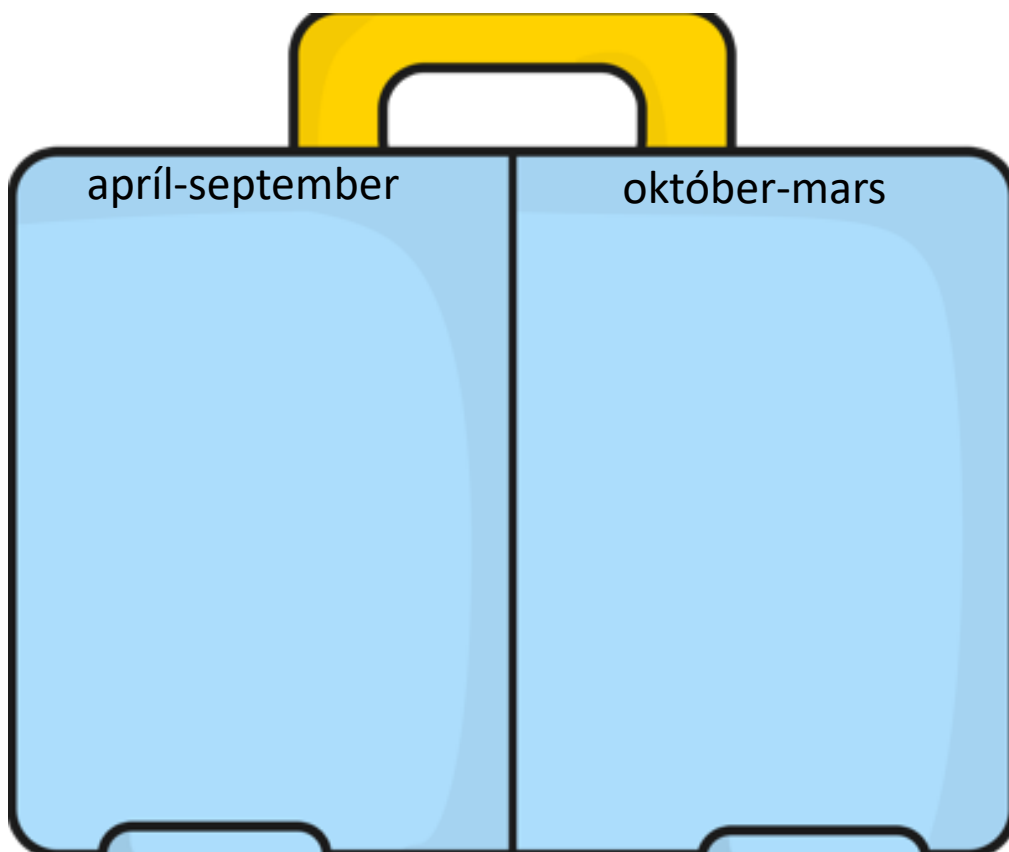
Tungumálið sem talað er í landinu er: _____

- Í landinu búa færri en 1 milljón manns
 1-10 milljón manns
 10-100 milljón manns
 100 milljón eða fleirri

Meðalhitinn apríl-september í landinu er: _____°C

Meðalhitinn október-mars í landinu er : _____°C

Hverju pakka ég þá niður í tösku ef ég fer í heimsókn þangað
Finndu myndir á netinu, afritaðu það sem þú þarft að nota og
límdu í töskuna

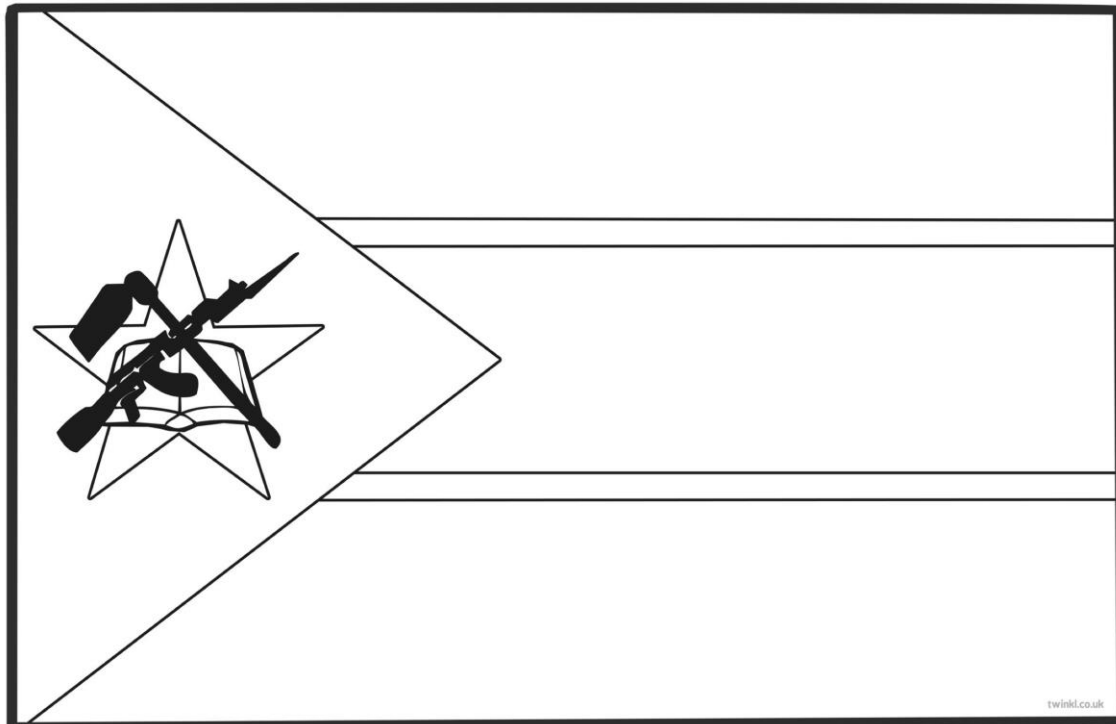


Staðsetning á hnettinum, getur afritað myndir í Wikipedia

98. Landið heitir: **Mosambík** á íslensku og

_____ á ensku

Fáni landsins lítur svona út litaðu í réttum litum



- Landið er í Evrópu
 Asíu
 Afríku
 Norður-Ameríku
 Suður-Ameríku
 Eyjaálfu
 Antartíku

Gjaldmiðillinn í landinu heitir: _____ táknið fyrir hann er _____

Höfuborg landsins heitir: _____

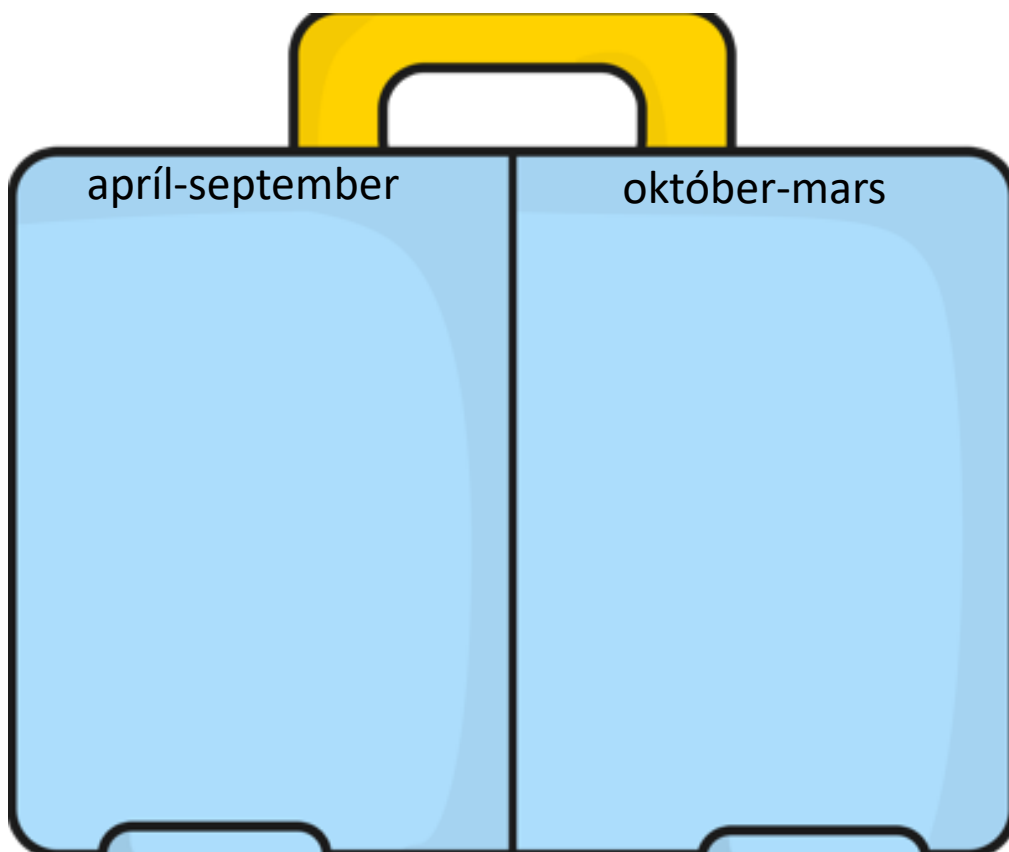
Tungumálið sem talað er í landinu er: _____

- Í landinu búa færri en 1 milljón manns
 1-10 milljón manns
 10-100 milljón manns
 100 milljón eða fleirri

Meðalhitinn apríl-september í landinu er: _____°C

Meðalhitinn október-mars í landinu er : _____°C

Hverju pakka ég þá niður í tösku ef ég fer í heimsókn þangað
Finndu myndir á netinu, afritaðu það sem þú þarft að nota og
límdu í töskuna




Staðsetning á hnettinum, getur afritað myndir í Wikipedia

100. Landið heitir: **Namibía** á íslensku og

_____ á ensku

Fáni landsins lítur svona út litaðu í réttum litum



- Landið er í Evrópu
 Asíu
 Afríku
 Norður-Ameríku
 Suður-Ameríku
 Eyjaálfu
 Antartíku

Gjaldmiðillinn í landinu heitir: _____ táknið fyrir hann er _____

Höfuborg landsins heitir: _____

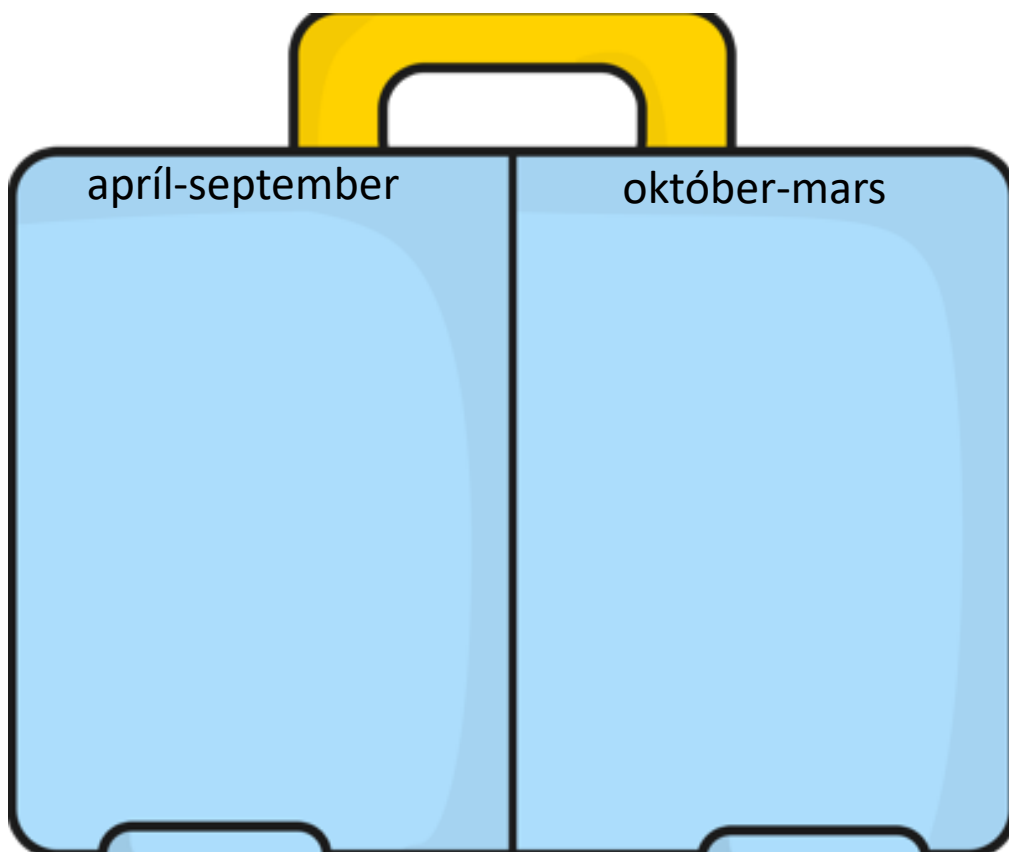
Tungumálið sem talað er í landinu er: _____

- Í landinu búa færri en 1 milljón manns
 1-10 milljón manns
 10-100 milljón manns
 100 milljón eða fleirri

Meðalhitinn apríl-september í landinu er: _____°C

Meðalhitinn október-mars í landinu er : _____°C

Hverju pakka ég þá niður í tösku ef ég fer í heimsókn þangað
Finndu myndir á netinu, afritaðu það sem þú þarft að nota og
límdu í töskuna

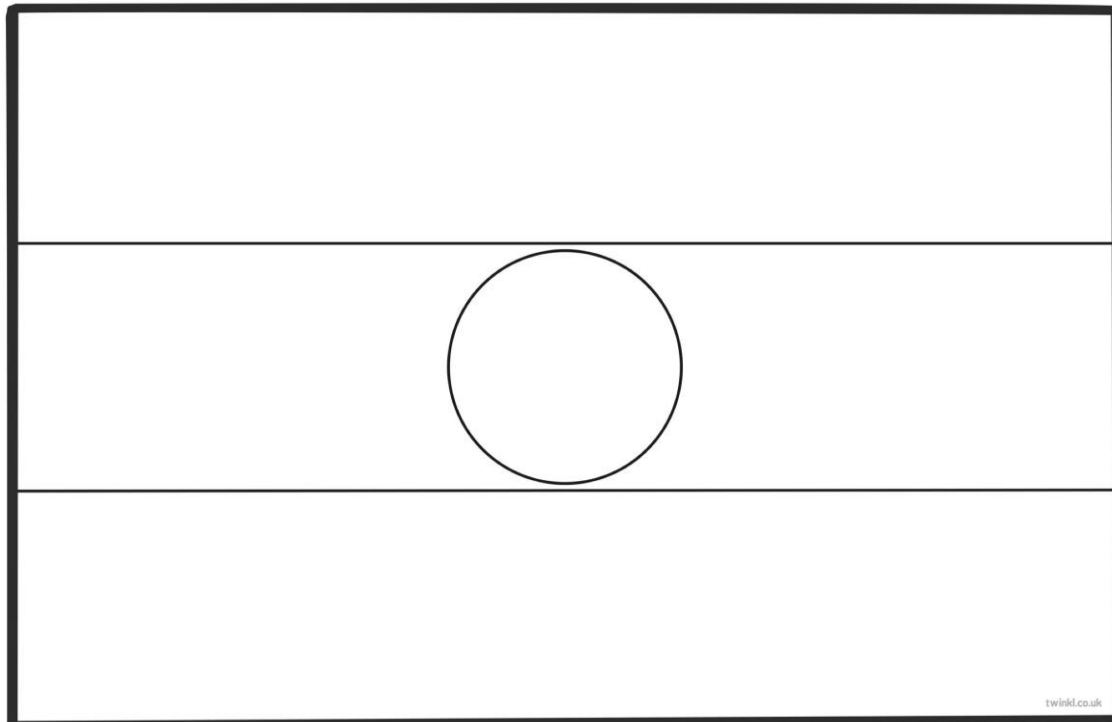


Staðsetning á hnettinum, getur afritað myndir í Wikipedia

103. Landið heitir: **Níger** á íslensku og

_____ á ensku

Fáni landsins lítur svona út litaðu í réttum litum



- Landið er í Evrópu
 Asíu
 Afríku
 Norður-Ameríku
 Suður-Ameríku
 Eyjaálfu
 Antartíku

Gjaldmiðillinn í landinu heitir: _____ táknið fyrir hann er _____

Höfuborg landsins heitir: _____

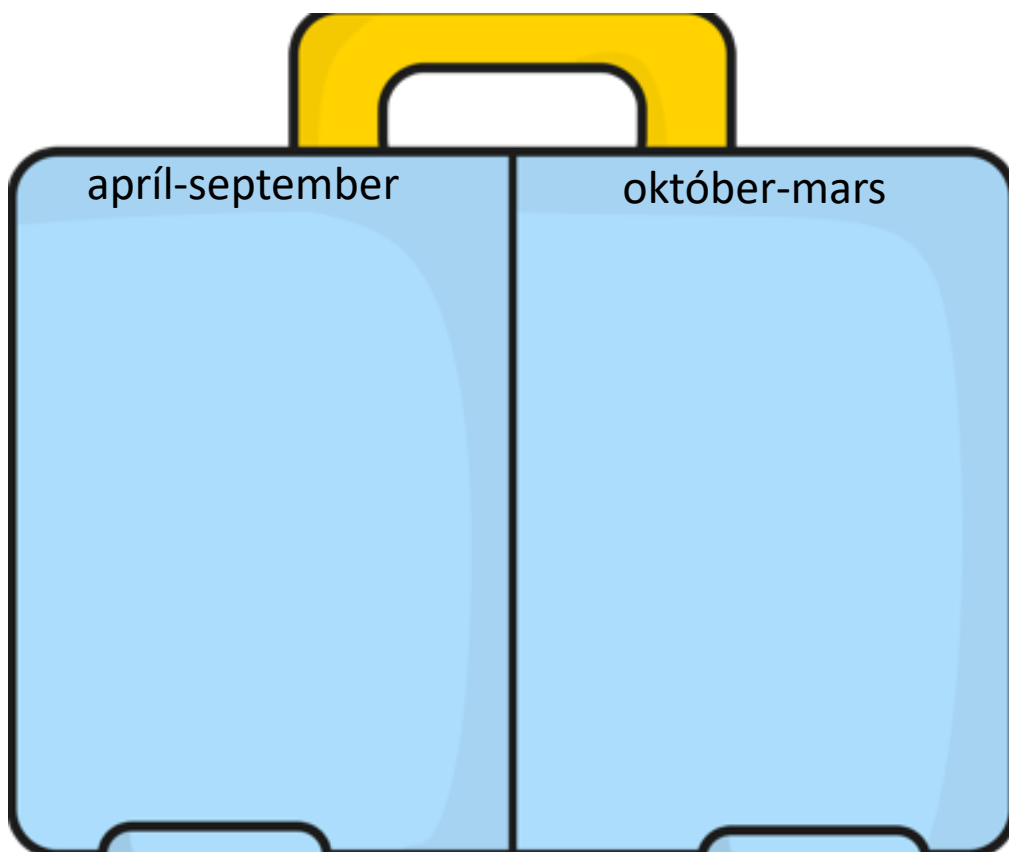
Tungumálið sem talað er í landinu er: _____

- Í landinu búa færri en 1 milljón manns
 1-10 milljón manns
 10-100 milljón manns
 100 milljón eða fleirri

Meðalhitinn apríl-september í landinu er: _____°C

Meðalhitinn október-mars í landinu er : _____°C

Hverju pakka ég þá niður í tösku ef ég fer í heimsókn þangað
Finndu myndir á netinu, afritaðu það sem þú þarft að nota og
límdu í töskuna



Staðsetning á hnettinum, getur afritað myndir í Wikipedia

104. Landið heitir: **Nígíría** á íslensku og

á ensku

Fáni landsins lítur svona út litaðu í réttum litum

--	--	--

- Landið er í Evrópu
 Asíu
 Afríku
 Norður-Ameríku
 Suður-Ameríku
 Eyjaálfu
 Antartíku

Gjaldmiðillinn í landinu heitir: _____ táknið fyrir hann er _____

Höfuborg landsins heitir: _____

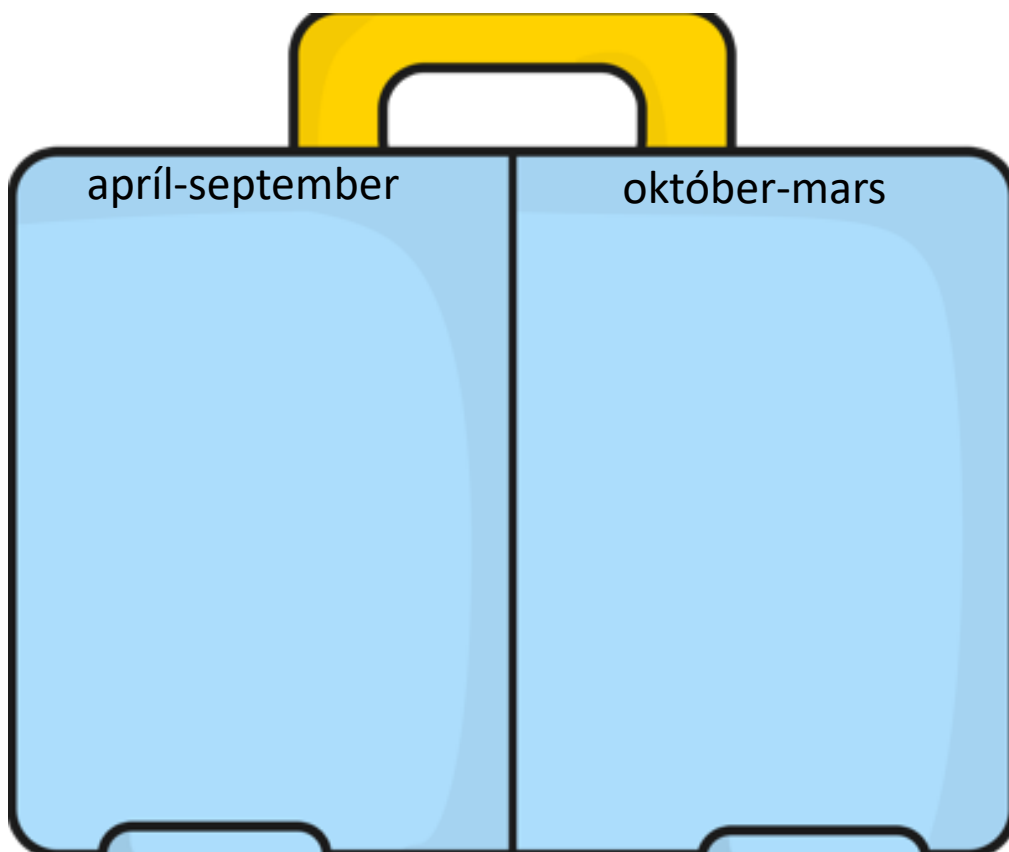
Tungumálið sem talað er í landinu er: _____

- Í landinu búa færri en 1 milljón manns
 1-10 milljón manns
 10-100 milljón manns
 100 milljón eða fleirri

Meðalhitinn apríl-september í landinu er: _____°C

Meðalhitinn október-mars í landinu er : _____°C

Hverju pakka ég þá niður í tösku ef ég fer í heimsókn þangað
Finndu myndir á netinu, afritaðu það sem þú þarft að nota og
límdu í töskuna

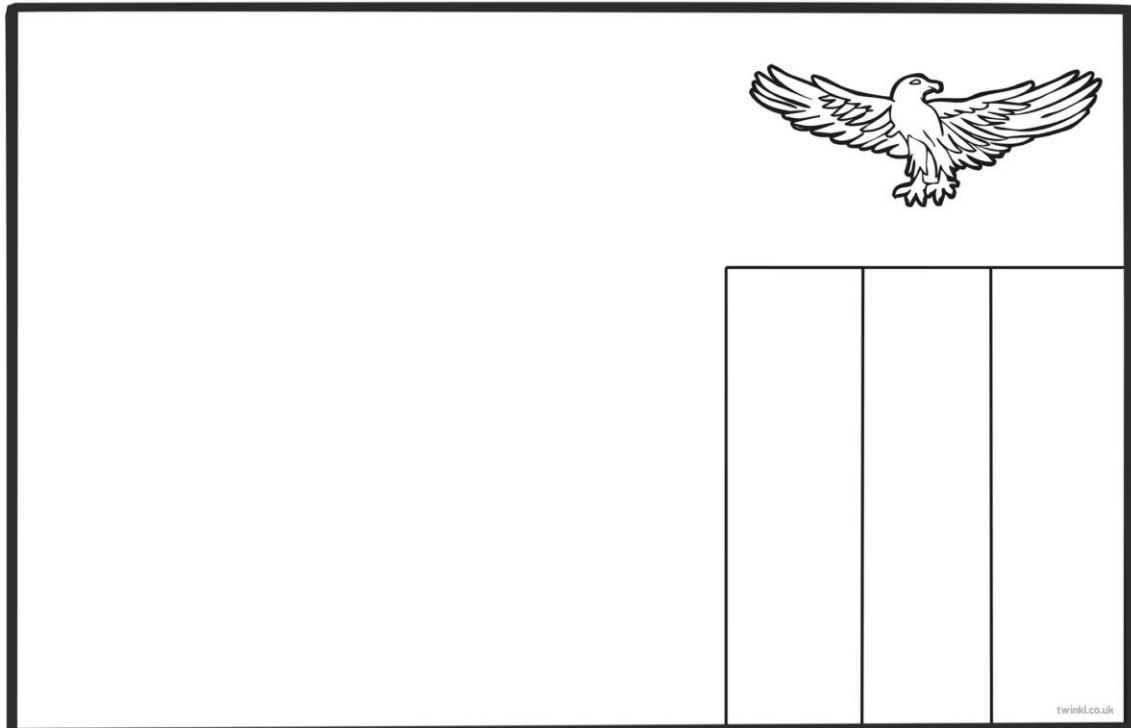


Staðsetning á hnettinum, getur afritað myndir í Wikipedia

124. Landið heitir: **Sambía** á íslensku og

á ensku

Fáni landsins lítur svona út litaðu í réttum litum



- Landið er í Evrópu
 Asíu
 Afríku
 Norður-Ameríku
 Suður-Ameríku
 Eyjaálfu
 Antartíku

Gjaldmiðillinn í landinu heitir: _____ táknið fyrir hann er _____

Höfuborg landsins heitir: _____

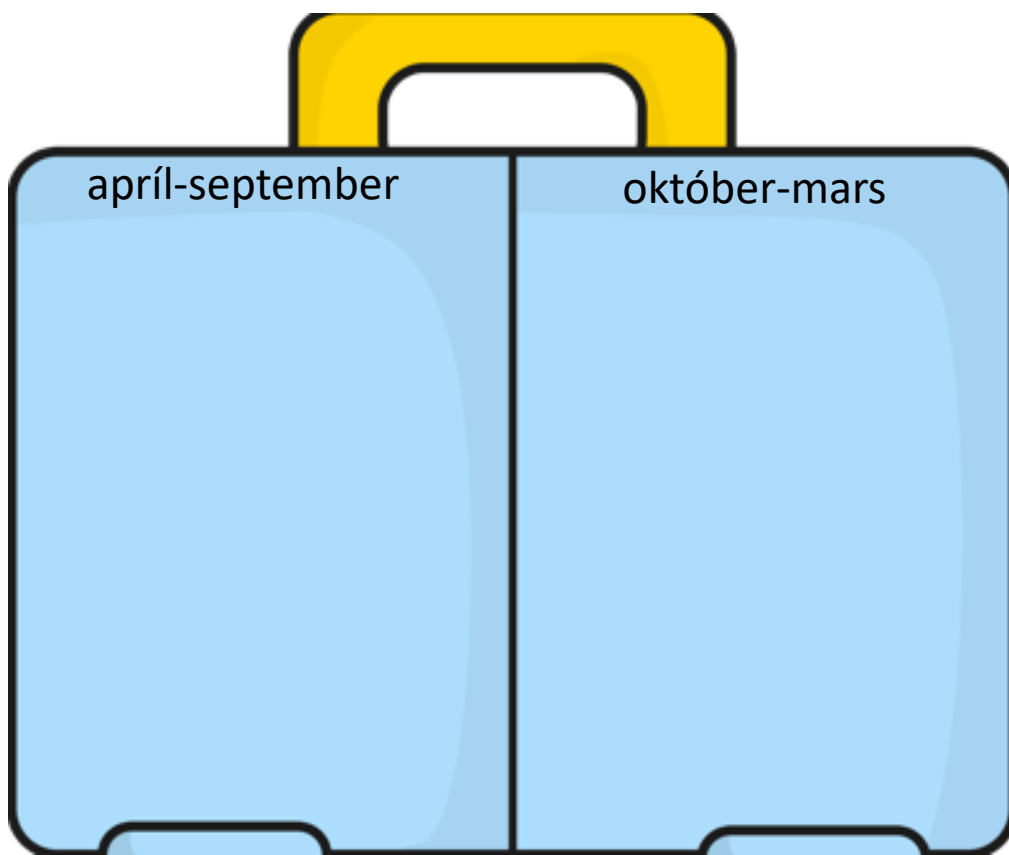
Tungumálið sem talað er í landinu er: _____

- Í landinu búa færri en 1 milljón manns
 1-10 milljón manns
 10-100 milljón manns
 100 milljón eða fleirri

Meðalhitinn apríl-september í landinu er: _____°C

Meðalhitinn október-mars í landinu er : _____°C

Hverju pakka ég þá niður í tösku ef ég fer í heimsókn þangað
Finndu myndir á netinu, afritaðu það sem þú þarft að nota og
límdu í töskuna

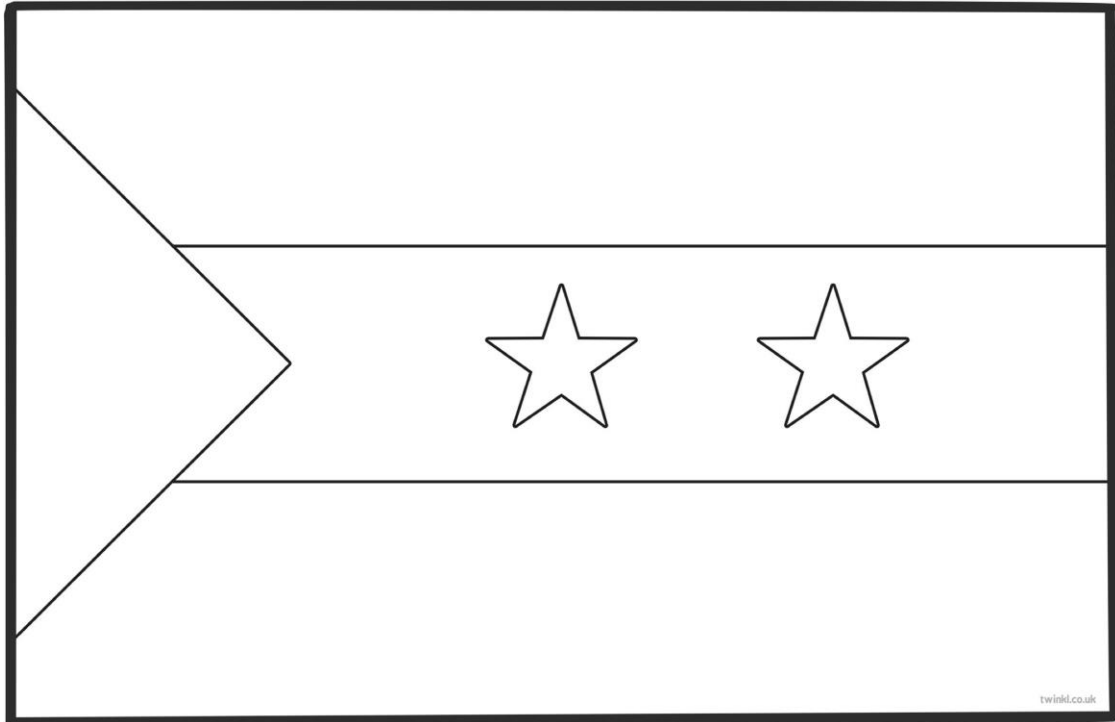


Staðsetning á hnettinum, getur afritað myndir í Wikipedia

130. Landið heitir: **Saó Tóme og Prinsípe** á íslensku og

á ensku

Fáni landsins lítur svona út litaðu í réttum litum



- Landið er í Evrópu
 Asíu
 Afríku
 Norður-Ameríku
 Suður-Ameríku
 Eyjaálfu
 Antartíku

Gjaldmiðillinn í landinu heitir: _____ táknið fyrir hann er _____

Höfuborg landsins heitir: _____

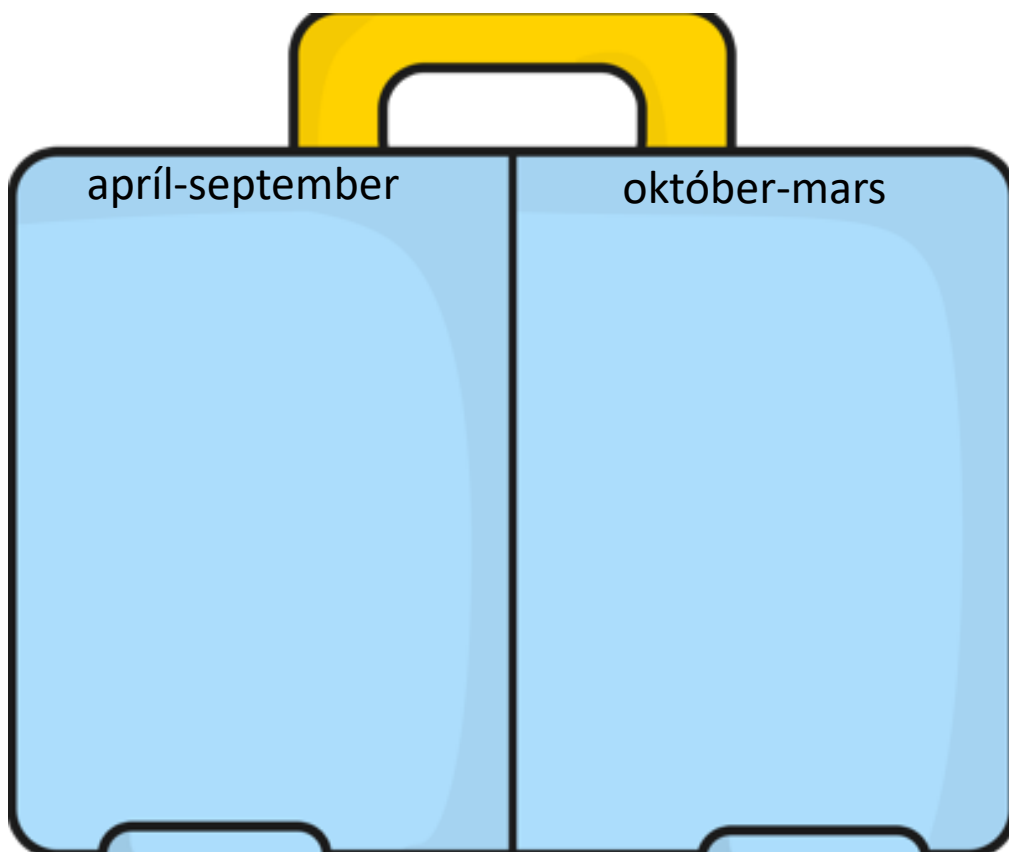
Tungumálið sem talað er í landinu er: _____

- Í landinu búa færri en 1 milljón manns
 1-10 milljón manns
 10-100 milljón manns
 100 milljón eða fleirri

Meðalhitinn apríl-september í landinu er: _____°C

Meðalhitinn október-mars í landinu er : _____°C

Hverju pakka ég þá niður í tösku ef ég fer í heimsókn þangað
Finndu myndir á netinu, afritaðu það sem þú þarft að nota og
límdu í töskuna




Staðsetning á hnettinum, getur afritað myndir í Wikipedia

131. Landið heitir: **Senegal** á íslensku og

_____ á ensku

Fáni landsins lítur svona út litaðu í réttum litum



- Landið er í Evrópu
 Asíu
 Afríku
 Norður-Ameríku
 Suður-Ameríku
 Eyjaálfu
 Antartíku

Gjaldmiðillinn í landinu heitir: _____ táknið fyrir hann er _____

Höfuborg landsins heitir: _____

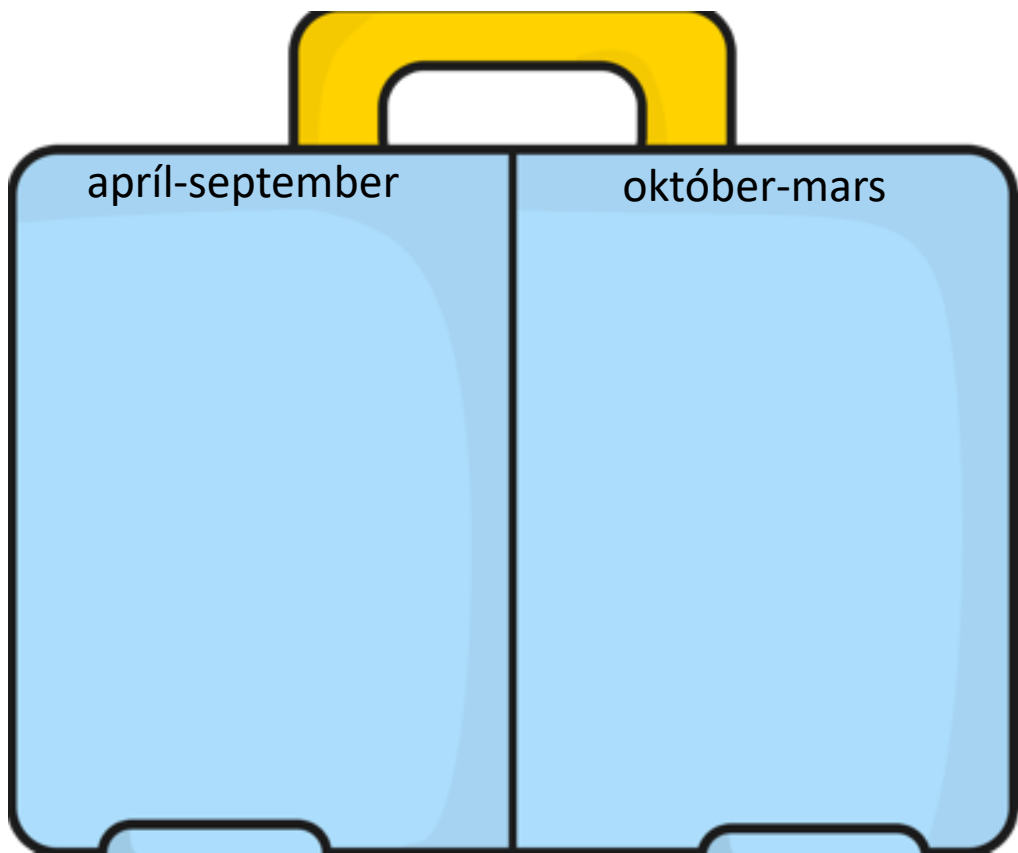
Tungumálið sem talað er í landinu er: _____

- Í landinu búa færri en 1 milljón manns
 1-10 milljón manns
 10-100 milljón manns
 100 milljón eða fleirri

Meðalhitinn apríl-september í landinu er: _____°C

Meðalhitinn október-mars í landinu er : _____°C

Hverju pakka ég þá niður í tösku ef ég fer í heimsókn þangað
Finndu myndir á netinu, afritaðu það sem þú þarft að nota og
límdu í töskuna

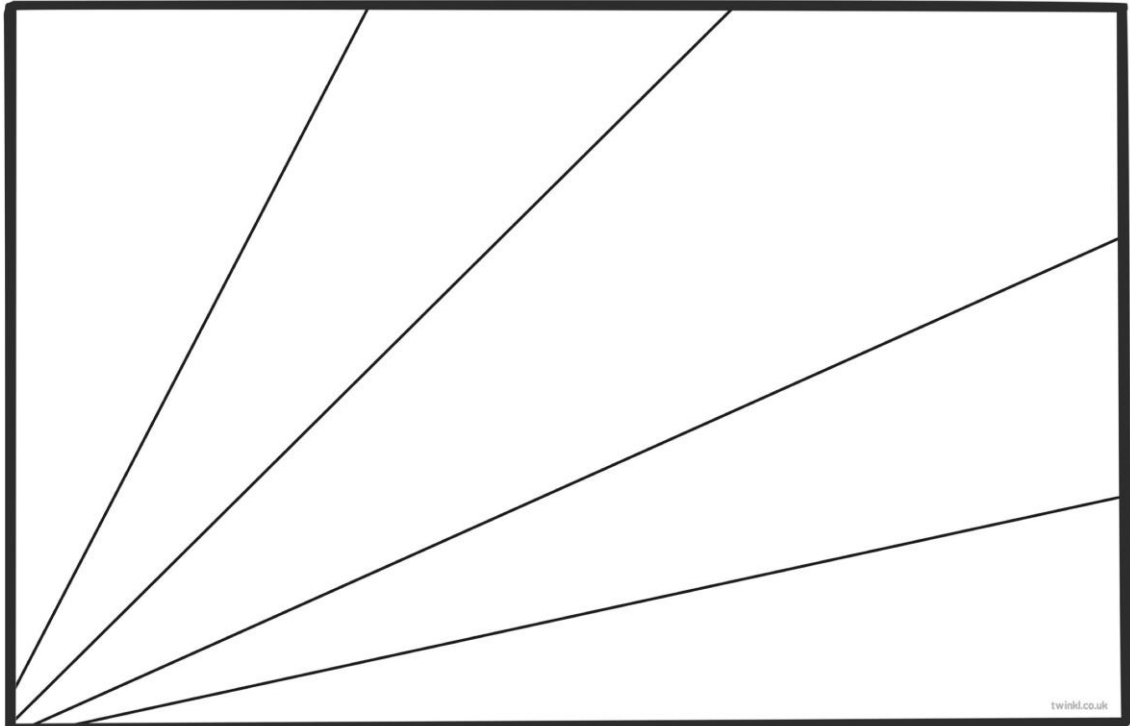


Staðsetning á hnettinum, getur afritað myndir í Wikipedia

133. Landið heitir: **Seychelleyjar** á íslensku og

_____ á ensku

Fáni landsins lítur svona út litaðu í réttum litum



- Landið er í Evrópu
 Asíu
 Afríku
 Norður-Ameríku
 Suður-Ameríku
 Eyjaálfu
 Antartíku

Gjaldmiðillinn í landinu heitir: _____ táknið fyrir hann er _____

Höfuborg landsins heitir: _____

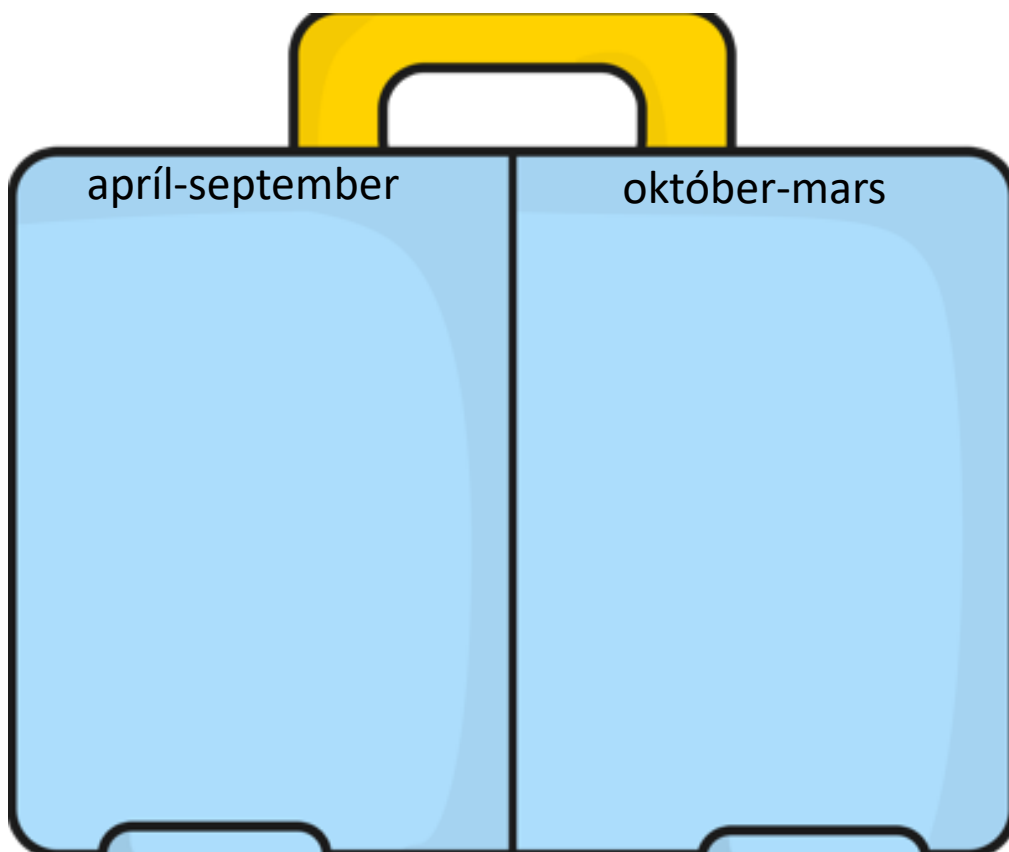
Tungumálið sem talað er í landinu er: _____

- Í landinu búa færri en 1 milljón manns
 1-10 milljón manns
 10-100 milljón manns
 100 milljón eða fleirri

Meðalhitinn apríl-september í landinu er: _____°C

Meðalhitinn október-mars í landinu er : _____°C

Hverju pakka ég þá niður í tösku ef ég fer í heimsókn þangað
Finndu myndir á netinu, afritaðu það sem þú þarft að nota og
límdu í töskuna



Staðsetning á hnettinum, getur afritað myndir í Wikipedia

134. Landið heitir: **Síerra Leóne** á íslensku og

_____ á ensku

Fáni landsins lítur svona út litaðu í réttum litum



- Landið er í Evrópu
 Asíu
 Afríku
 Norður-Ameríku
 Suður-Ameríku
 Eyjaálfu
 Antartíku

Gjaldmiðillinn í landinu heitir: _____ táknið fyrir hann er _____

Höfuborg landsins heitir: _____

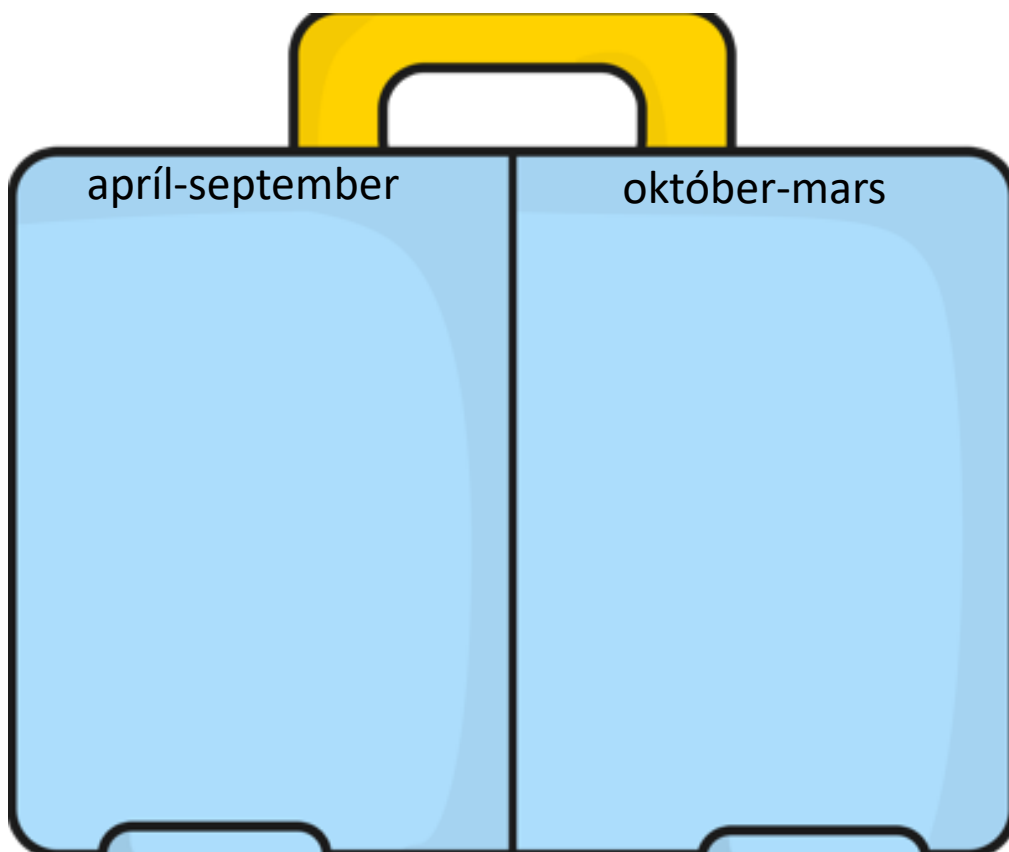
Tungumálið sem talað er í landinu er: _____

- Í landinu búa færri en 1 milljón manns
 1-10 milljón manns
 10-100 milljón manns
 100 milljón eða fleirri

Meðalhitinn apríl-september í landinu er: _____°C

Meðalhitinn október-mars í landinu er : _____°C

Hverju pakka ég þá niður í tösku ef ég fer í heimsókn þangað
Finndu myndir á netinu, afritaðu það sem þú þarft að nota og
límdu í töskuna

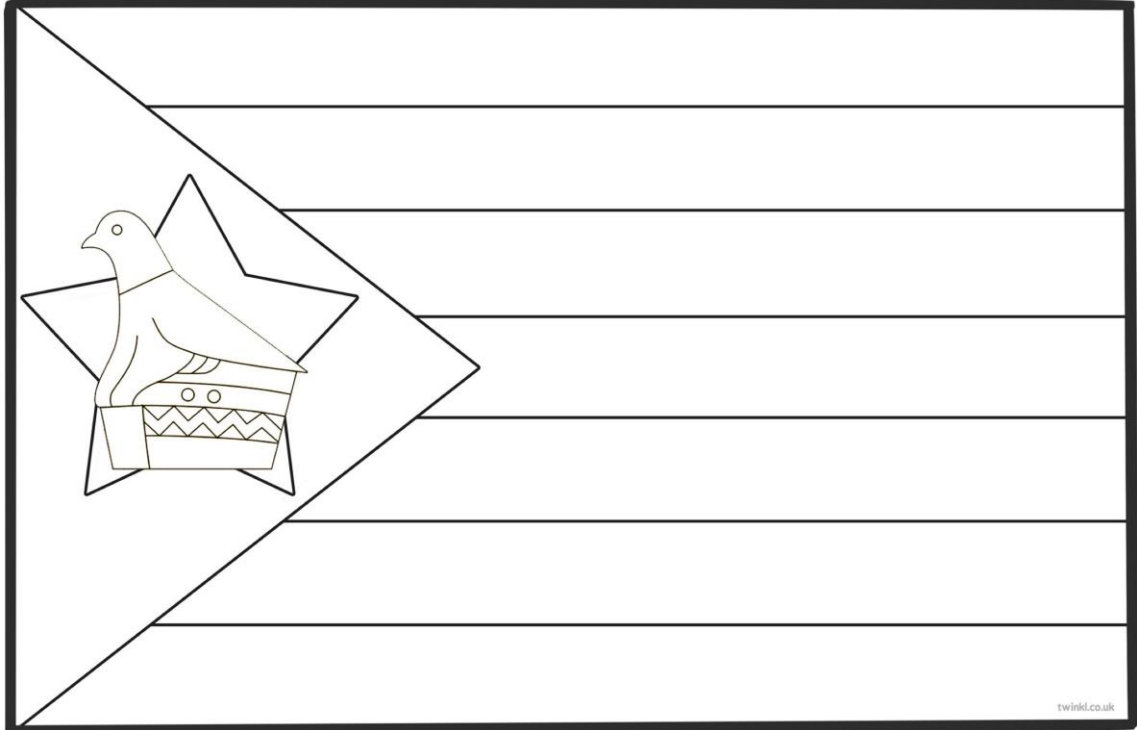


Staðsetning á hnettinum, getur afritað myndir í Wikipedia

135. Landið heitir: **Simbabve** á íslensku og

á ensku

Fáni landsins lítur svona út litaðu í réttum litum



- Landið er í Evrópu
 Asíu
 Afríku
 Norður-Ameríku
 Suður-Ameríku
 Eyjaálfu
 Antartíku

Gjaldmiðillinn í landinu heitir: _____ táknið fyrir hann er _____

Höfuborg landsins heitir: _____

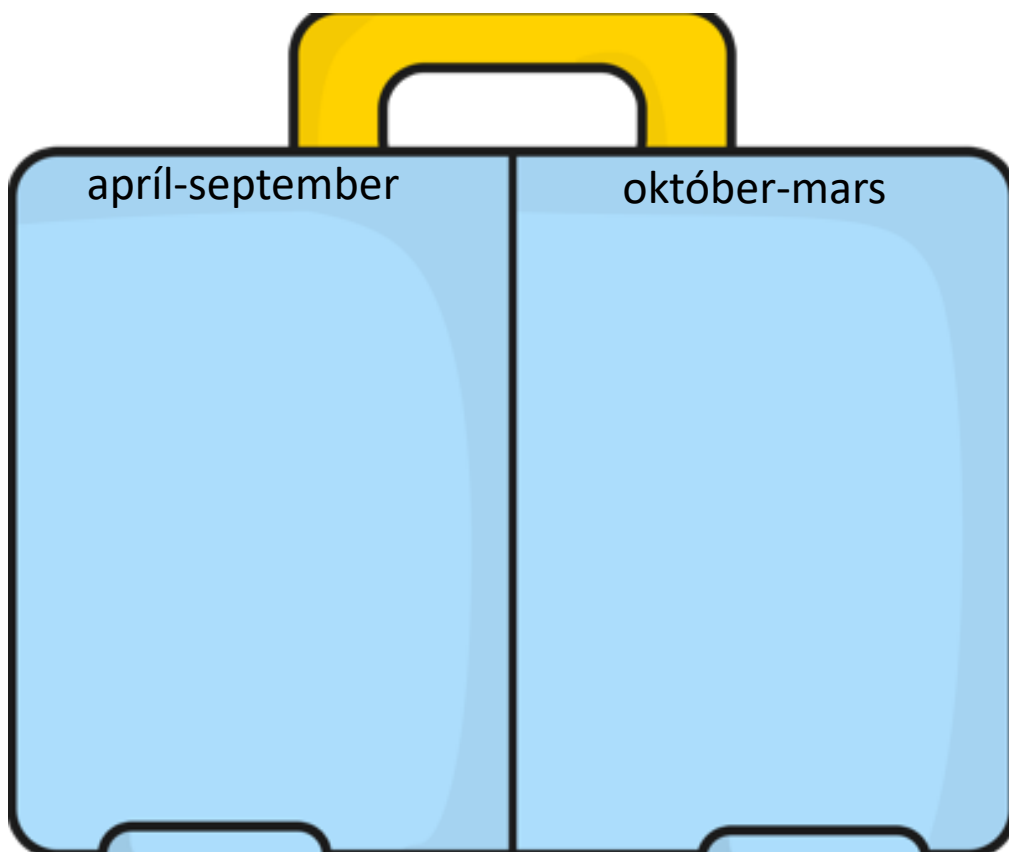
Tungumálið sem talað er í landinu er: _____

- Í landinu búa færri en 1 milljón manns
 1-10 milljón manns
 10-100 milljón manns
 100 milljón eða fleirri

Meðalhitinn apríl-september í landinu er: _____°C

Meðalhitinn október-mars í landinu er : _____°C

Hverju pakka ég þá niður í tösku ef ég fer í heimsókn þangað
Finndu myndir á netinu, afritaðu það sem þú þarft að nota og
límdu í töskuna

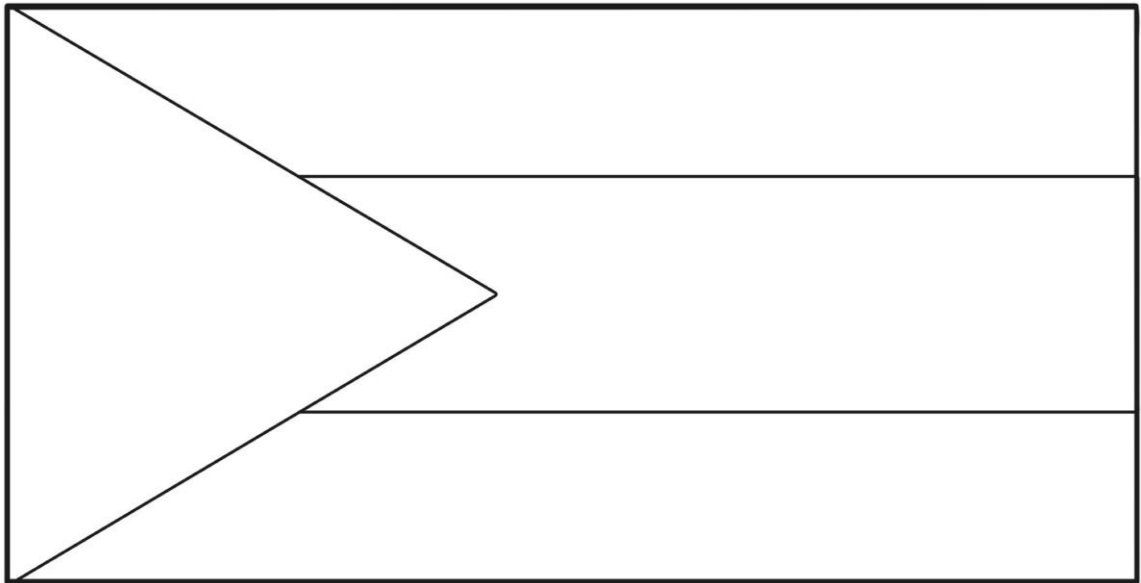


Staðsetning á hnettinum, getur afritað myndir í Wikipedia

141. Landið heitir: **Súdan** á íslensku og

_____ á ensku

Fáni landsins lítur svona út litaðu í réttum litum



- Landið er í Evrópu
 Asíu
 Afríku
 Norður-Ameríku
 Suður-Ameríku
 Eyjaálfu
 Antartíku

Gjaldmiðillinn í landinu heitir: _____ táknið fyrir hann er _____

Höfuborg landsins heitir: _____

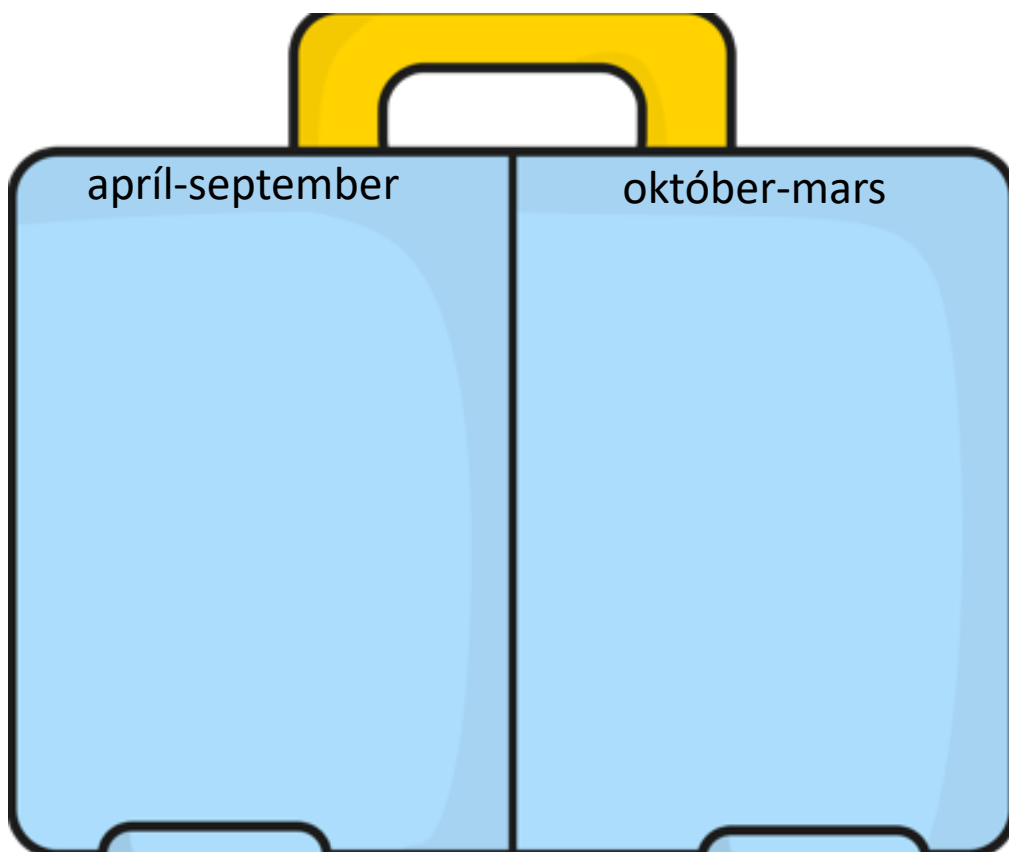
Tungumálið sem talað er í landinu er: _____

- Í landinu búa færri en 1 milljón manns
 1-10 milljón manns
 10-100 milljón manns
 100 milljón eða fleirri

Meðalhitinn apríl-september í landinu er: _____°C

Meðalhitinn október-mars í landinu er : _____°C

Hverju pakka ég þá niður í tösku ef ég fer í heimsókn þangað
Finndu myndir á netinu, afritaðu það sem þú þarft að nota og
límdu í töskuna

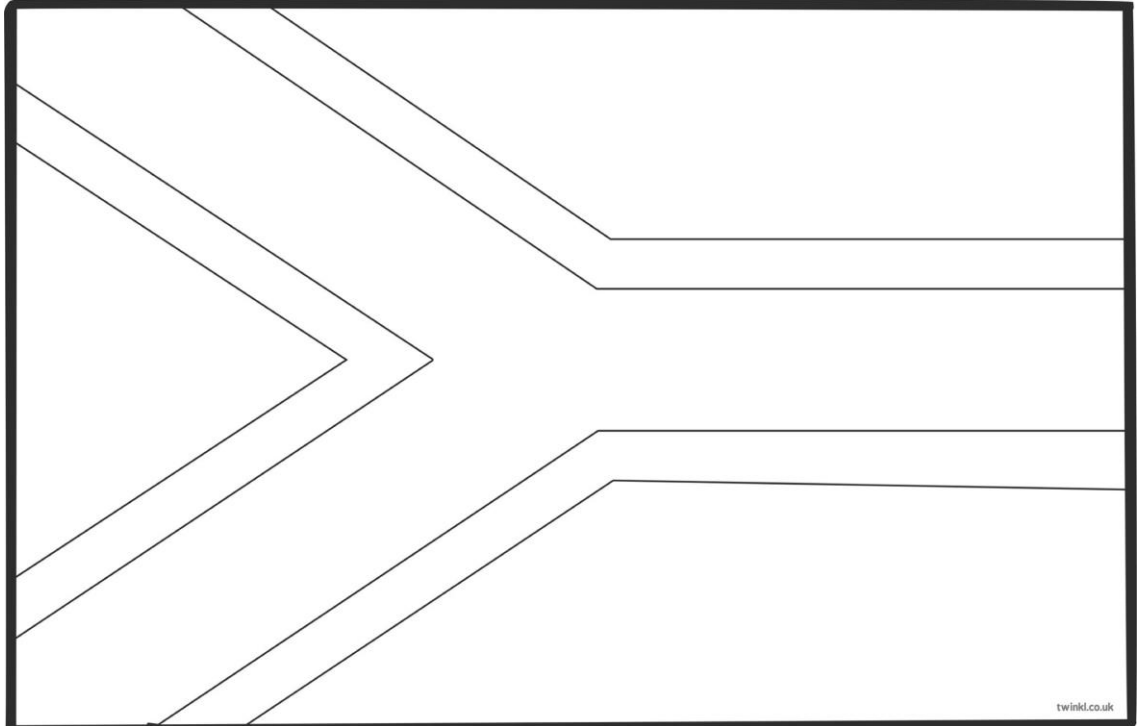


Staðsetning á hnettinum, getur afritað myndir í Wikipedia

142. Landið heitir: Suður-Afríka á íslensku og

á ensku

Fáni landsins lítur svona út litaðu í réttum litum



- Landið er í Evrópu
 Asíu
 Afríku
 Norður-Ameríku
 Suður-Ameríku
 Eyjaálfu
 Antartíku

Gjaldmiðillinn í landinu heitir: _____ táknið fyrir hann er _____

Höfuborg landsins heitir: _____

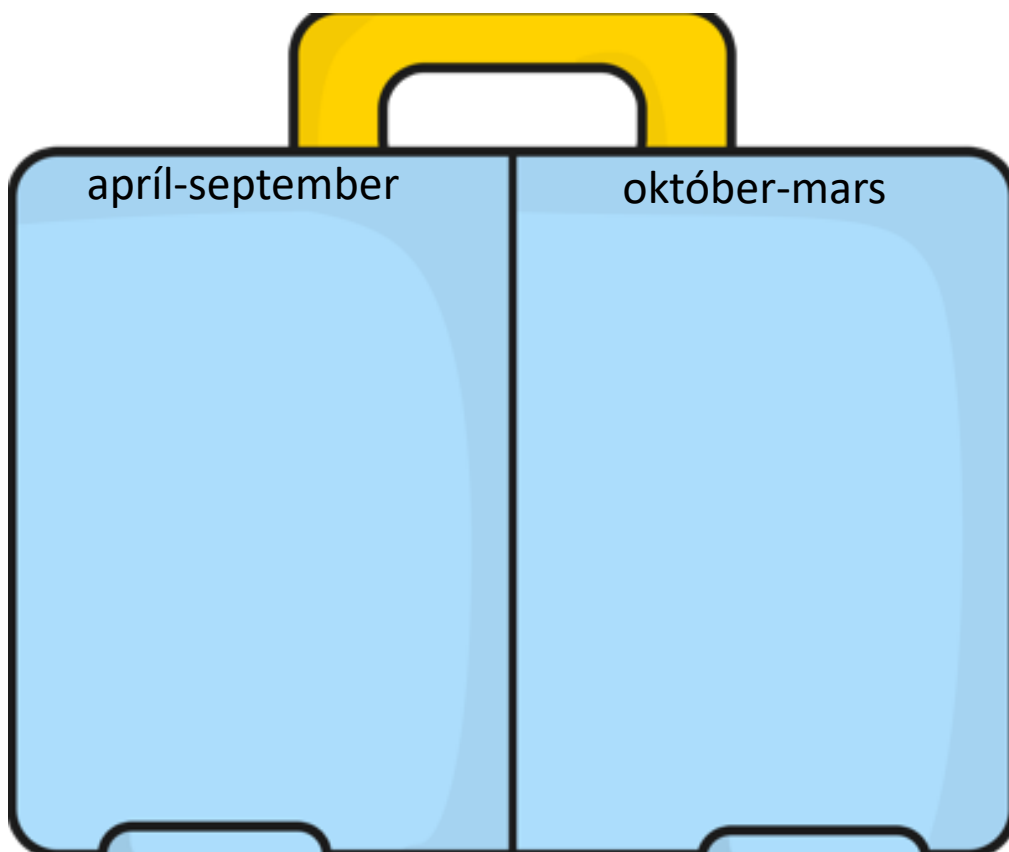
Tungumálið sem talað er í landinu er: _____

- Í landinu búa færri en 1 milljón manns
 1-10 milljón manns
 10-100 milljón manns
 100 milljón eða fleirri

Meðalhitinn apríl-september í landinu er: _____°C

Meðalhitinn október-mars í landinu er : _____°C

Hverju pakka ég þá niður í tösku ef ég fer í heimsókn þangað
Finndu myndir á netinu, afritaðu það sem þú þarft að nota og
límdu í töskuna

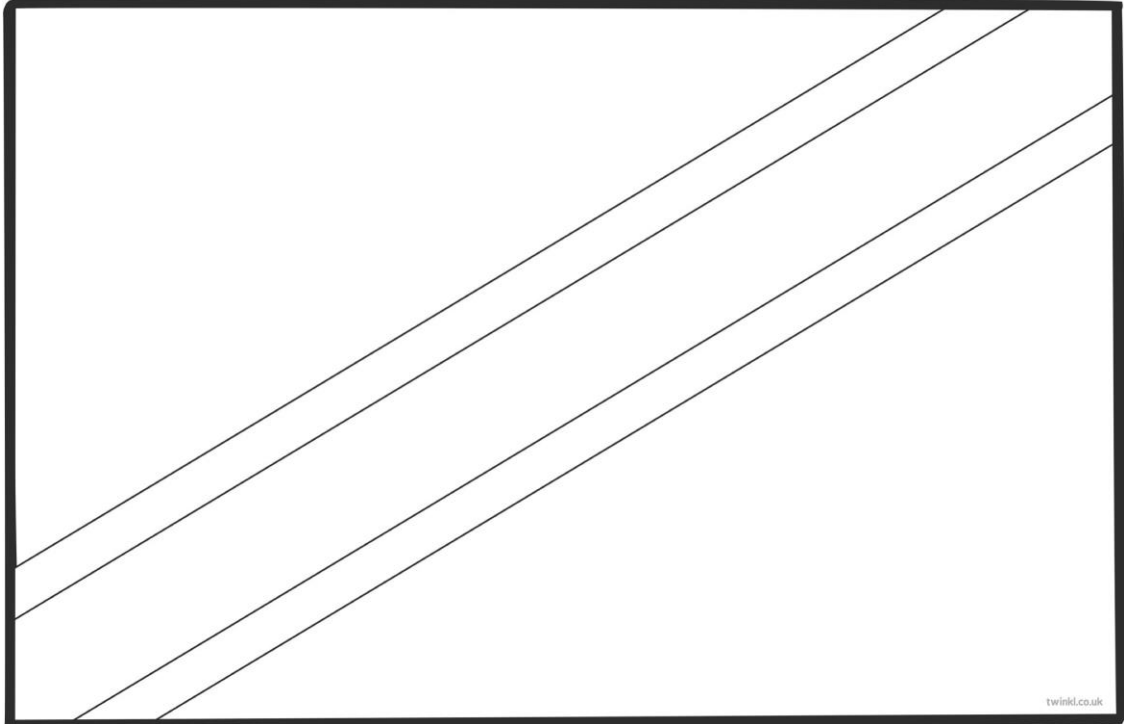


Staðsetning á hnettinum, getur afritað myndir í Wikipedia

152. Landið heitir: **Tansanía** á íslensku og

_____ á ensku

Fáni landsins lítur svona út litaðu í réttum litum



- Landið er í Evrópu
 Asíu
 Afríku
 Norður-Ameríku
 Suður-Ameríku
 Eyjaálfu
 Antartíku

Gjaldmiðillinn í landinu heitir: _____ táknið fyrir hann er _____

Höfuborg landsins heitir: _____

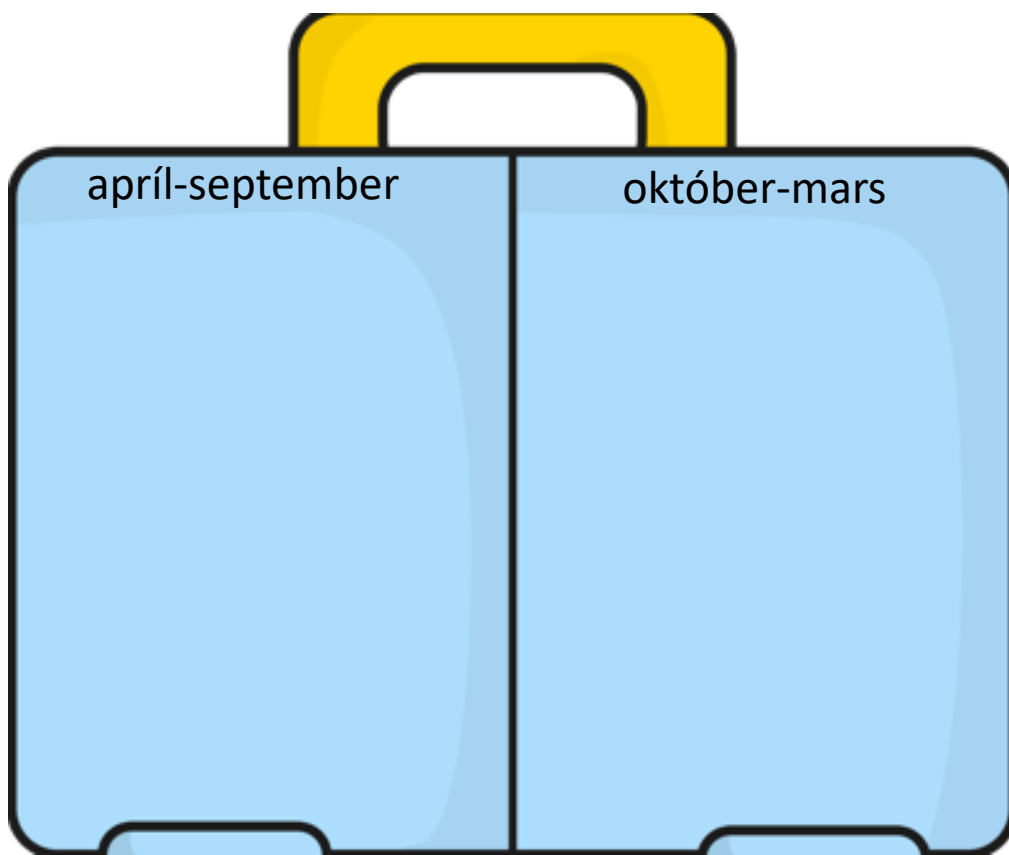
Tungumálið sem talað er í landinu er: _____

- Í landinu búa færri en 1 milljón manns
 1-10 milljón manns
 10-100 milljón manns
 100 milljón eða fleirri

Meðalhitinn apríl-september í landinu er: _____°C

Meðalhitinn október-mars í landinu er : _____°C

Hverju pakka ég þá niður í tösku ef ég fer í heimsókn þangað
Finndu myndir á netinu, afritaðu það sem þú þarft að nota og
límdu í töskuna

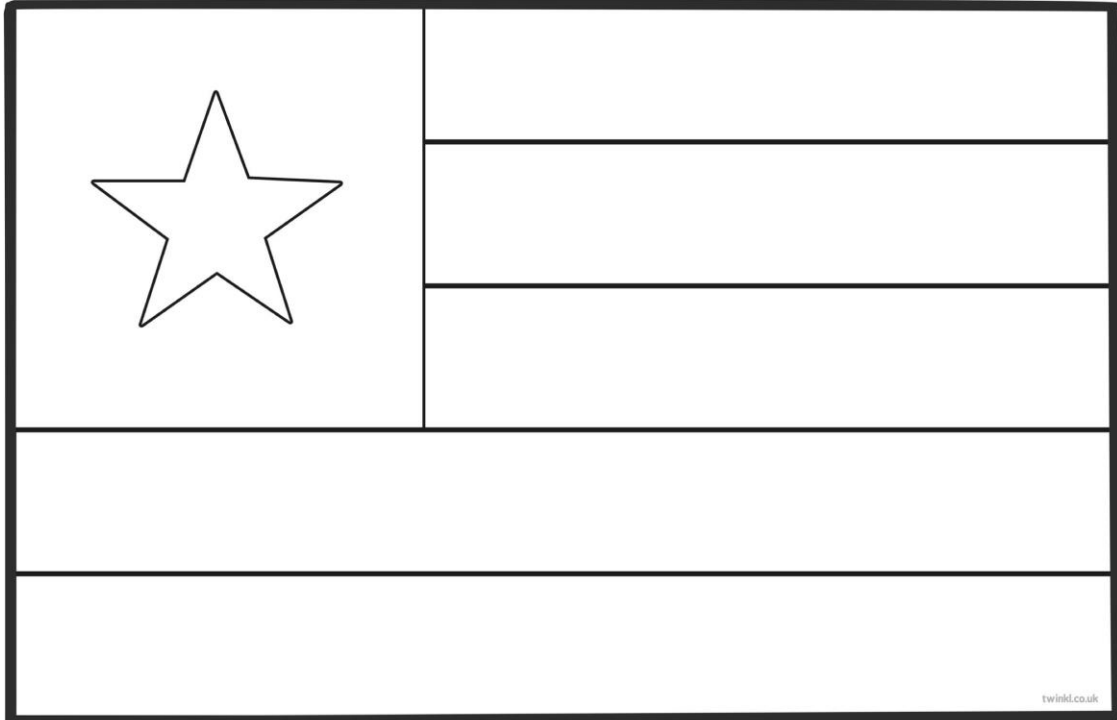


Staðsetning á hnettinum, getur afritað myndir í Wikipedia

154. Landið heitir: **Tógó** á íslensku og

_____ á ensku

Fáni landsins lítur svona út litaðu í réttum litum



- Landið er í Evrópu
 Asíu
 Afríku
 Norður-Ameríku
 Suður-Ameríku
 Eyjaálfu
 Antartíku

Gjaldmiðillinn í landinu heitir: _____ táknið fyrir hann er _____

Höfuborg landsins heitir: _____

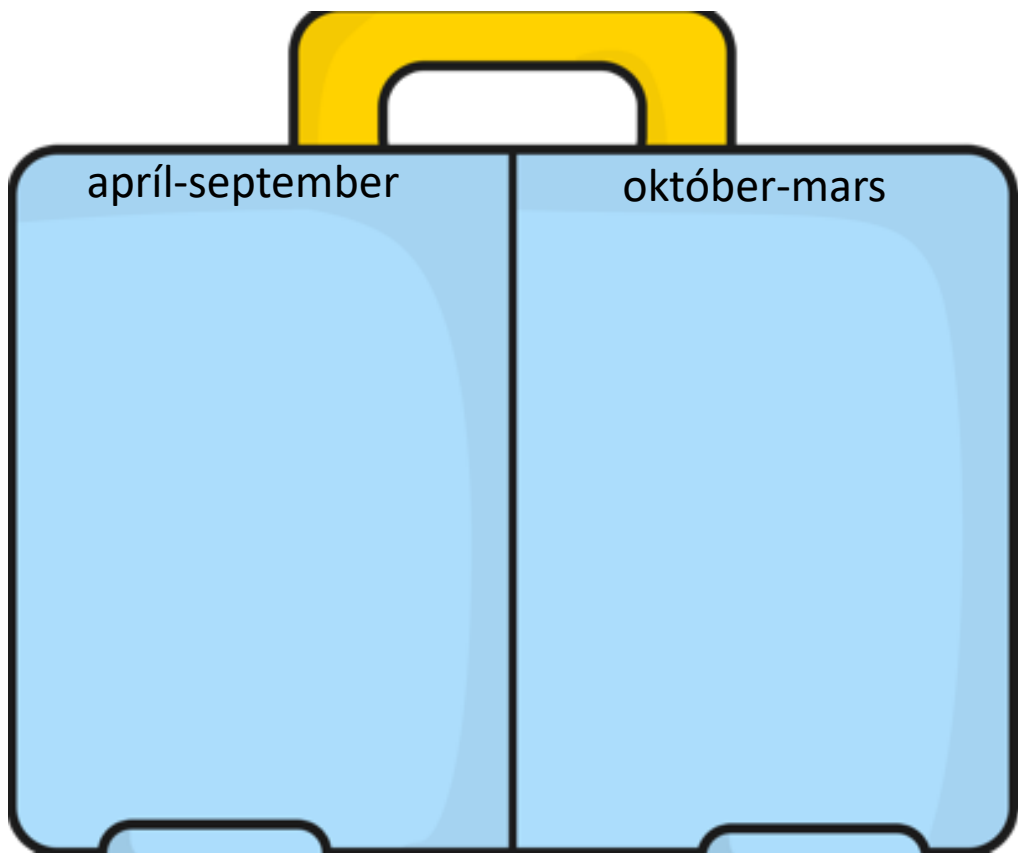
Tungumálið sem talað er í landinu er: _____

- Í landinu búa færri en 1 milljón manns
 1-10 milljón manns
 10-100 milljón manns
 100 milljón eða fleirri

Meðalhitinn apríl-september í landinu er: _____°C

Meðalhitinn október-mars í landinu er : _____°C

Hverju pakka ég þá niður í tösku ef ég fer í heimsókn þangað
Finndu myndir á netinu, afritaðu það sem þú þarft að nota og
límdu í töskuna




Staðsetning á hnettinum, getur afritað myndir í Wikipedia

157. Landið heitir: **Túnis** á íslensku og

_____ á ensku

Fáni landsins lítur svona út litaðu í réttum litum



- Landið er í Evrópu
 Asíu
 Afríku
 Norður-Ameríku
 Suður-Ameríku
 Eyjaálfu
 Antartíku

Gjaldmiðillinn í landinu heitir: _____ táknið fyrir hann er _____

Höfuborg landsins heitir: _____

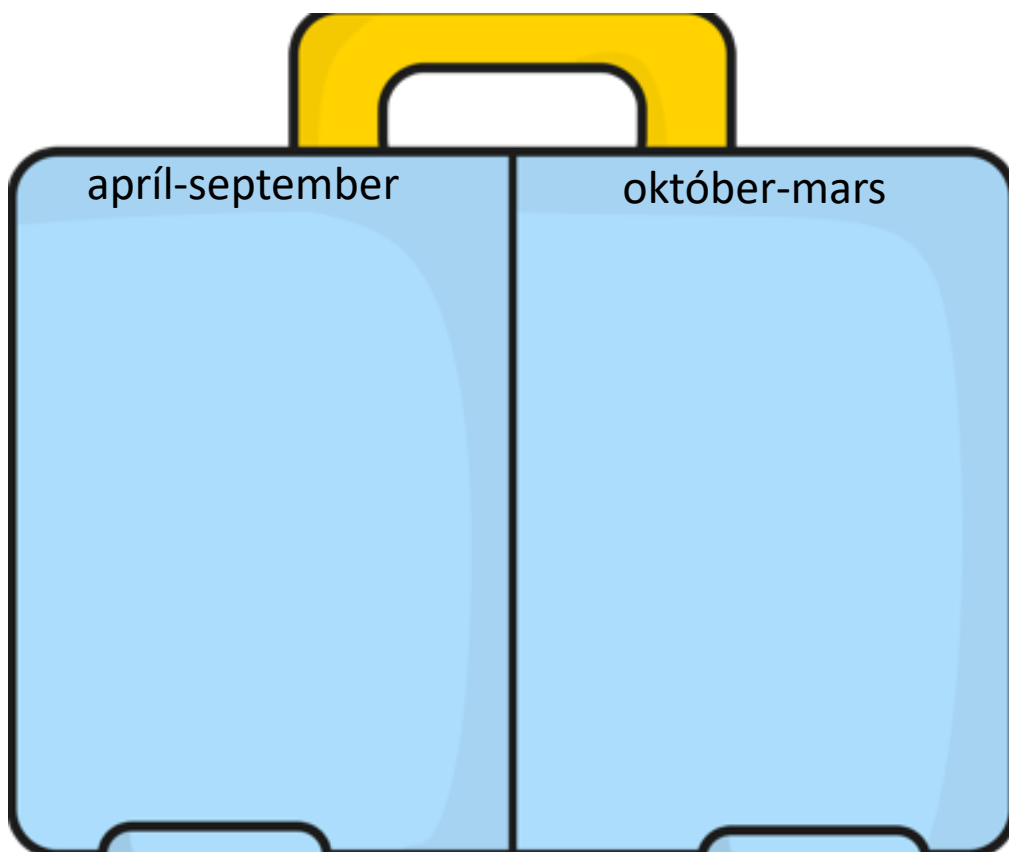
Tungumálið sem talað er í landinu er: _____

- Í landinu búa færri en 1 milljón manns
 1-10 milljón manns
 10-100 milljón manns
 100 milljón eða fleirri

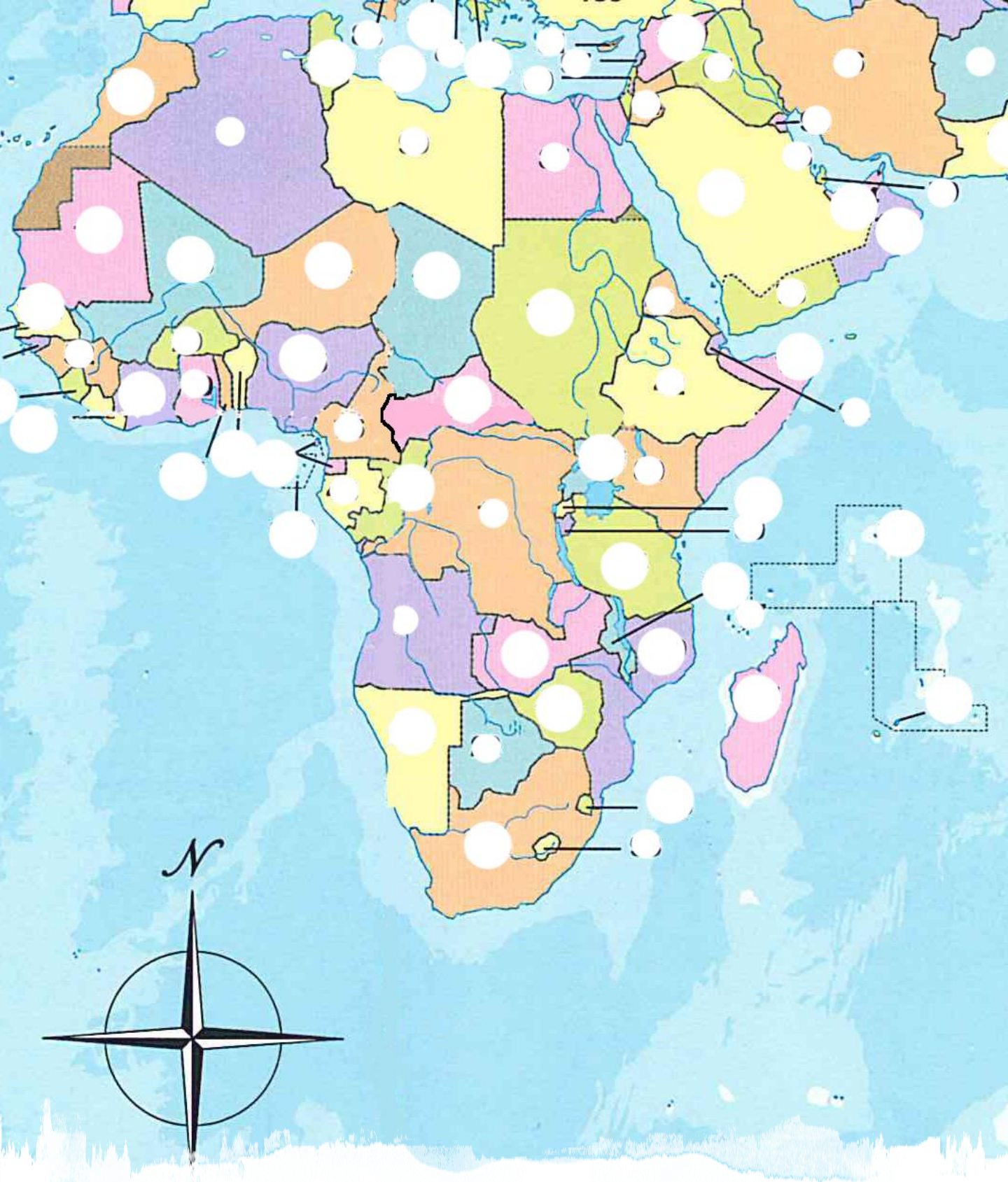
Meðalhitinn apríl-september í landinu er: _____°C

Meðalhitinn október-mars í landinu er : _____°C

Hverju pakka ég þá niður í tösku ef ég fer í heimsókn þangað
Finndu myndir á netinu, afritaðu það sem þú þarft að nota og
límdu í töskuna



Staðsetning á hnettinum, getur afritað myndir í Wikipedia



Upplýsingaveitur

Á netinu

Wikipedia: www.wikipedia.org

Lönd heimsins: <http://www1.nams.is/loend/index.php>

Globalis: www.globalis.is

Heimsreisa:

<http://www1.nams.is/heimsreisa/index.php>

Í bókum

Landabréfabækur

Öpp

Bitsboard

Afríka



Indlandshaf

Atlandshaf

