

Lönd heimsins

Asía

194 lönd í sex heimsálfum sem voru sjálfstæð í nóvember 2006



Þessa bók á

Leiðbeiningar

Þessi verkefni eru hugsuð fyrir nemendur sem fylgja ekki hefðbundnu námsefni en geta hentað fyrir hvern sem er. Einfölduð verkefni sem miða að því að kynna fyrir nemandanum helstu sjálfstjórnarríki í heiminum og miða að því að nemandinn geti nýtt sér upplýsingarnar ef hann heimsækir viðkomandi lönd í framtíðinni. Efninu er skipt upp í kafla sem miðast við heimsálfurnar:

- Evrópa,
- Asía,
- Afríka,
- Eyjaálfa
- N-Ameríka og S-Ameríka

Hægt er að prenta út þessi verkefni eða vinna þau í spjaldtölvu og prenta út síðar eða geyma á stafrænu formi. Gert er ráð fyrir að viðkomandi hafi tölvu, spjaldtölvu eða síma til að leita að upplýsingunum. Flest svörin er að finna í <https://www.wikipedia.org/> og þarf finnast líka hnattmyndir til að setja við hverja tösku. Upplýsingar um hitastig er að finna á vefnum <https://www.yr.no/> undir statisticks. Nemandinn getur málað fánann í spjaldtölvunni eða prenta út myndir af fána, hann lítur t.d. með trélitum og síðan er tekinn mynd af honum og sett yfir ólitaða fánann. Samhliða þessum verkefnum eru svo verkefni á Kahoot þar sem finna þarf rétta fána og staðsetningu á hnettinum. Á kortið aftast er merkt inn í réttan hring númerið sem tilheyrir hvaða landi.


Nöfn og númer landa, notið númer til að merkja inn á kort

	Íslenska	Enska	Heimsálfa
1	Afganistan	Afghanistan	Asía
6	Armenía	Armenia	Asía
9	Austur-Tímor	Timor-Leste	Asía
13	Bangladesh	Bangladesh	Asía
15	Barein	Bahrain	Asía
23	Brúnei	Brunei	Asía
36	Filippseyjar	Philippines	Asía
42	Georgía	Georgia	Asía
50	Indland	India	Asía
51	Indónesía	Indonesia	Asía
52	Írak	Iraq	Asía
53	Íran	Iran	Asía
56	Ísrael	Israel	Asía
59	Japan	Japan	Asía
60	Jemen	Yemen	Asía
61	Jórdanía	Jordan	Asía
64	Kasakstan	Kazakhstan	Asía
65	Katar	Qatar	Asía
67	Kína	China	Asía
74	Kúveit	Kuwait	Asía
75	Kýpur	Cyprus	Asía
76	Laos	Lao People's Democratic Republic	Asía
79	Líbanon	Lebanon	Asía
88	Maldíveyjar	Maldives	Asía
97	Mongólía	Mongolia	Asía
99	Myanmar (Burma)	Myanmar	Asía
102	Nepal	Nepal	Asía
106	Norður-Kórea	Democratic Republic of Korea	Asía
109	Óman	Oman	Asía
110	Pakistan	Pakistan	Asía
122	Sádi-Arabía	Saudi Arabia	Asía
125	Sameinuðu arabafurstadæmin	United Arab Emirates	Asía
136	Singapúr	Singapore	Asía
140	Srí Lanka	Sri Lanka	Asía
143	Suður-Kórea	South Korea	Asía
149	Sýrland	Syria	Asía
150	Tadsjikistan	Tajikistan	Asía
151	Taíland	Thailand	Asía
159	Tyrkland	Turkey	Evrópa/Asía
163	Úsbekistan	Uzbekistan	Asía
166	Víetnam	Vietnam	Asía

1. Landið heitir: **Afganistan** á íslensku og

á ensku

Fáni landsins lítur svona út litaðu í réttum litum



- Landið er í Evrópu
 Asíu
 Afríku
 Norður-Ameríku
 Suður-Ameríku
 Eyjaálfu
 Antartíku

Gjaldmiðillinn í landinu heitir: _____ táknið fyrir hann er _____

Höfuborg landsins heitir: _____

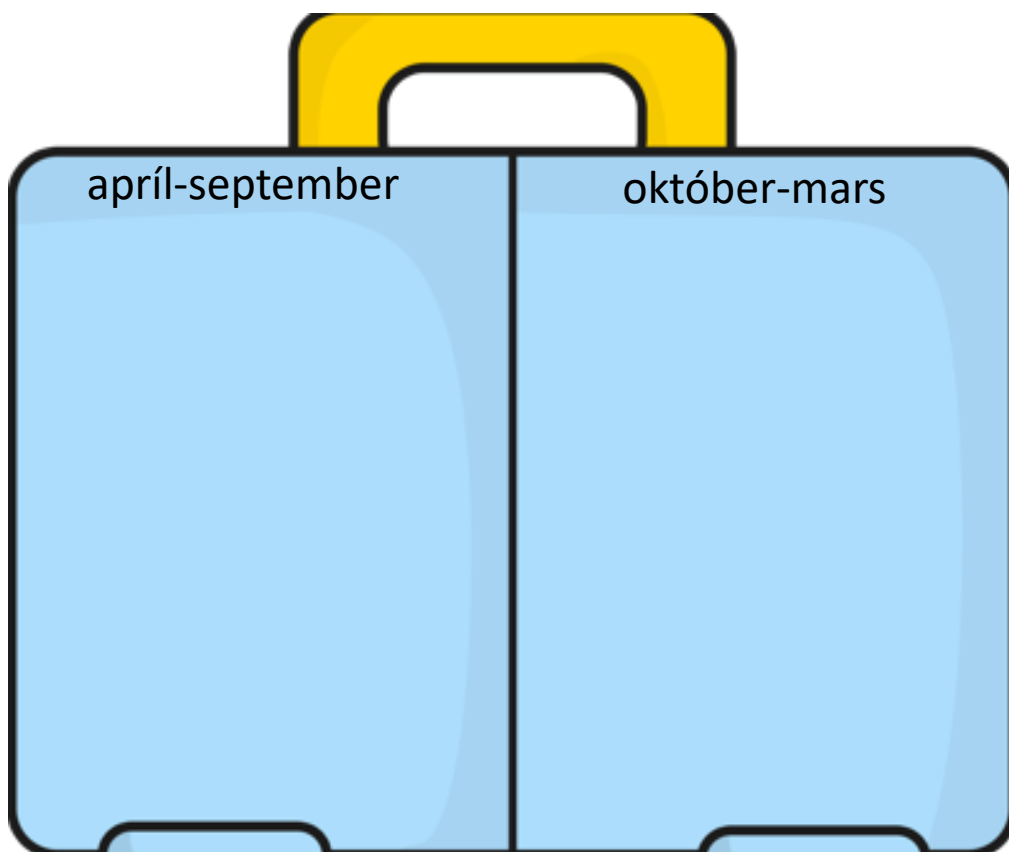
Tungumálið sem talað er í landinu er: _____

- Í landinu búa færri en 1 milljón manns
 1-10 milljón manns
 10-100 milljón manns
 100 milljón eða fleirri

Meðalhitinn apríl-september í landinu er: _____°C

Meðalhitinn október-mars í landinu er : _____°C

Hverju pakka ég þá niður í tösku ef ég fer í heimsókn þangað
Finndu myndir á netinu, afritaðu það sem þú þarft að nota og
límdu í töskuna




Staðsetning á hnettinum, getur afritað myndir í Wikipedia

6. Landið heitir: **Armenía** á íslensku og

_____ á ensku

Fáni landsins lítur svona út litaðu í réttum litum



twinkl.co.uk

- Landið er í Evrópu
 Asíu
 Afríku
 Norður-Ameríku
 Suður-Ameríku
 Eyjaálfu
 Antartíku

Gjaldmiðillinn í landinu heitir: _____ táknið fyrir hann er _____

Höfuborg landsins heitir: _____

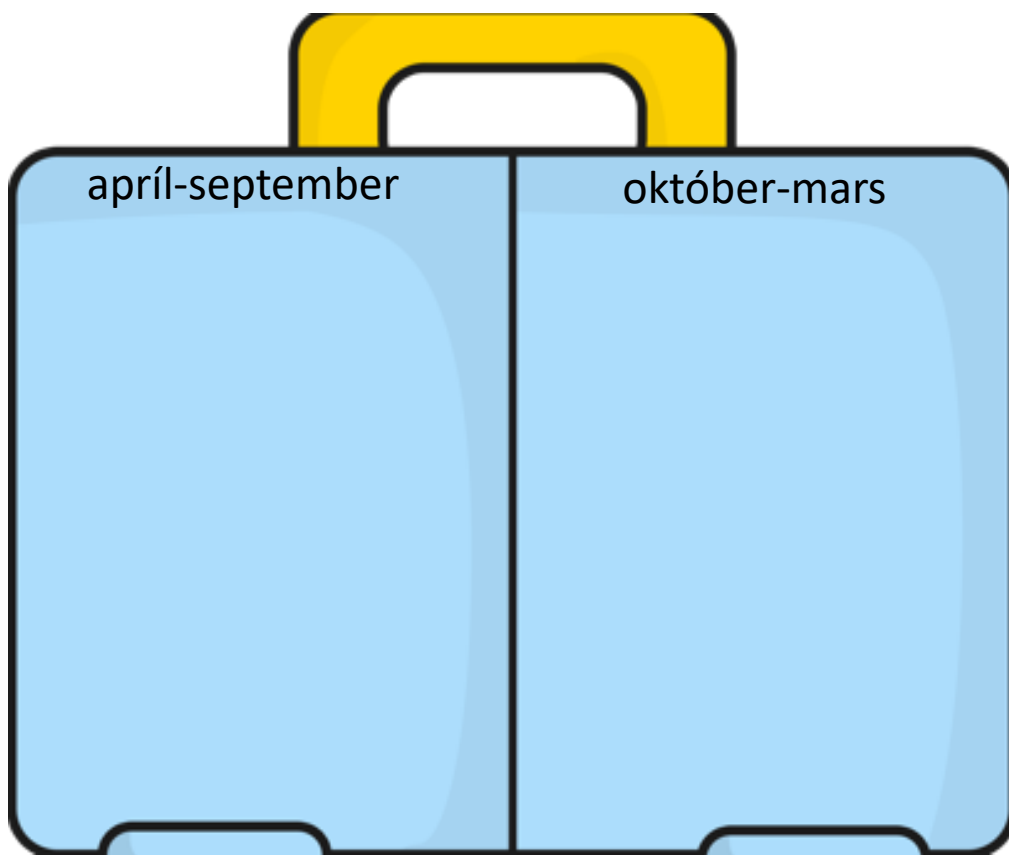
Tungumálið sem talað er í landinu er: _____

- Í landinu búa færri en 1 milljón manns
 1-10 milljón manns
 10-100 milljón manns
 100 milljón eða fleirri

Meðalhitinn apríl-september í landinu er: _____°C

Meðalhitinn október-mars í landinu er : _____°C

Hverju pakka ég þá niður í tösku ef ég fer í heimsókn þangað
Finndu myndir á netinu, afritaðu það sem þú þarft að nota og
límdu í töskuna

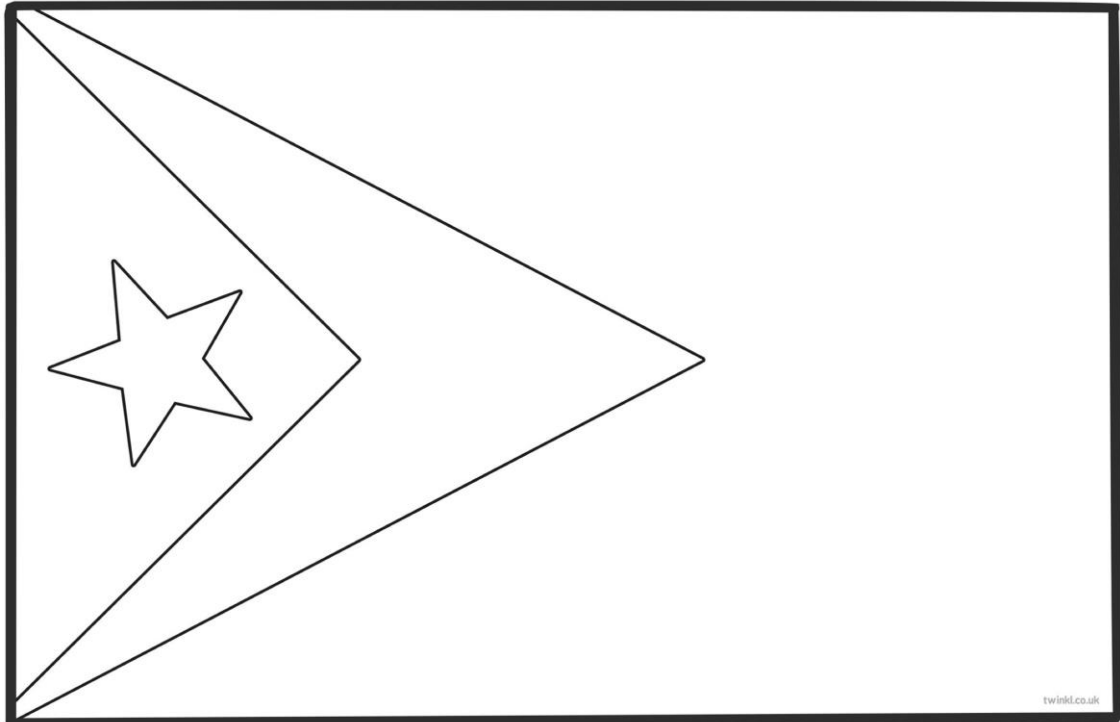


Staðsetning á hnettinum, getur afritað myndir í Wikipedia

9. Landið heitir: **Austur-Tímor** á íslensku og

á ensku

Fáni landsins lítur svona út litaðu í réttum litum



- Landið er í Evrópu
 Asíu
 Afríku
 Norður-Ameríku
 Suður-Ameríku
 Eyjaálfu
 Antartíku

Gjaldmiðillinn í landinu heitir: _____ táknið fyrir hann er _____

Höfuborg landsins heitir: _____

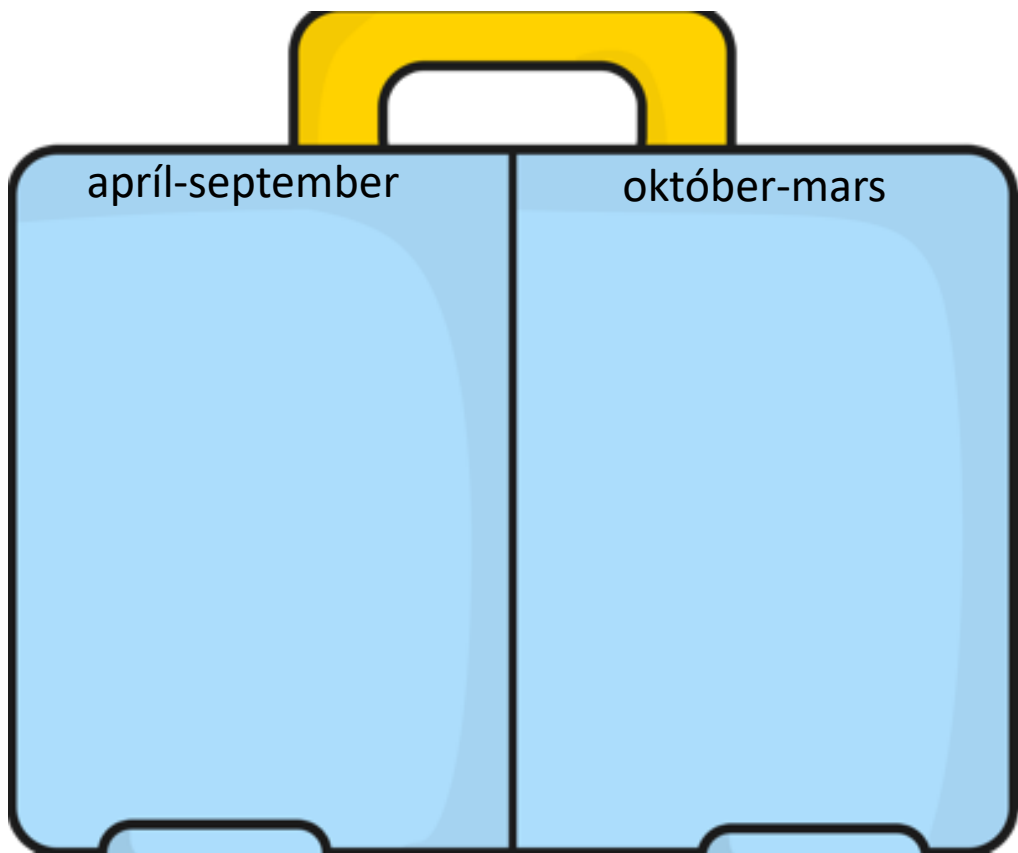
Tungumálið sem talað er í landinu er: _____

- Í landinu búa færri en 1 milljón manns
 1-10 milljón manns
 10-100 milljón manns
 100 milljón eða fleirri

Meðalhitinn apríl-september í landinu er: _____°C

Meðalhitinn október-mars í landinu er : _____°C

Hverju pakka ég þá niður í tösku ef ég fer í heimsókn þangað
Finndu myndir á netinu, afritaðu það sem þú þarft að nota og
límdu í töskuna

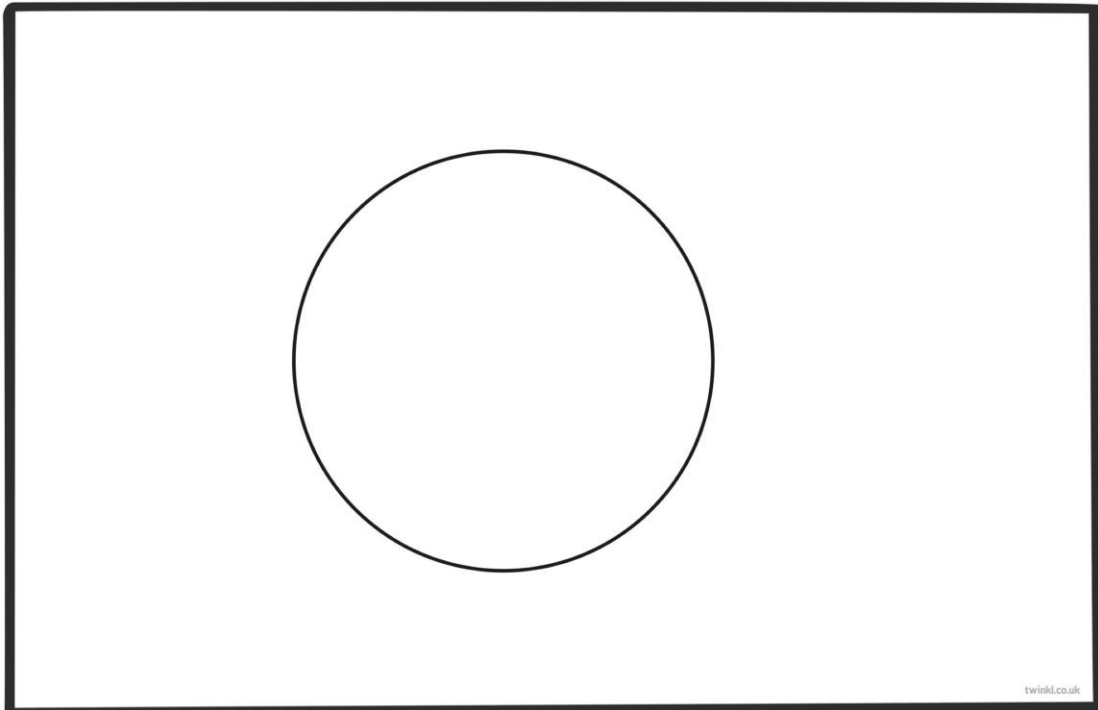


Staðsetning á hnettinum, getur afritað myndir í Wikipedia

13. Landið heitir: **Bangladesh** á íslensku og

á ensku

Fáni landsins lítur svona út litaðu í réttum litum



- Landið er í Evrópu
 Asíu
 Afríku
 Norður-Ameríku
 Suður-Ameríku
 Eyjaálfu
 Antartíku

Gjaldmiðillinn í landinu heitir: _____ táknið fyrir hann er _____

Höfuborg landsins heitir: _____

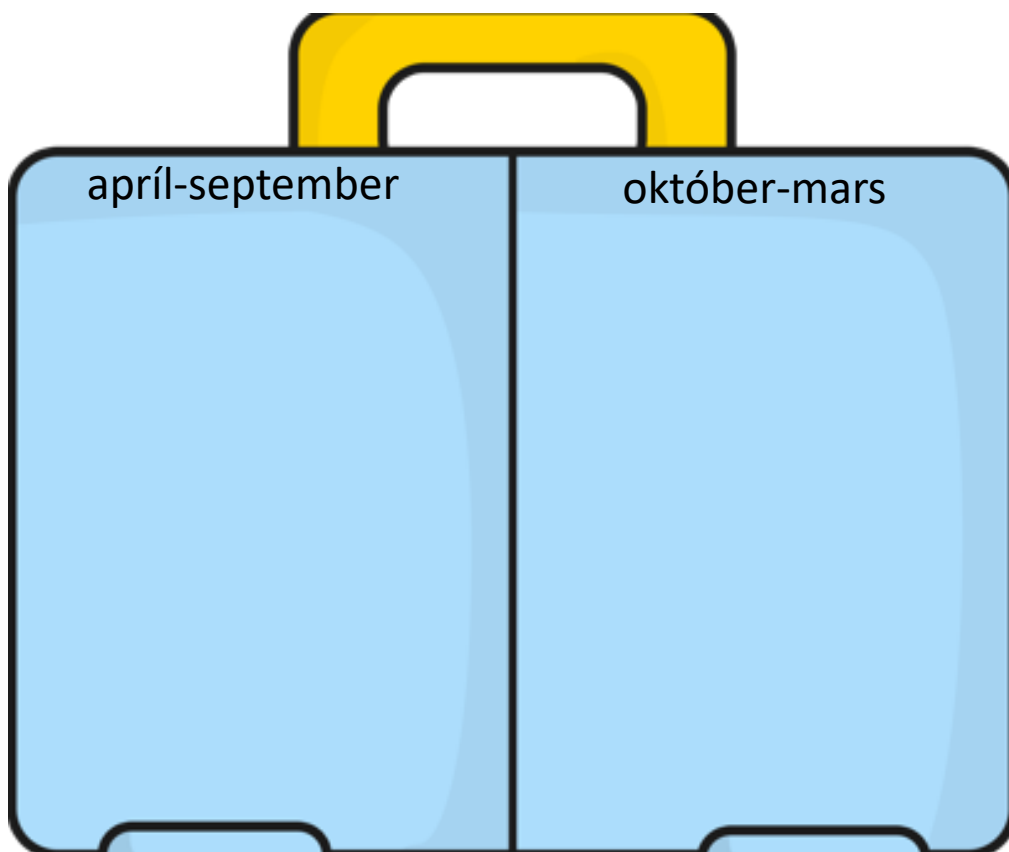
Tungumálið sem talað er í landinu er: _____

- Í landinu búa færri en 1 milljón manns
 1-10 milljón manns
 10-100 milljón manns
 100 milljón eða fleirri

Meðalhitinn apríl-september í landinu er: _____°C

Meðalhitinn október-mars í landinu er : _____°C

Hverju pakka ég þá niður í tösku ef ég fer í heimsókn þangað
Finndu myndir á netinu, afritaðu það sem þú þarft að nota og
límdu í töskuna

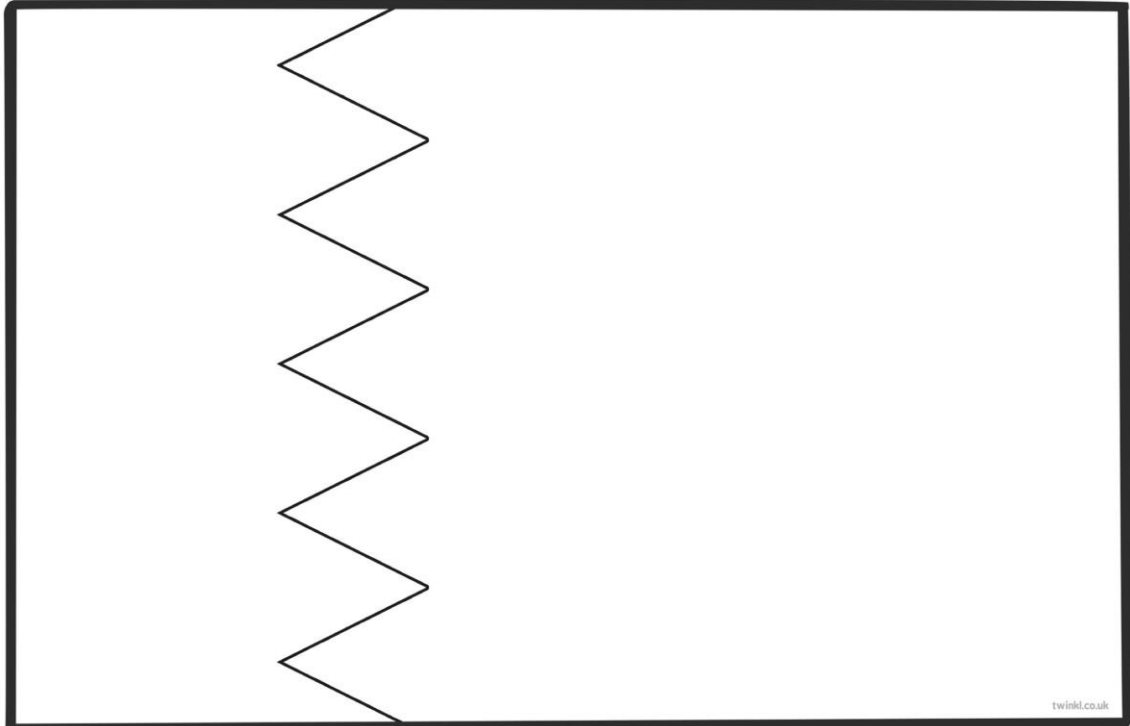


Staðsetning á hnettinum, getur afritað myndir í Wikipedia

15. Landið heitir: **Barein** á íslensku og

_____ á ensku

Fáni landsins lítur svona út litaðu í réttum litum



- Landið er í Evrópu
 Asíu
 Afríku
 Norður-Ameríku
 Suður-Ameríku
 Eyjaálfu
 Antartíku

Gjaldmiðillinn í landinu heitir: _____ táknið fyrir hann er _____

Höfuborg landsins heitir: _____

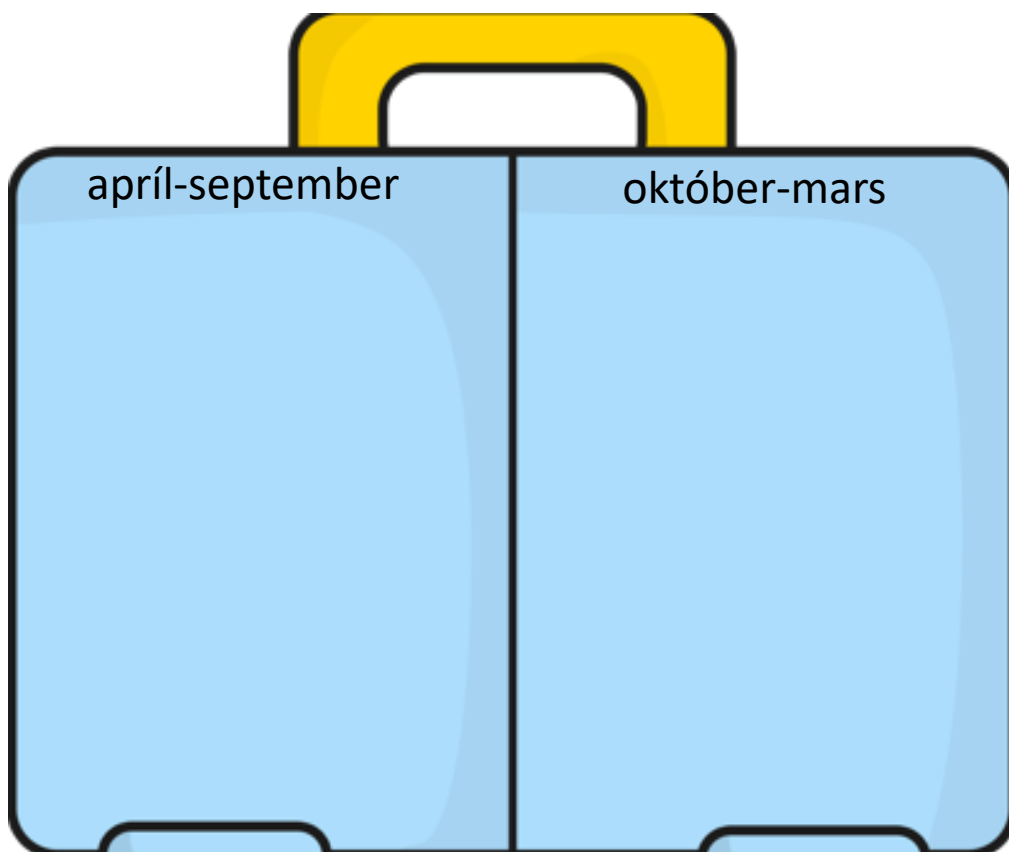
Tungumálið sem talað er í landinu er: _____

- Í landinu búa færri en 1 milljón manns
 1-10 milljón manns
 10-100 milljón manns
 100 milljón eða fleirri

Meðalhitinn apríl-september í landinu er: _____°C

Meðalhitinn október-mars í landinu er : _____°C

Hverju pakka ég þá niður í tösku ef ég fer í heimsókn þangað
Finndu myndir á netinu, afritaðu það sem þú þarft að nota og
límdu í töskuna




Staðsetning á hnettinum, getur afritað myndir í Wikipedia

23. Landið heitir: **Brúnei** á íslensku og

á ensku

Fáni landsins lítur svona út litaðu í réttum litum



- Landið er í Evrópu
 Asíu
 Afríku
 Norður-Ameríku
 Suður-Ameríku
 Eyjaálfu
 Antartíku

Gjaldmiðillinn í landinu heitir: _____ táknið fyrir hann er _____

Höfuborg landsins heitir: _____

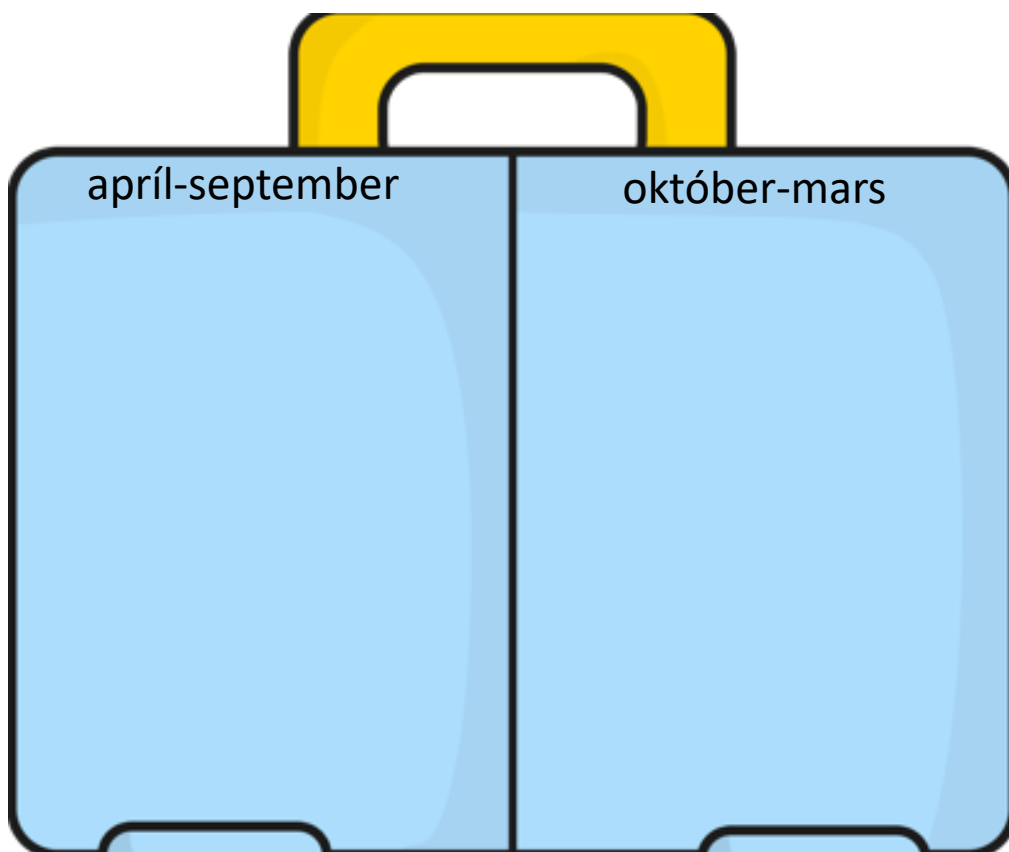
Tungumálið sem talað er í landinu er: _____

- Í landinu búa færri en 1 milljón manns
 1-10 milljón manns
 10-100 milljón manns
 100 milljón eða fleirri

Meðalhitinn apríl-september í landinu er: _____°C

Meðalhitinn október-mars í landinu er : _____°C

Hverju pakka ég þá niður í tösku ef ég fer í heimsókn þangað
Finndu myndir á netinu, afritaðu það sem þú þarft að nota og
límdu í töskuna




Staðsetning á hnettinum, getur afritað myndir í Wikipedia

36. Landið heitir: **Filippseyjar** á íslensku og

_____ á ensku

Fáni landsins lítur svona út litaðu í réttum litum



- Landið er í Evrópu
 Asíu
 Afríku
 Norður-Ameríku
 Suður-Ameríku
 Eyjaálfu
 Antartíku

Gjaldmiðillinn í landinu heitir: _____ táknið fyrir hann er _____

Höfuborg landsins heitir: _____

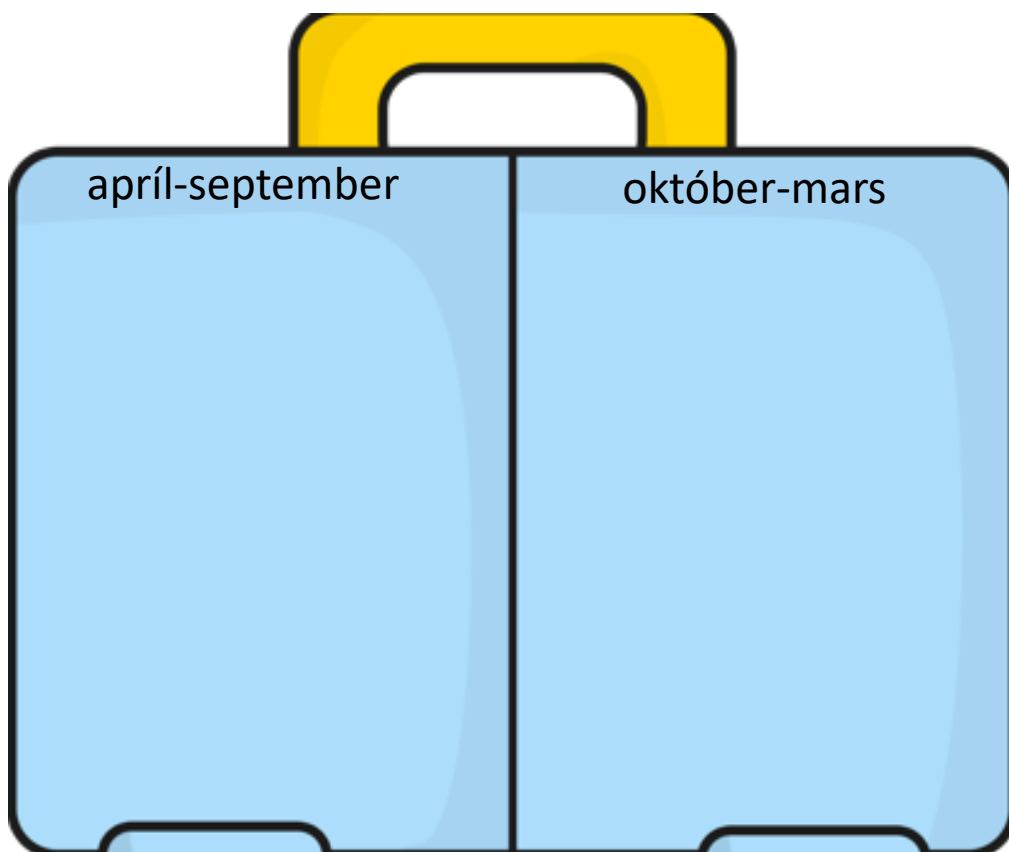
Tungumálið sem talað er í landinu er: _____

- Í landinu búa færri en 1 milljón manns
 1-10 milljón manns
 10-100 milljón manns
 100 milljón eða fleirri

Meðalhitinn apríl-september í landinu er: _____°C

Meðalhitinn október-mars í landinu er : _____°C

Hverju pakka ég þá niður í tösku ef ég fer í heimsókn þangað
Finndu myndir á netinu, afritaðu það sem þú þarft að nota og
límdu í töskuna




Staðsetning á hnettinum, getur afritað myndir í Wikipedia

42. Landið heitir: **Georgía** á íslensku og

_____ á ensku

Fáni landsins lítur svona út litaðu í réttum litum



- Landið er í Evrópu
 Asíu
 Afríku
 Norður-Ameríku
 Suður-Ameríku
 Eyjaálfu
 Antartíku

Gjaldmiðillinn í landinu heitir: _____ táknið fyrir hann er _____

Höfuborg landsins heitir: _____

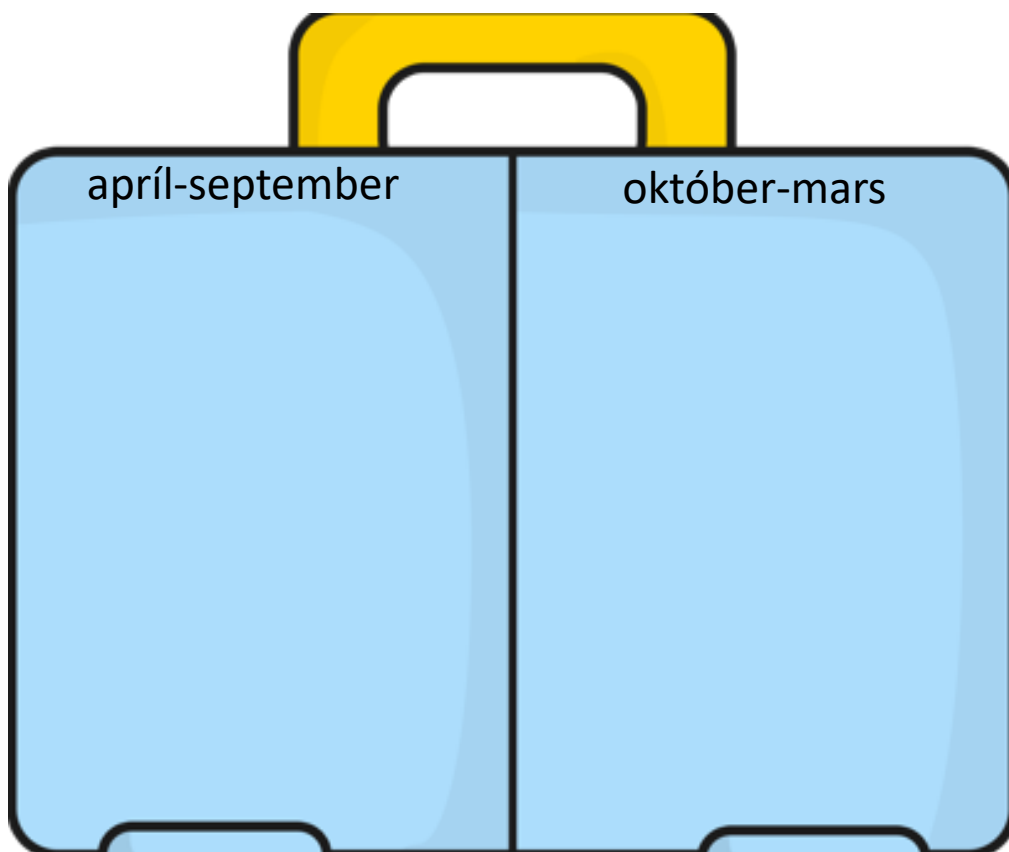
Tungumálið sem talað er í landinu er: _____

- Í landinu búa færri en 1 milljón manns
 1-10 milljón manns
 10-100 milljón manns
 100 milljón eða fleirri

Meðalhitinn apríl-september í landinu er: _____°C

Meðalhitinn október-mars í landinu er : _____°C

Hverju pakka ég þá niður í tösku ef ég fer í heimsókn þangað
Finndu myndir á netinu, afritaðu það sem þú þarft að nota og
límdu í töskuna

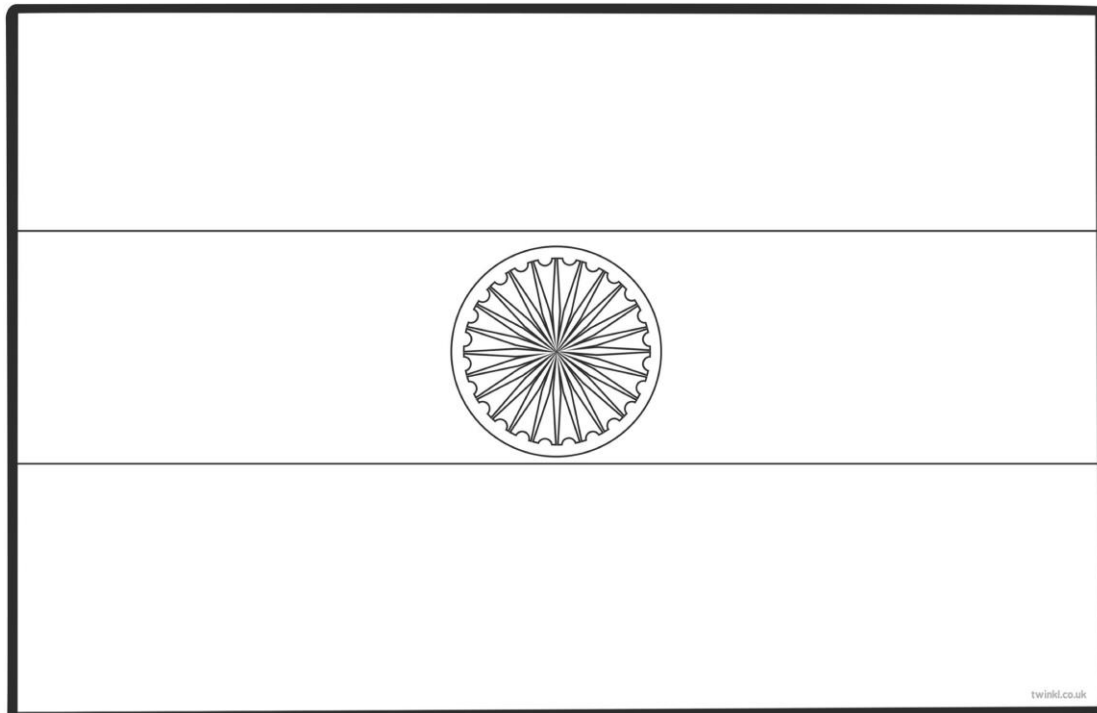


Staðsetning á hnettinum, getur afritað myndir í Wikipedia

50. Landið heitir: **Indland** á íslensku og

_____ á ensku

Fáni landsins lítur svona út litaðu í réttum litum



- Landið er í Evrópu
 Asíu
 Afríku
 Norður-Ameríku
 Suður-Ameríku
 Eyjaálfu
 Antartíku

Gjaldmiðillinn í landinu heitir: _____ táknið fyrir hann er _____

Höfuborg landsins heitir: _____

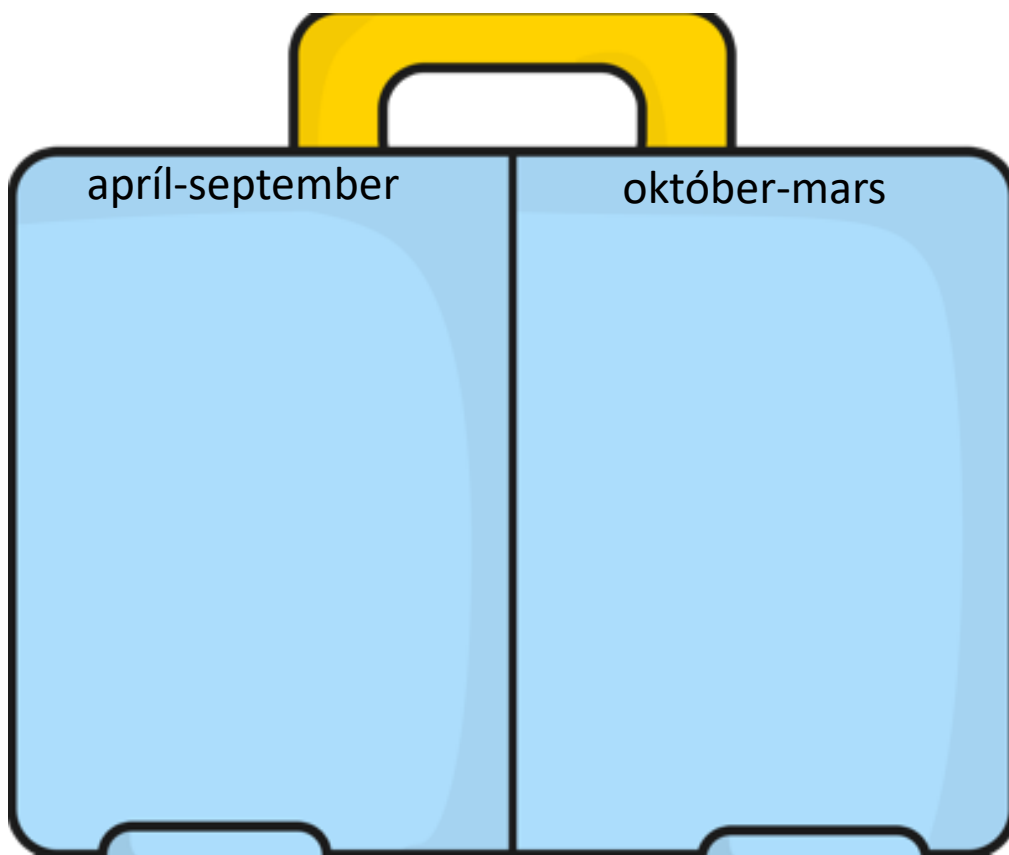
Tungumálið sem talað er í landinu er: _____

- Í landinu búa færri en 1 milljón manns
 1-10 milljón manns
 10-100 milljón manns
 100 milljón eða fleirri

Meðalhitinn apríl-september í landinu er: _____°C

Meðalhitinn október-mars í landinu er : _____°C

Hverju pakka ég þá niður í tösku ef ég fer í heimsókn þangað
Finndu myndir á netinu, afritaðu það sem þú þarft að nota og
límdu í töskuna



Staðsetning á hnettinum, getur afritað myndir í Wikipedia

51. Landið heitir: **Indónesía** á íslensku og

_____ á ensku

Fáni landsins lítur svona út litaðu í réttum litum



- Landið er í Evrópu
 Asíu
 Afríku
 Norður-Ameríku
 Suður-Ameríku
 Eyjaálfu
 Antartíku

Gjaldmiðillinn í landinu heitir: _____ táknið fyrir hann er _____

Höfuborg landsins heitir: _____

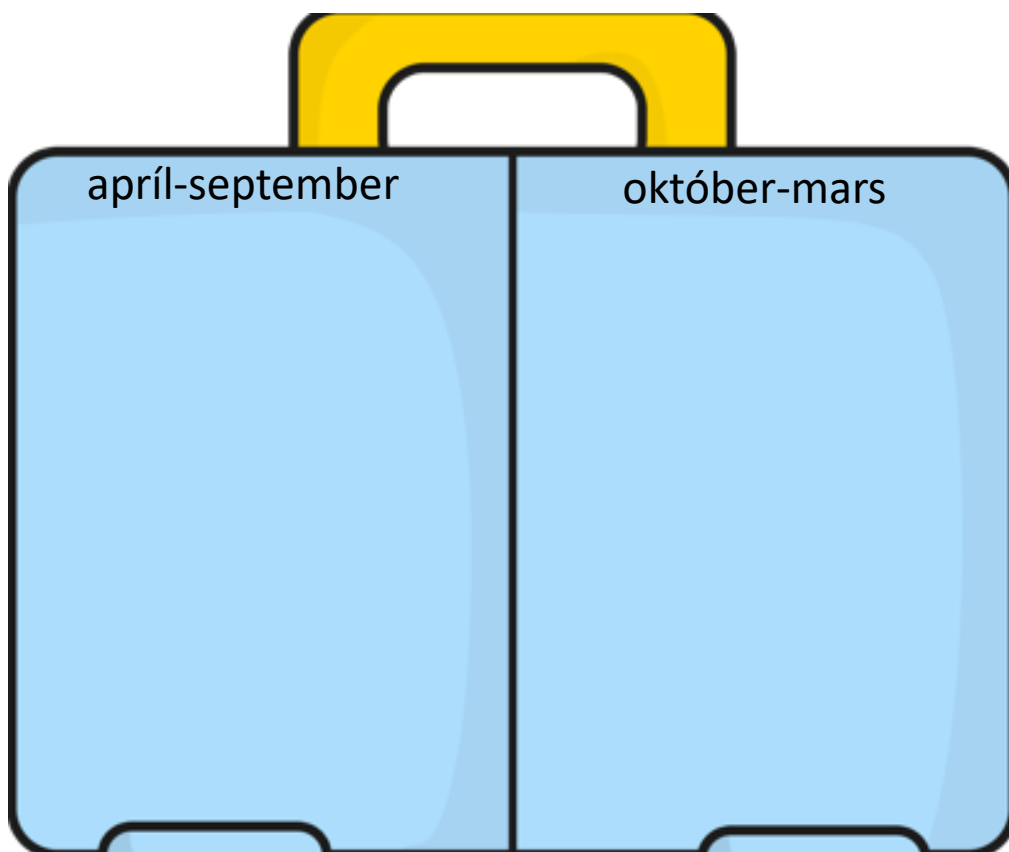
Tungumálið sem talað er í landinu er: _____

- Í landinu búa færri en 1 milljón manns
 1-10 milljón manns
 10-100 milljón manns
 100 milljón eða fleirri

Meðalhitinn apríl-september í landinu er: _____°C

Meðalhitinn október-mars í landinu er : _____°C

Hverju pakka ég þá niður í tösku ef ég fer í heimsókn þangað
Finndu myndir á netinu, afritaðu það sem þú þarft að nota og
límdu í töskuna




Staðsetning á hnettinum, getur afritað myndir í Wikipedia

52. Landið heitir: **Írak** á íslensku og

á ensku

Fáni landsins lítur svona út litaðu í réttum litum



- Landið er í Evrópu
 Asíu
 Afríku
 Norður-Ameríku
 Suður-Ameríku
 Eyjaálfu
 Antartíku

Gjaldmiðillinn í landinu heitir: _____ táknið fyrir hann er _____

Höfuborg landsins heitir: _____

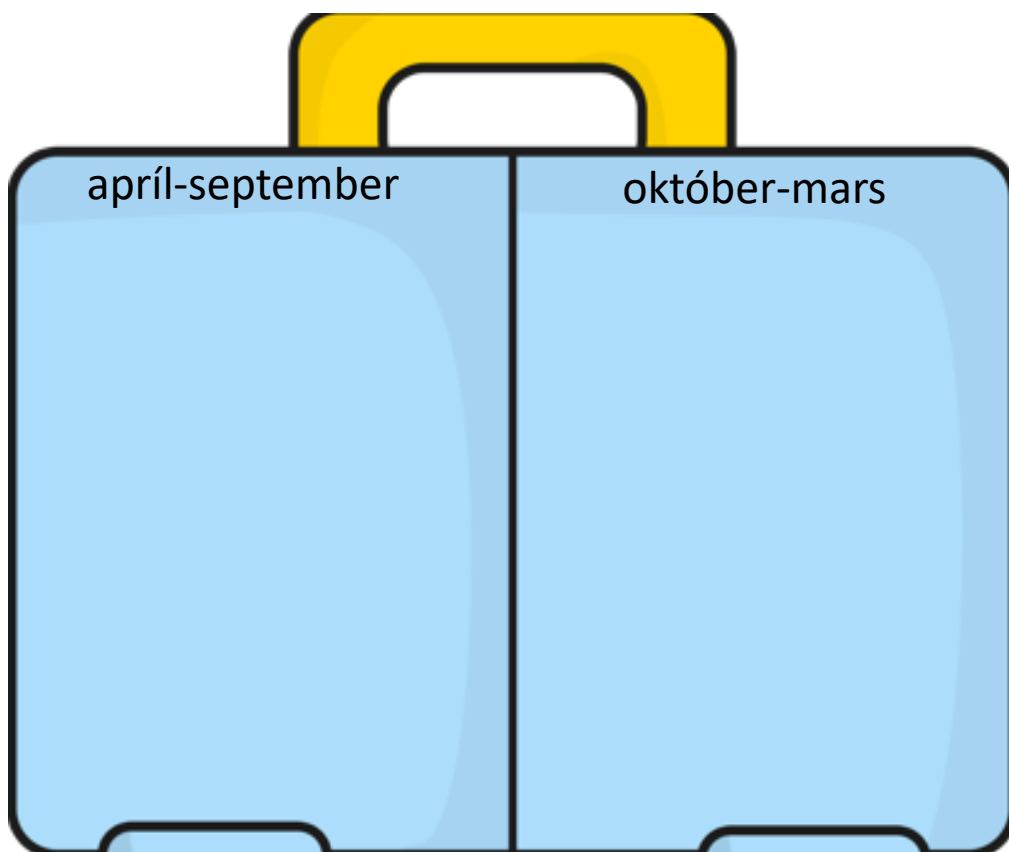
Tungumálið sem talað er í landinu er: _____

- Í landinu búa færri en 1 milljón manns
 1-10 milljón manns
 10-100 milljón manns
 100 milljón eða fleirri

Meðalhitinn apríl-september í landinu er: _____°C

Meðalhitinn október-mars í landinu er : _____°C

Hverju pakka ég þá niður í tösku ef ég fer í heimsókn þangað
Finndu myndir á netinu, afritaðu það sem þú þarft að nota og
límdu í töskuna

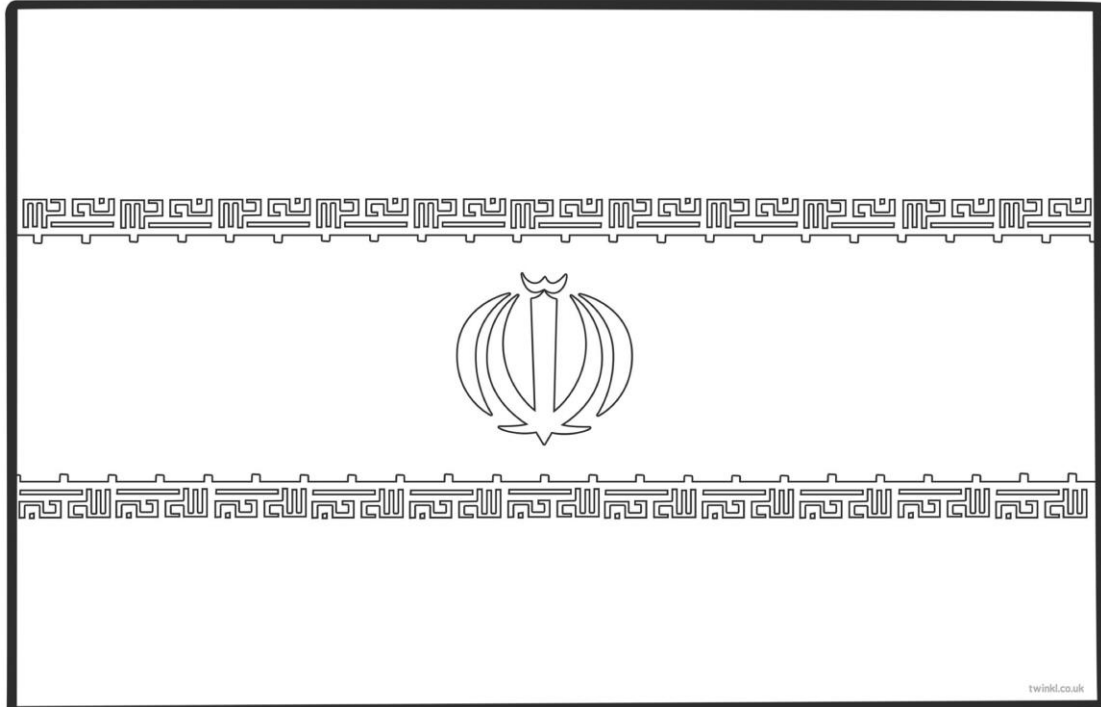


Staðsetning á hnettinum, getur afritað myndir í Wikipedia

53. Landið heitir: **Íran** á íslensku og

á ensku

Fáni landsins lítur svona út litaðu í réttum litum



- Landið er í Evrópu
 Asíu
 Afríku
 Norður-Ameríku
 Suður-Ameríku
 Eyjaálfu
 Antartíku

Gjaldmiðillinn í landinu heitir: _____ táknið fyrir hann er _____

Höfuborg landsins heitir: _____

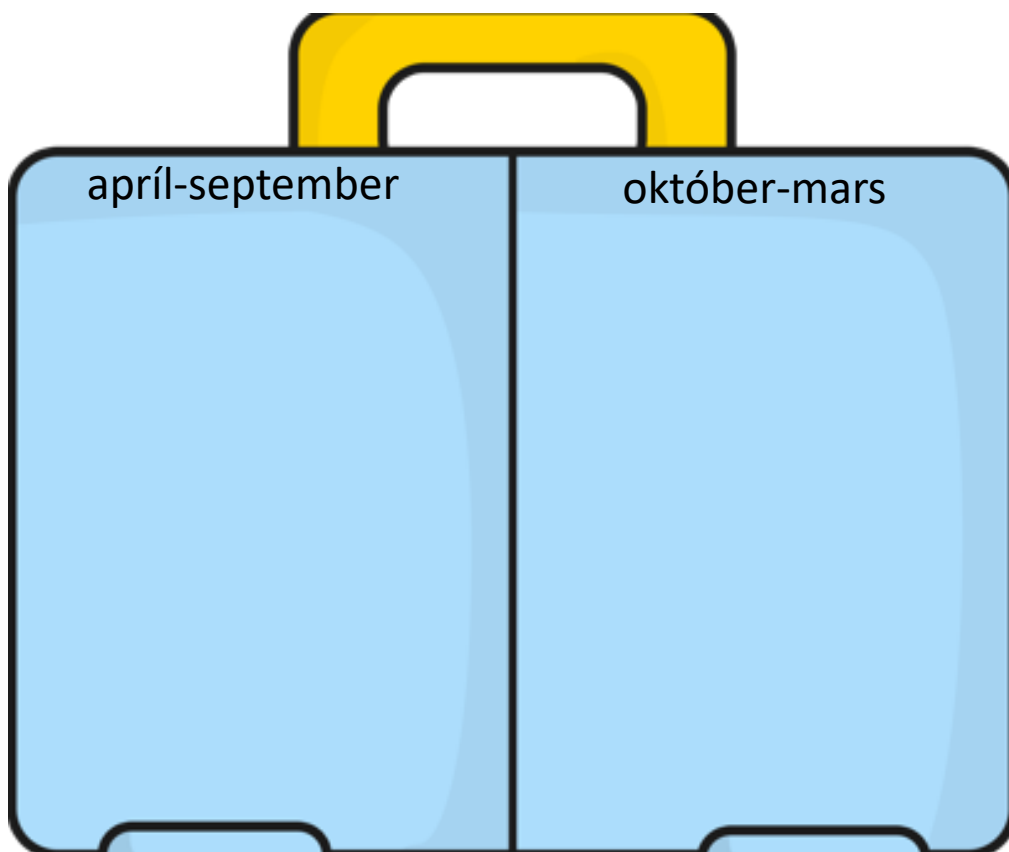
Tungumálið sem talað er í landinu er: _____

- Í landinu búa færri en 1 milljón manns
 1-10 milljón manns
 10-100 milljón manns
 100 milljón eða fleirri

Meðalhitinn apríl-september í landinu er: _____°C

Meðalhitinn október-mars í landinu er : _____°C

Hverju pakka ég þá niður í tösku ef ég fer í heimsókn þangað
Finndu myndir á netinu, afritaðu það sem þú þarft að nota og
límdu í töskuna




Staðsetning á hnettinum, getur afritað myndir í Wikipedia

59. Landið heitir: **Japan** á íslensku og

_____ á ensku

Fáni landsins lítur svona út litaðu í réttum litum



- Landið er í Evrópu
 Asíu
 Afríku
 Norður-Ameríku
 Suður-Ameríku
 Eyjaálfu
 Antartíku

Gjaldmiðillinn í landinu heitir: _____ táknið fyrir hann er _____

Höfuborg landsins heitir: _____

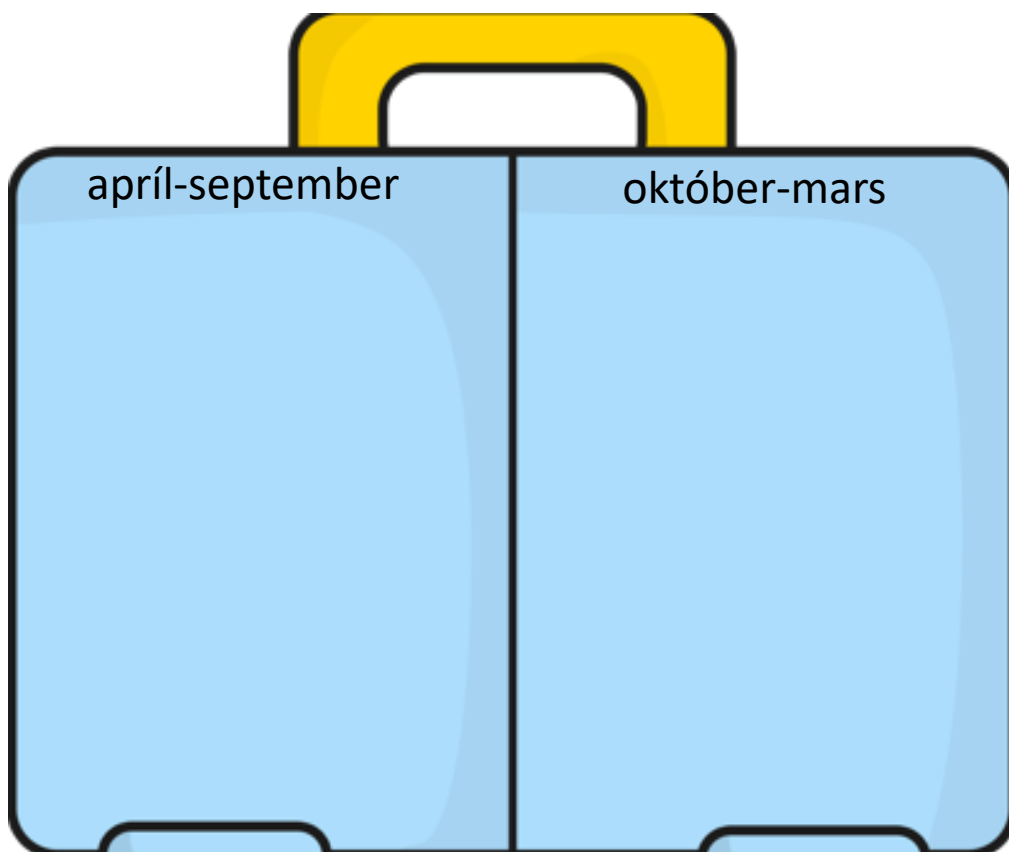
Tungumálið sem talað er í landinu er: _____

- Í landinu búa færri en 1 milljón manns
 1-10 milljón manns
 10-100 milljón manns
 100 milljón eða fleirri

Meðalhitinn apríl-september í landinu er: _____°C

Meðalhitinn október-mars í landinu er : _____°C

Hverju pakka ég þá niður í tösku ef ég fer í heimsókn þangað
Finndu myndir á netinu, afritaðu það sem þú þarft að nota og
límdu í töskuna




Staðsetning á hnettinum, getur afritað myndir í Wikipedia

60. Landið heitir: **Jemen** á íslensku og

_____ á ensku

Fáni landsins lítur svona út litaðu í réttum litum



twinkl.co.uk

- Landið er í Evrópu
 Asíu
 Afríku
 Norður-Ameríku
 Suður-Ameríku
 Eyjaálfu
 Antartíku

Gjaldmiðillinn í landinu heitir: _____ táknið fyrir hann er _____

Höfuborg landsins heitir: _____

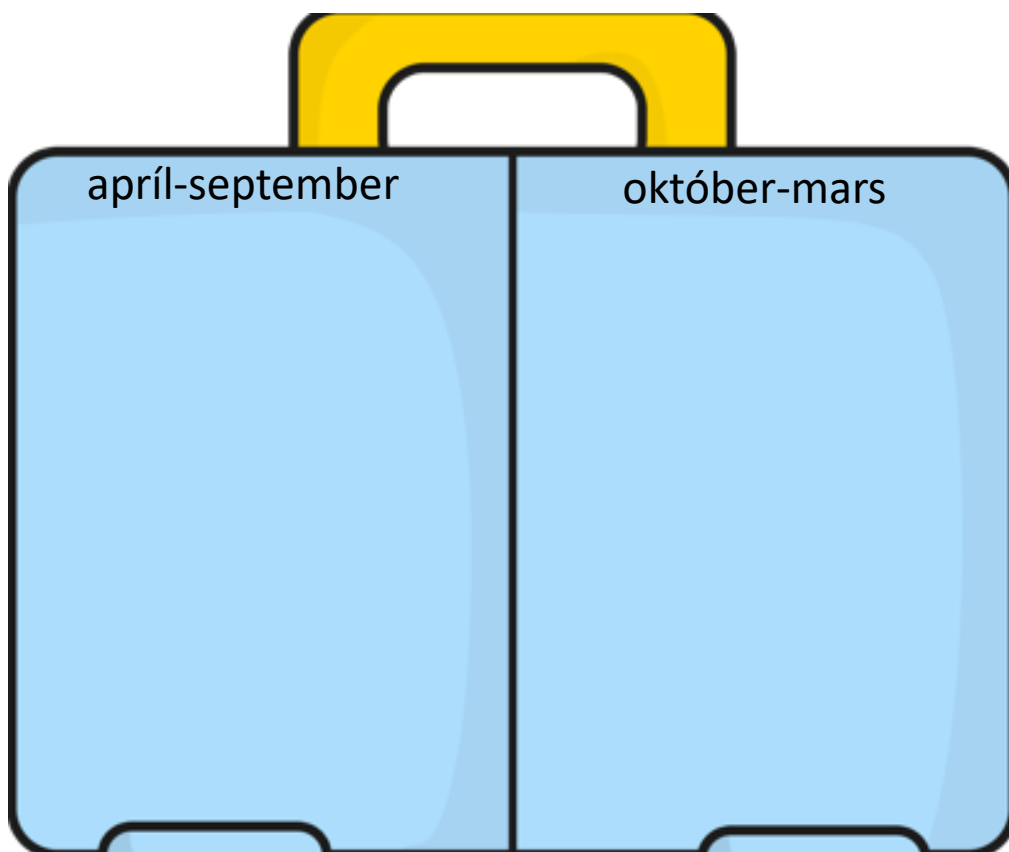
Tungumálið sem talað er í landinu er: _____

- Í landinu búa færri en 1 milljón manns
 1-10 milljón manns
 10-100 milljón manns
 100 milljón eða fleirri

Meðalhitinn apríl-september í landinu er: _____°C

Meðalhitinn október-mars í landinu er : _____°C

Hverju pakka ég þá niður í tösku ef ég fer í heimsókn þangað
Finndu myndir á netinu, afritaðu það sem þú þarft að nota og
límdu í töskuna

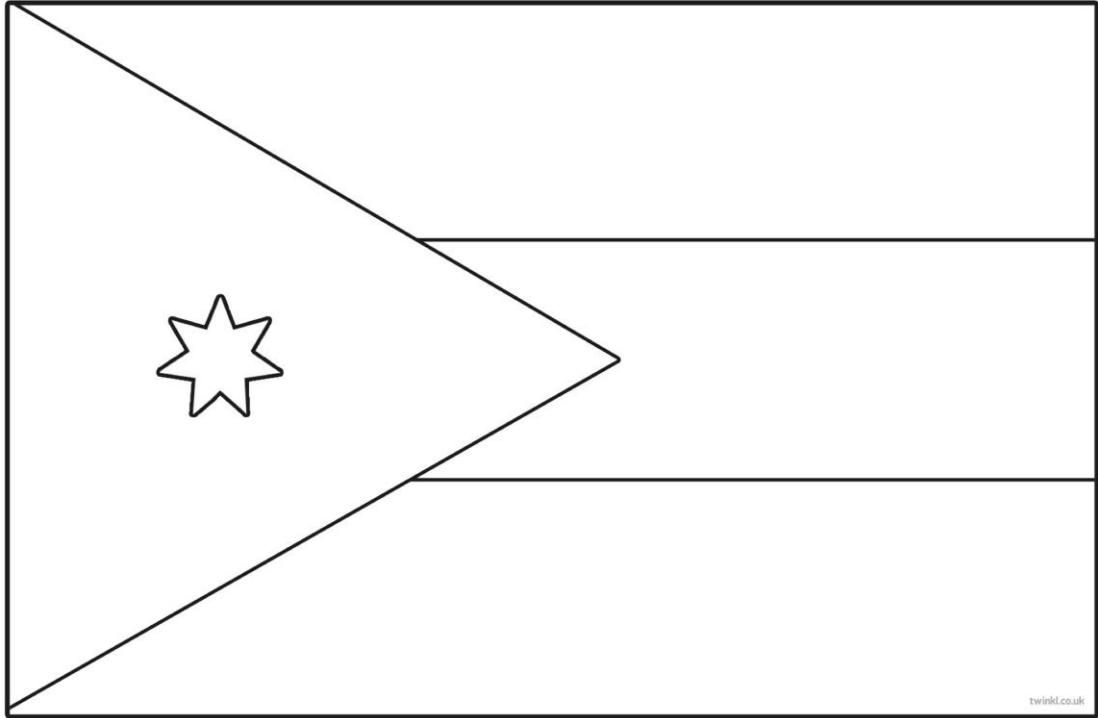


Staðsetning á hnettinum, getur afritað myndir í Wikipedia

61. Landið heitir: **Jórdanía** á íslensku og

_____ á ensku

Fáni landsins lítur svona út litaðu í réttum litum



- Landið er í Evrópu
 Asíu
 Afríku
 Norður-Ameríku
 Suður-Ameríku
 Eyjaálfu
 Antartíku

Gjaldmiðillinn í landinu heitir: _____ táknið fyrir hann er _____

Höfuborg landsins heitir: _____

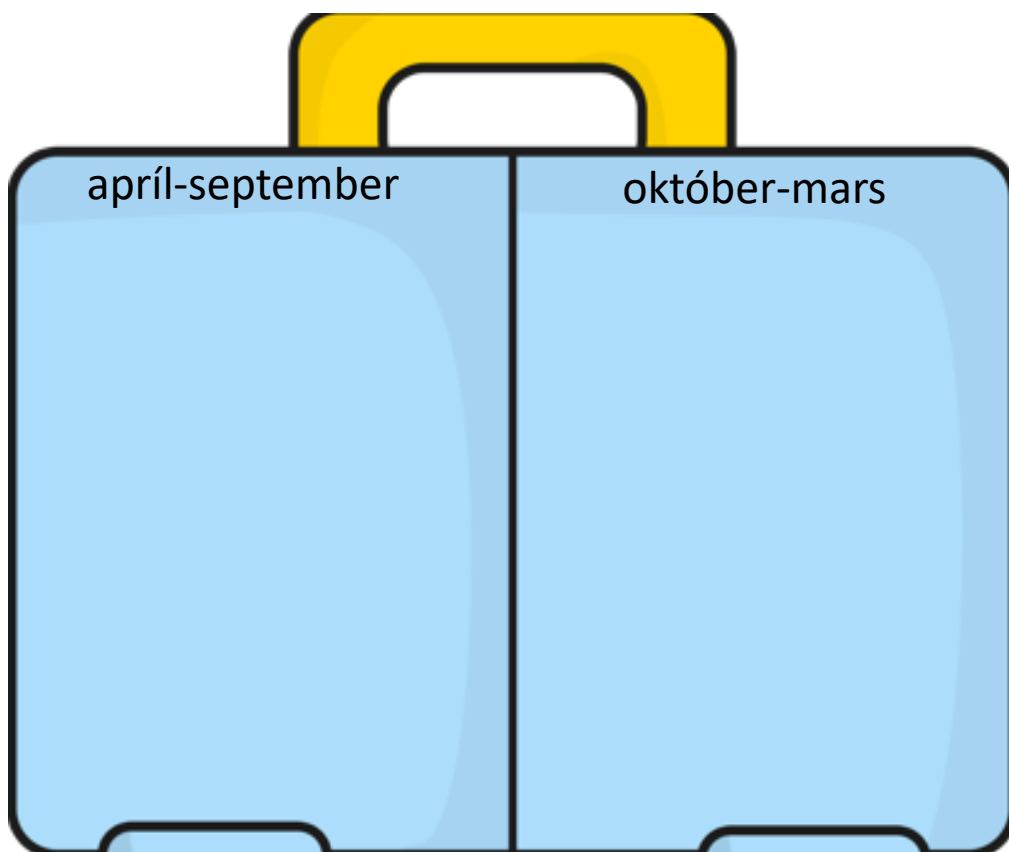
Tungumálið sem talað er í landinu er: _____

- Í landinu búa færri en 1 milljón manns
 1-10 milljón manns
 10-100 milljón manns
 100 milljón eða fleirri

Meðalhitinn apríl-september í landinu er: _____°C

Meðalhitinn október-mars í landinu er : _____°C

Hverju pakka ég þá niður í tösku ef ég fer í heimsókn þangað
Finndu myndir á netinu, afritaðu það sem þú þarft að nota og
límdu í töskuna




Staðsetning á hnettinum, getur afritað myndir í Wikipedia

64. Landið heitir: **Kasakstan** á íslensku og

á ensku

Fáni landsins lítur svona út litaðu í réttum litum



- Landið er í Evrópu
 Asíu
 Afríku
 Norður-Ameríku
 Suður-Ameríku
 Eyjaálfu
 Antartíku

Gjaldmiðillinn í landinu heitir: _____ táknið fyrir hann er _____

Höfuborg landsins heitir: _____

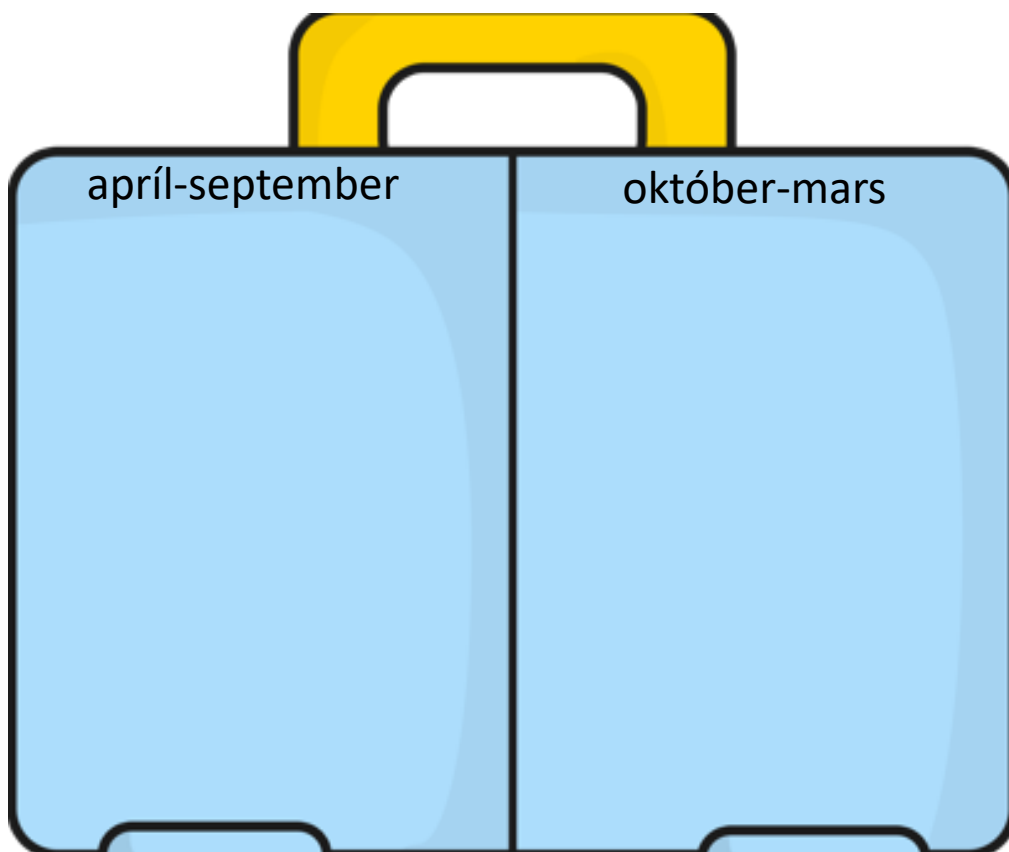
Tungumálið sem talað er í landinu er: _____

- Í landinu búa færri en 1 milljón manns
 1-10 milljón manns
 10-100 milljón manns
 100 milljón eða fleirri

Meðalhitinn apríl-september í landinu er: _____°C

Meðalhitinn október-mars í landinu er : _____°C

Hverju pakka ég þá niður í tösku ef ég fer í heimsókn þangað
Finndu myndir á netinu, afritaðu það sem þú þarft að nota og
límdu í töskuna

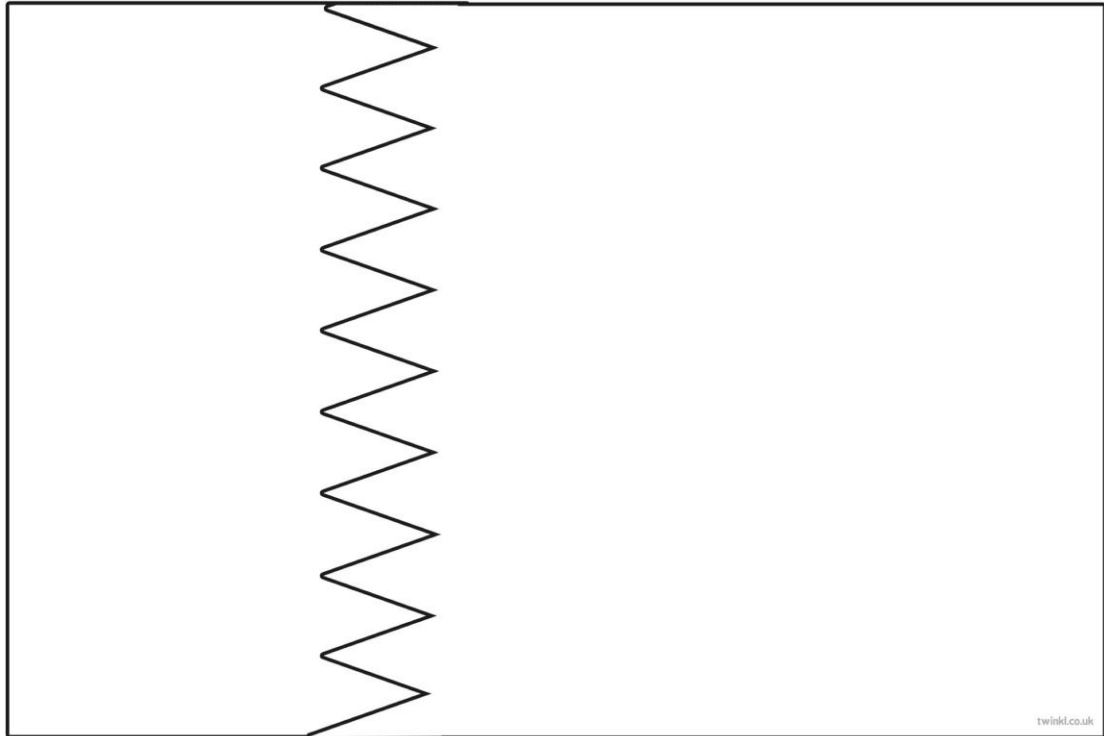


Staðsetning á hnettinum, getur afritað myndir í Wikipedia

65. Landið heitir: **Katar** á íslensku og

_____ á ensku

Fáni landsins lítur svona út litaðu í réttum litum



- Landið er í Evrópu
 Asíu
 Afríku
 Norður-Ameríku
 Suður-Ameríku
 Eyjaálfu
 Antartíku

Gjaldmiðillinn í landinu heitir: _____ táknið fyrir hann er _____

Höfuborg landsins heitir: _____

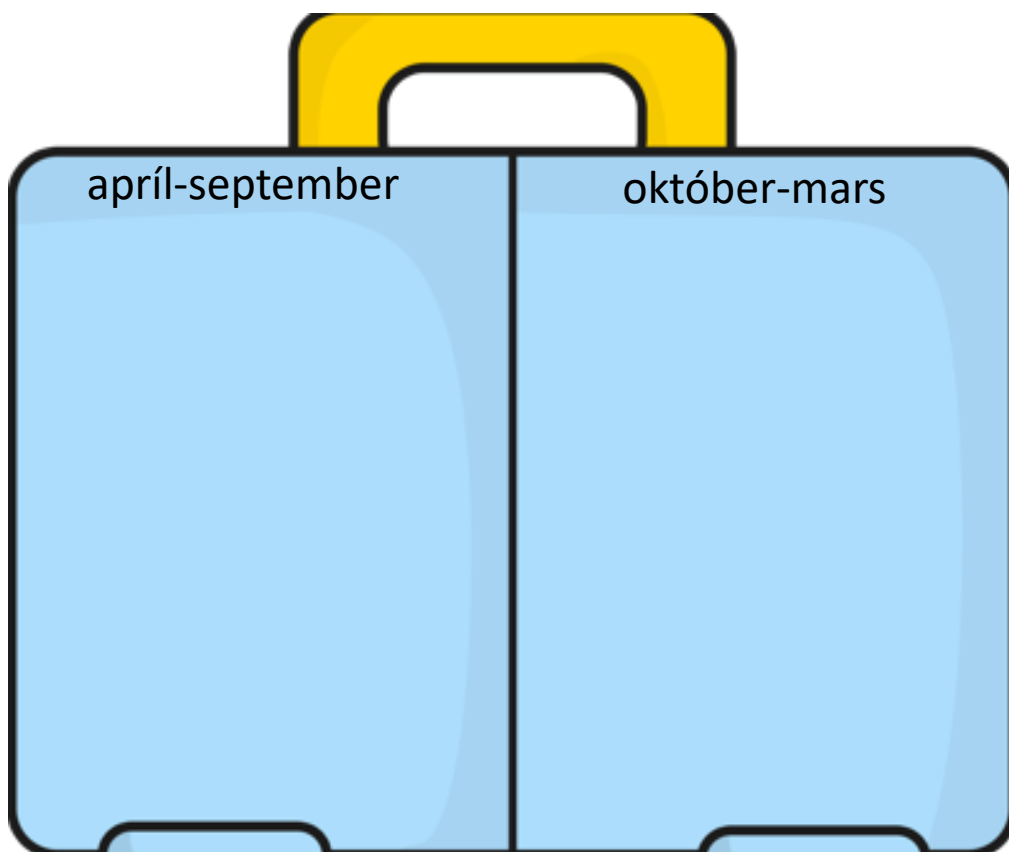
Tungumálið sem talað er í landinu er: _____

- Í landinu búa færri en 1 milljón manns
 1-10 milljón manns
 10-100 milljón manns
 100 milljón eða fleirri

Meðalhitinn apríl-september í landinu er: _____°C

Meðalhitinn október-mars í landinu er : _____°C

Hverju pakka ég þá niður í tösku ef ég fer í heimsókn þangað
Finndu myndir á netinu, afritaðu það sem þú þarft að nota og
límdu í töskuna




Staðsetning á hnettinum, getur afritað myndir í Wikipedia

67. Landið heitir: **Kína** á íslensku og

_____ á ensku

Fáni landsins lítur svona út litaðu í réttum litum



- Landið er í Evrópu
 Asíu
 Afríku
 Norður-Ameríku
 Suður-Ameríku
 Eyjaálfu
 Antartíku

Gjaldmiðillinn í landinu heitir: _____ táknið fyrir hann er _____

Höfuborg landsins heitir: _____

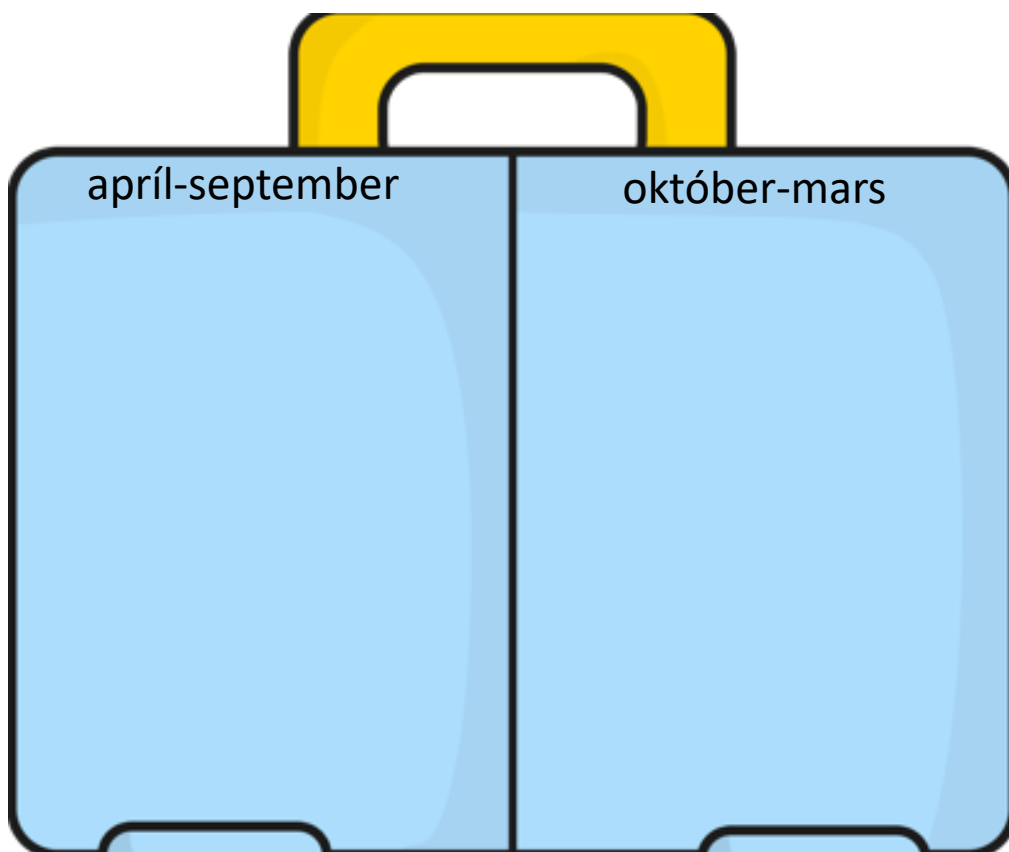
Tungumálið sem talað er í landinu er: _____

- Í landinu búa færri en 1 milljón manns
 1-10 milljón manns
 10-100 milljón manns
 100 milljón eða fleirri

Meðalhitinn apríl-september í landinu er: _____°C

Meðalhitinn október-mars í landinu er : _____°C

Hverju pakka ég þá niður í tösku ef ég fer í heimsókn þangað
Finndu myndir á netinu, afritaðu það sem þú þarft að nota og
límdu í töskuna

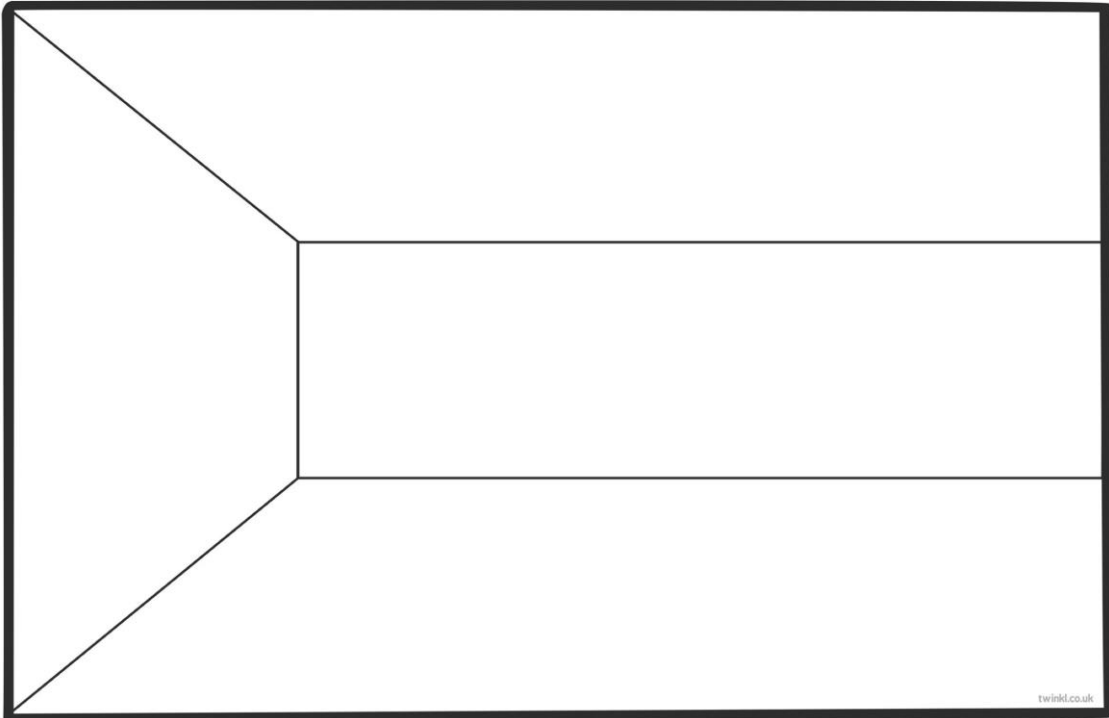


Staðsetning á hnettinum, getur afritað myndir í Wikipedia

74. Landið heitir: **Kúveit** á íslensku og

_____ á ensku

Fáni landsins lítur svona út litaðu í réttum litum



- Landið er í Evrópu
 Asíu
 Afríku
 Norður-Ameríku
 Suður-Ameríku
 Eyjaálfu
 Antartíku

Gjaldmiðillinn í landinu heitir: _____ táknið fyrir hann er _____

Höfuborg landsins heitir: _____

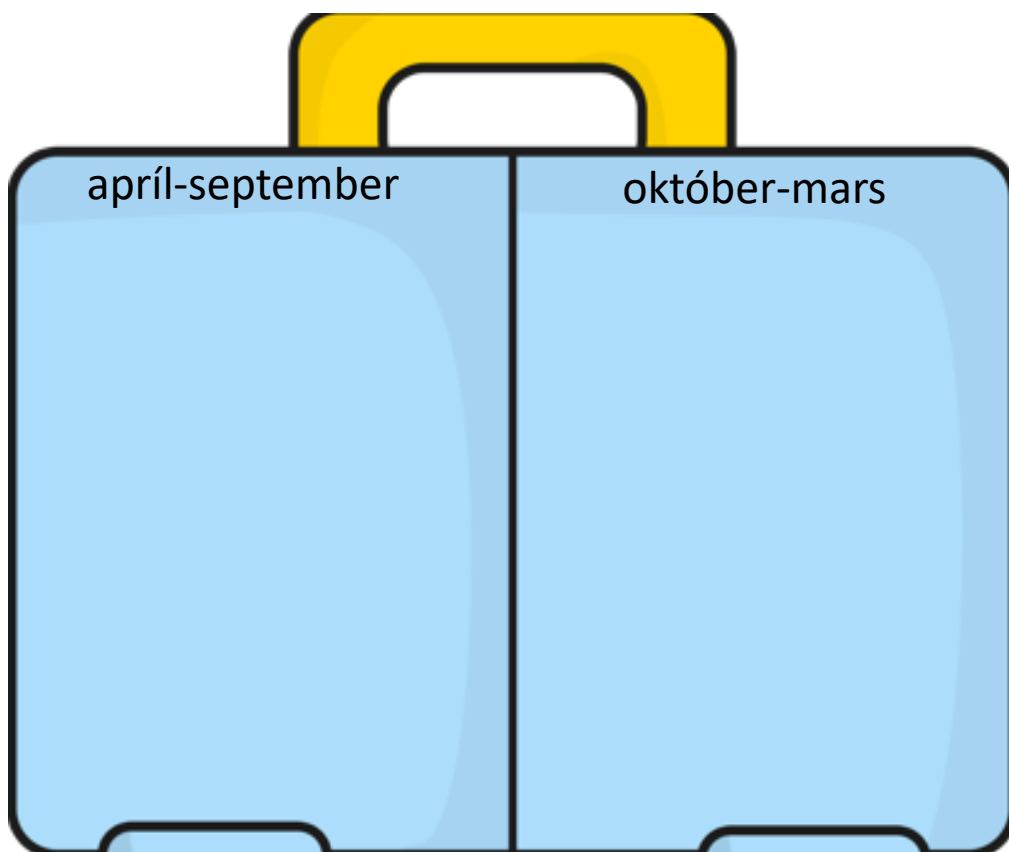
Tungumálið sem talað er í landinu er: _____

- Í landinu búa færri en 1 milljón manns
 1-10 milljón manns
 10-100 milljón manns
 100 milljón eða fleirri

Meðalhitinn apríl-september í landinu er: _____°C

Meðalhitinn október-mars í landinu er : _____°C

Hverju pakka ég þá niður í tösku ef ég fer í heimsókn þangað
Finndu myndir á netinu, afritaðu það sem þú þarft að nota og
límdu í töskuna




Staðsetning á hnettinum, getur afritað myndir í Wikipedia

75. Landið heitir: Kýpur á íslensku og

á ensku

Fáni landsins lítur svona út litaðu í réttum litum



- Landið er í Evrópu
 Asíu
 Afríku
 Norður-Ameríku
 Suður-Ameríku
 Eyjaálfu
 Antartíku

Gjaldmiðillinn í landinu heitir: _____ táknið fyrir hann er _____

Höfuborg landsins heitir: _____

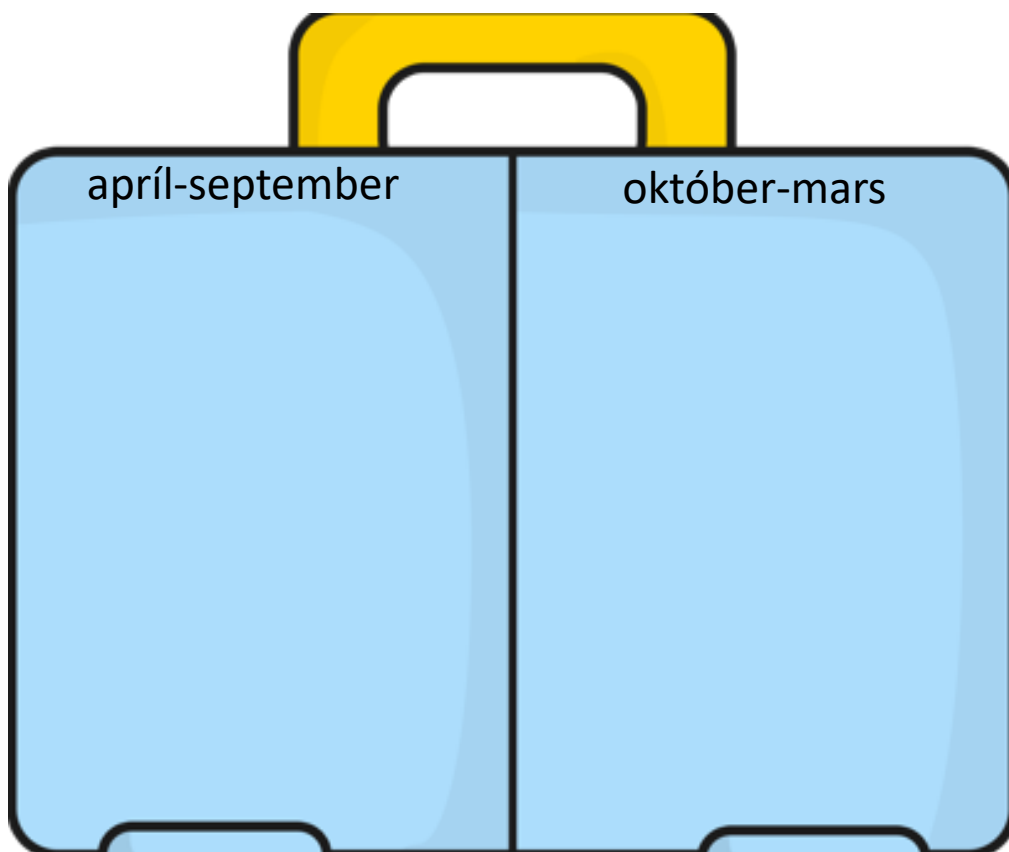
Tungumálið sem talað er í landinu er: _____

- Í landinu búa færri en 1 milljón manns
 1-10 milljón manns
 10-100 milljón manns
 100 milljón eða fleirri

Meðalhitinn apríl-september í landinu er: _____°C

Meðalhitinn október-mars í landinu er : _____°C

Hverju pakka ég þá niður í tösku ef ég fer í heimsókn þangað
Finndu myndir á netinu, afritaðu það sem þú þarft að nota og
límdu í töskuna

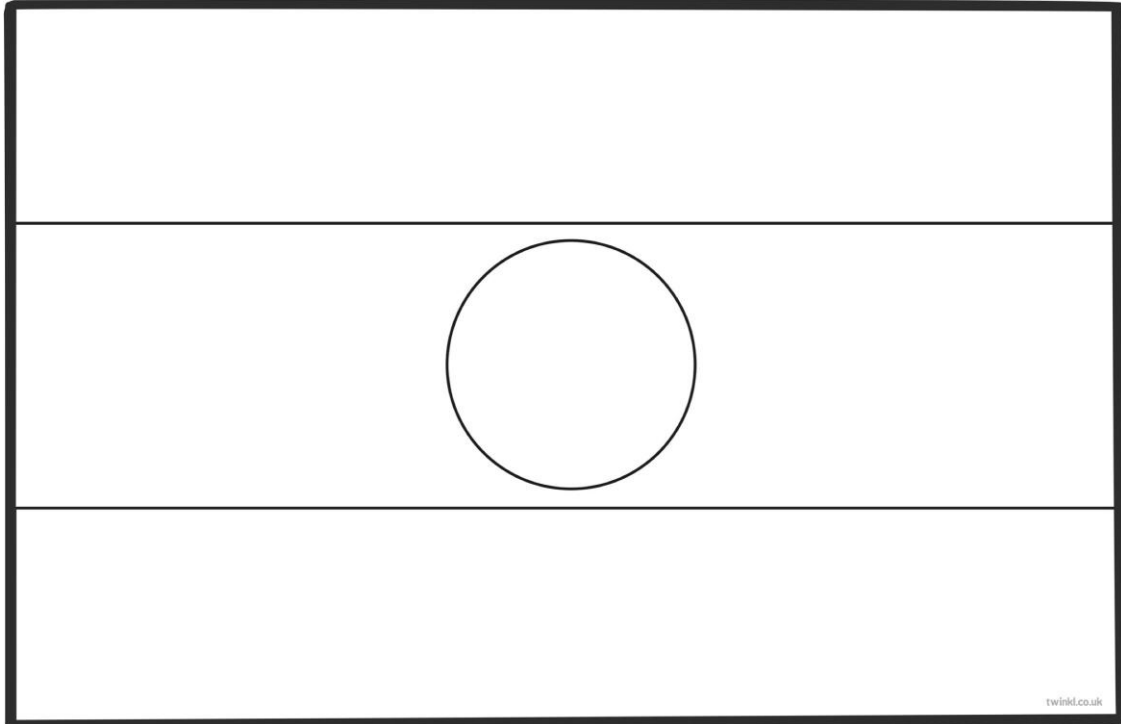


Staðsetning á hnettinum, getur afritað myndir í Wikipedia

76. Landið heitir: **LAOS** á íslensku og

_____ á ensku

Fáni landsins lítur svona út litaðu í réttum litum



- Landið er í Evrópu
 Asíu
 Afríku
 Norður-Ameríku
 Suður-Ameríku
 Eyjaálfu
 Antartíku

Gjaldmiðillinn í landinu heitir: _____ táknið fyrir hann er _____

Höfuborg landsins heitir: _____

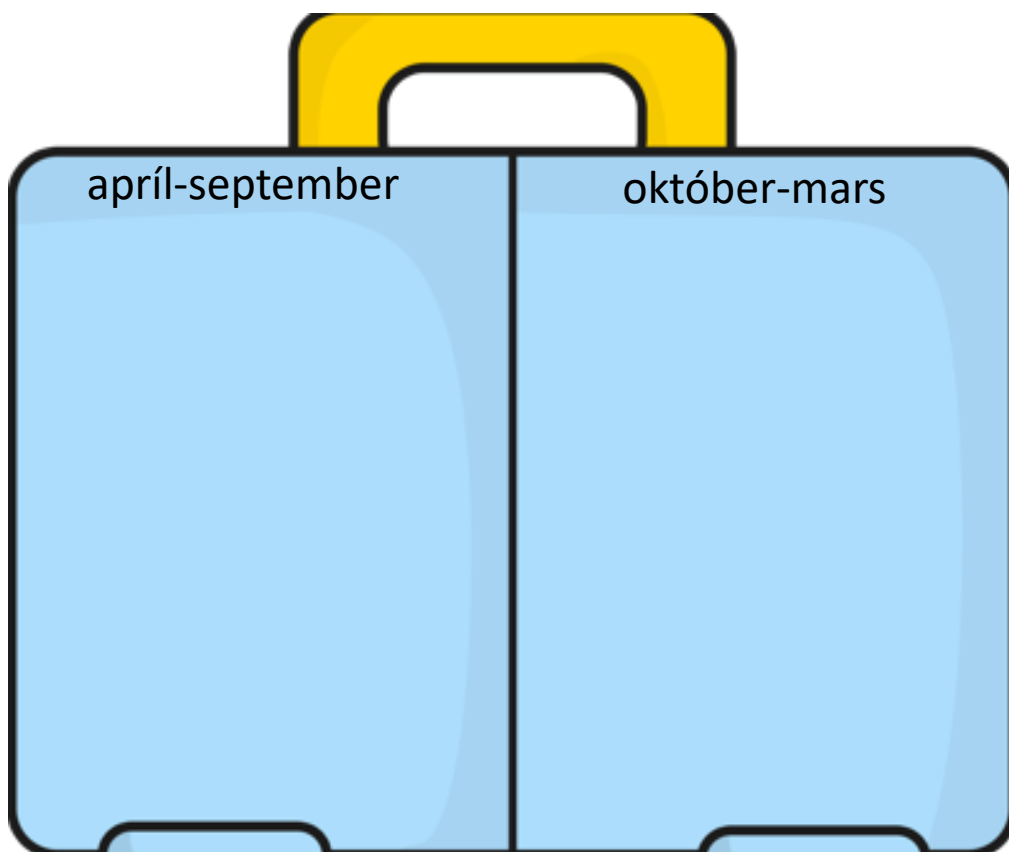
Tungumálið sem talað er í landinu er: _____

- Í landinu búa færri en 1 milljón manns
 1-10 milljón manns
 10-100 milljón manns
 100 milljón eða fleirri

Meðalhitinn apríl-september í landinu er: _____°C

Meðalhitinn október-mars í landinu er : _____°C

Hverju pakka ég þá niður í tösku ef ég fer í heimsókn þangað
Finndu myndir á netinu, afritaðu það sem þú þarft að nota og
límdu í töskuna




Staðsetning á hnettinum, getur afritað myndir í Wikipedia

79. Landið heitir: **Líbanon** á íslensku og

_____ á ensku

Fáni landsins lítur svona út litaðu í réttum litum



- Landið er í Evrópu
 Asíu
 Afríku
 Norður-Ameríku
 Suður-Ameríku
 Eyjaálfu
 Antartíku

Gjaldmiðillinn í landinu heitir: _____ táknið fyrir hann er _____

Höfuborg landsins heitir: _____

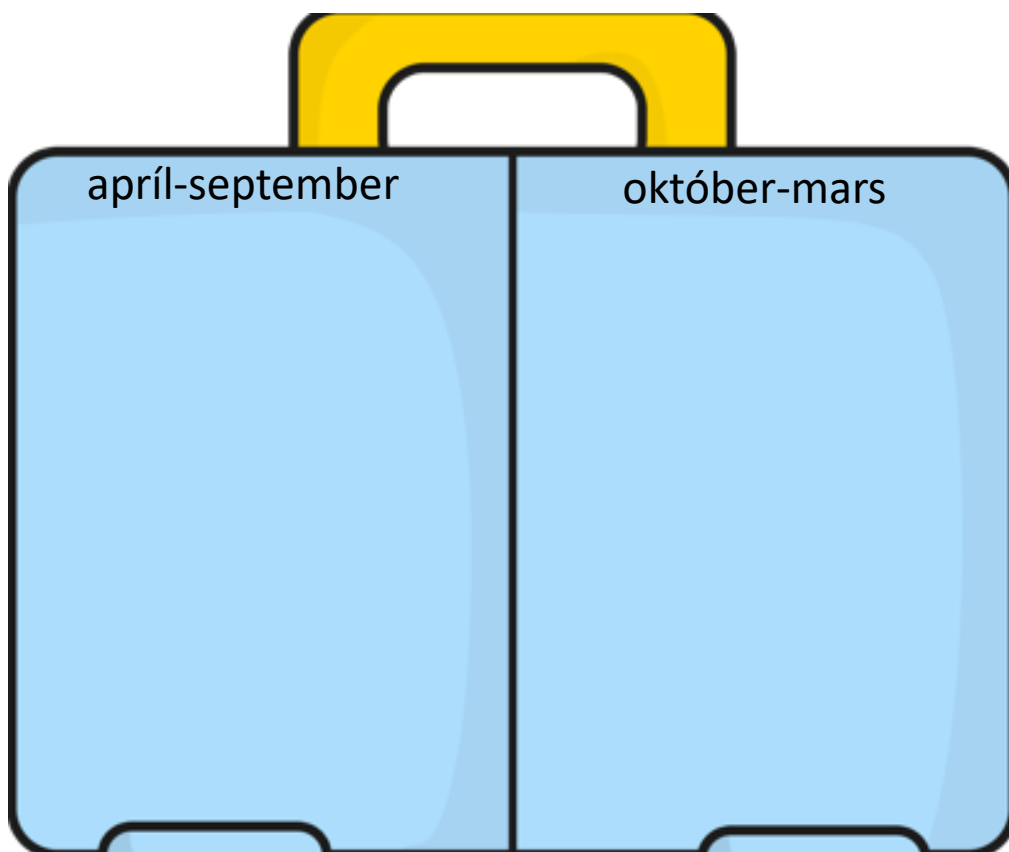
Tungumálið sem talað er í landinu er: _____

- Í landinu búa færri en 1 milljón manns
 1-10 milljón manns
 10-100 milljón manns
 100 milljón eða fleirri

Meðalhitinn apríl-september í landinu er: _____°C

Meðalhitinn október-mars í landinu er : _____°C

Hverju pakka ég þá niður í tösku ef ég fer í heimsókn þangað
Finndu myndir á netinu, afritaðu það sem þú þarft að nota og
límdu í töskuna




Staðsetning á hnettinum, getur afritað myndir í Wikipedia

86. Landið heitir: **Malasía** á íslensku og

á ensku

Fáni landsins lítur svona út litaðu í réttum litum



- Landið er í Evrópu
 Asíu
 Afríku
 Norður-Ameríku
 Suður-Ameríku
 Eyjaálfu
 Antartíku

Gjaldmiðillinn í landinu heitir: _____ táknið fyrir hann er _____

Höfuborg landsins heitir: _____

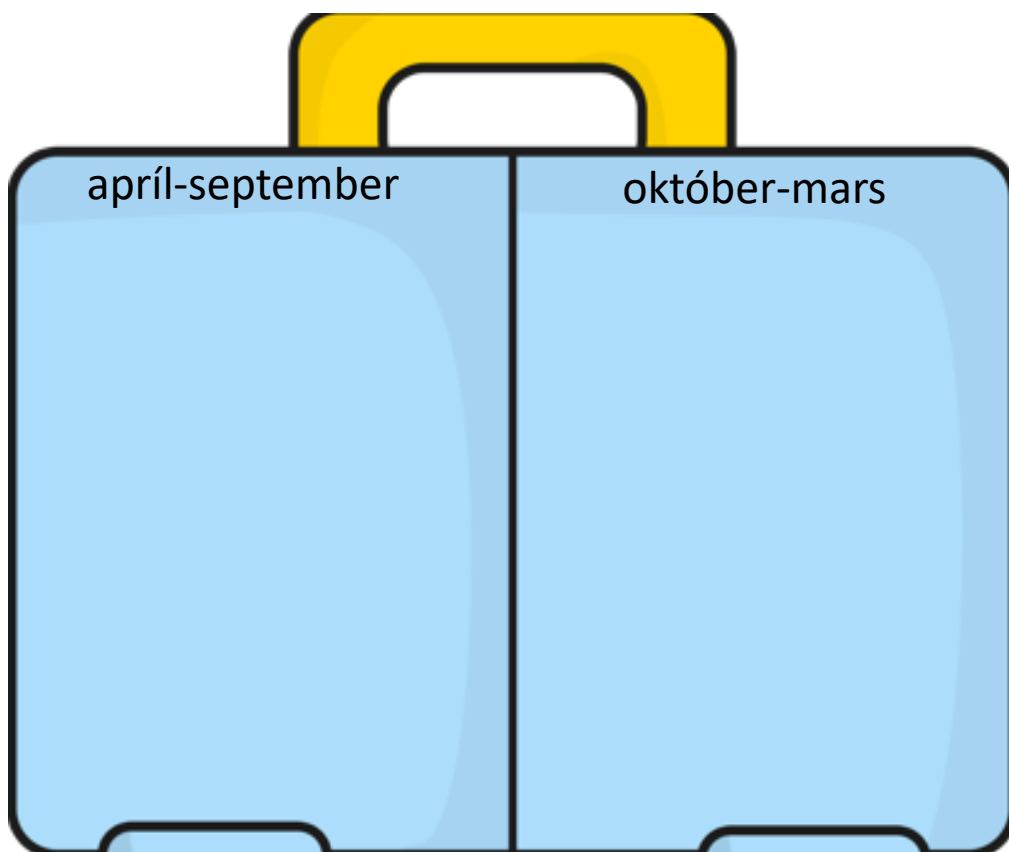
Tungumálið sem talað er í landinu er: _____

- Í landinu búa færri en 1 milljón manns
 1-10 milljón manns
 10-100 milljón manns
 100 milljón eða fleirri

Meðalhitinn apríl-september í landinu er: _____°C

Meðalhitinn október-mars í landinu er : _____°C

Hverju pakka ég þá niður í tösku ef ég fer í heimsókn þangað
Finndu myndir á netinu, afritaðu það sem þú þarft að nota og
límdu í töskuna

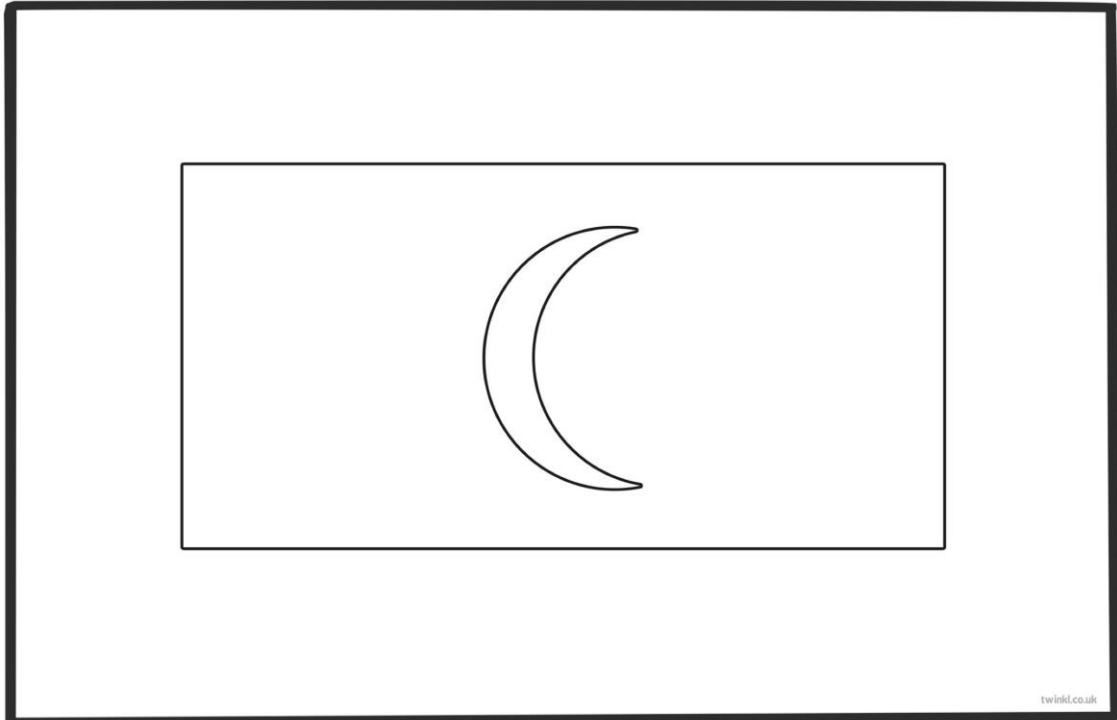


Staðsetning á hnettinum, getur afritað myndir í Wikipedia

88. Landið heitir: **Maldíveyjar** á íslensku og

_____ á ensku

Fáni landsins lítur svona út litaðu í réttum litum



- Landið er í Evrópu
 Asíu
 Afríku
 Norður-Ameríku
 Suður-Ameríku
 Eyjaálfu
 Antartíku

Gjaldmiðillinn í landinu heitir: _____ táknið fyrir hann er _____

Höfuborg landsins heitir: _____

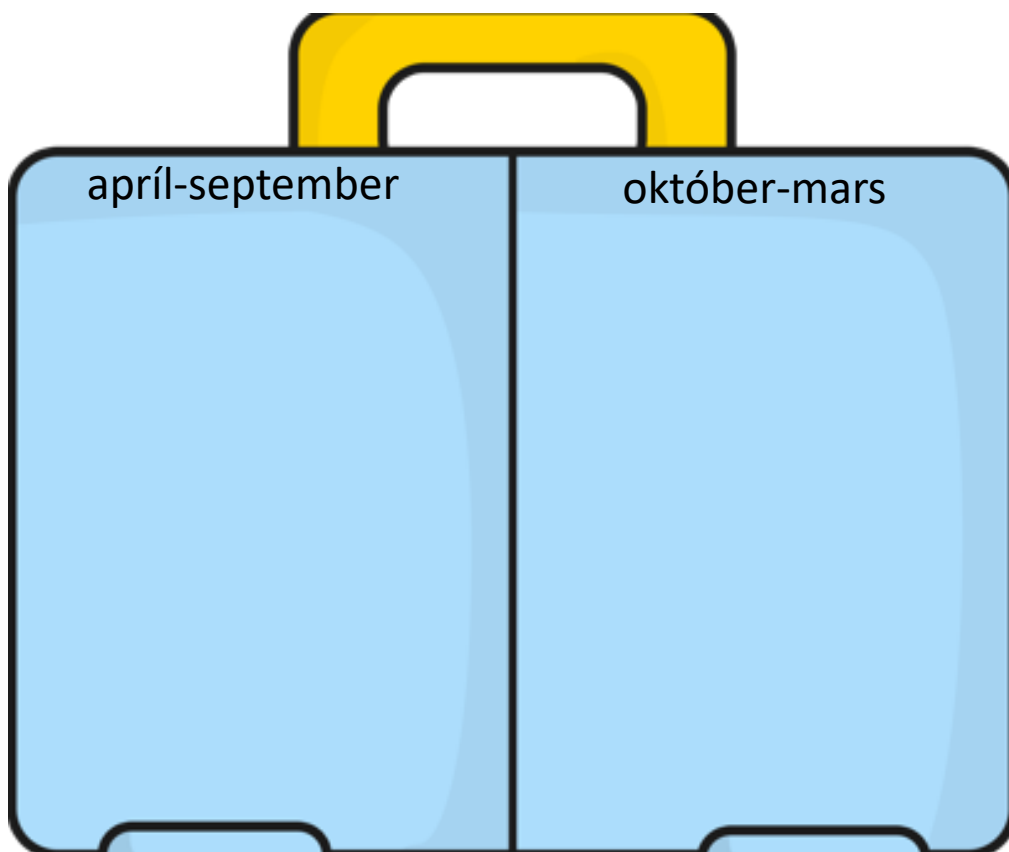
Tungumálið sem talað er í landinu er: _____

- Í landinu búa færri en 1 milljón manns
 1-10 milljón manns
 10-100 milljón manns
 100 milljón eða fleirri

Meðalhitinn apríl-september í landinu er: _____°C

Meðalhitinn október-mars í landinu er : _____°C

Hverju pakka ég þá niður í tösku ef ég fer í heimsókn þangað
Finndu myndir á netinu, afritaðu það sem þú þarft að nota og
límdu í töskuna




Staðsetning á hnettinum, getur afritað myndir í Wikipedia

97. Landið heitir: **Mongólía** á íslensku og

á ensku

Fáni landsins lítur svona út litaðu í réttum litum



- Landið er í Evrópu
 Asíu
 Afríku
 Norður-Ameríku
 Suður-Ameríku
 Eyjaálfu
 Antartíku

Gjaldmiðillinn í landinu heitir: _____ táknið fyrir hann er _____

Höfuborg landsins heitir: _____

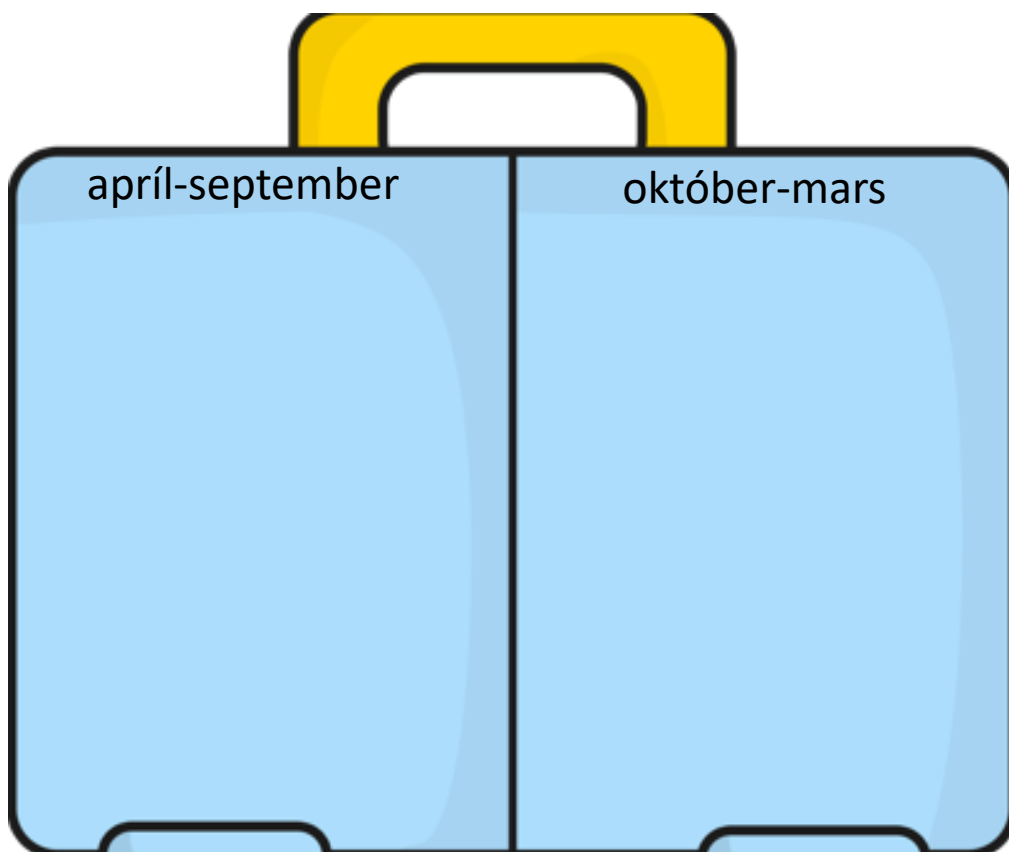
Tungumálið sem talað er í landinu er: _____

- Í landinu búa færri en 1 milljón manns
 1-10 milljón manns
 10-100 milljón manns
 100 milljón eða fleirri

Meðalhitinn apríl-september í landinu er: _____°C

Meðalhitinn október-mars í landinu er : _____°C

Hverju pakka ég þá niður í tösku ef ég fer í heimsókn þangað
Finndu myndir á netinu, afritaðu það sem þú þarft að nota og
límdu í töskuna




Staðsetning á hnettinum, getur afritað myndir í Wikipedia

99. Landið heitir: **Myanmar (Burma)** á íslensku og

_____ á ensku

Fáni landsins lítur svona út litaðu í réttum litum



- Landið er í Evrópu
 Asíu
 Afríku
 Norður-Ameríku
 Suður-Ameríku
 Eyjaálfu
 Antartíku

Gjaldmiðillinn í landinu heitir: _____ táknið fyrir hann er _____

Höfuborg landsins heitir: _____

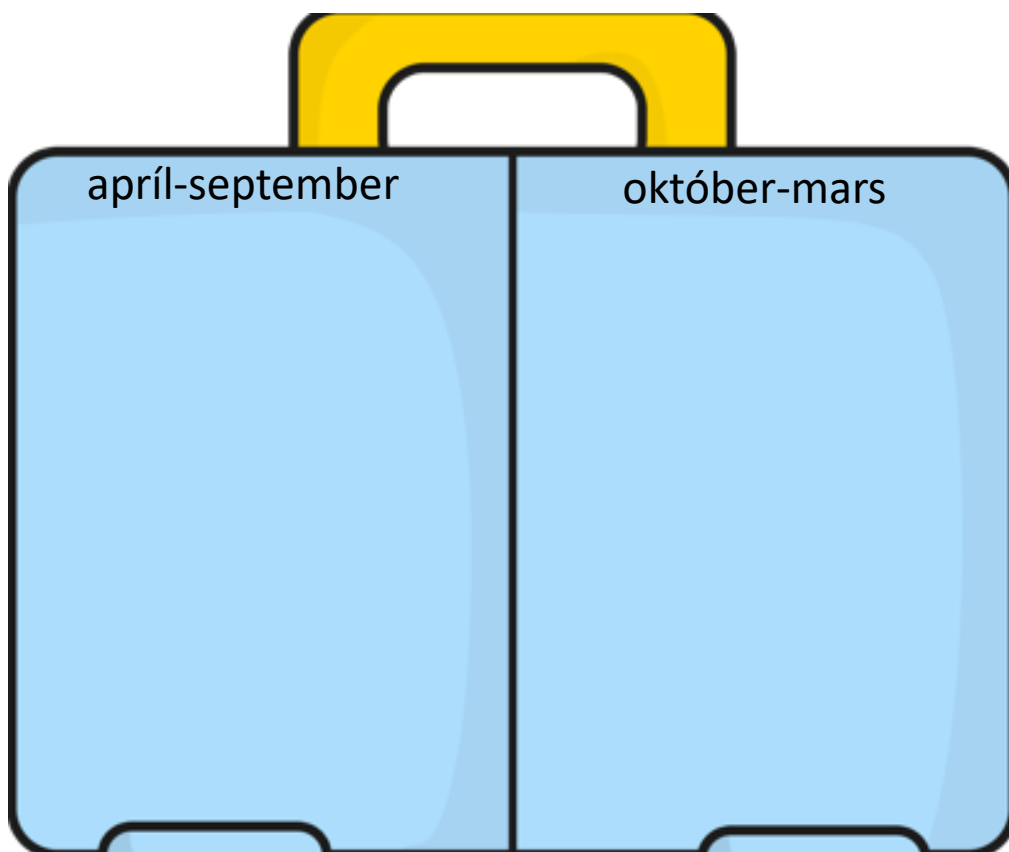
Tungumálið sem talað er í landinu er: _____

- Í landinu búa færri en 1 milljón manns
 1-10 milljón manns
 10-100 milljón manns
 100 milljón eða fleirri

Meðalhitinn apríl-september í landinu er: _____°C

Meðalhitinn október-mars í landinu er : _____°C

Hverju pakka ég þá niður í tösku ef ég fer í heimsókn þangað
Finndu myndir á netinu, afritaðu það sem þú þarft að nota og
límdu í töskuna




Staðsetning á hnettinum, getur afritað myndir í Wikipedia

102. Landið heitir: **Nepal** á íslensku og

_____ á ensku

Fáni landsins lítur svona út litaðu í réttum litum



- Landið er í Evrópu
 Asíu
 Afríku
 Norður-Ameríku
 Suður-Ameríku
 Eyjaálfu
 Antartíku

Gjaldmiðillinn í landinu heitir: _____ táknið fyrir hann er _____

Höfuborg landsins heitir: _____

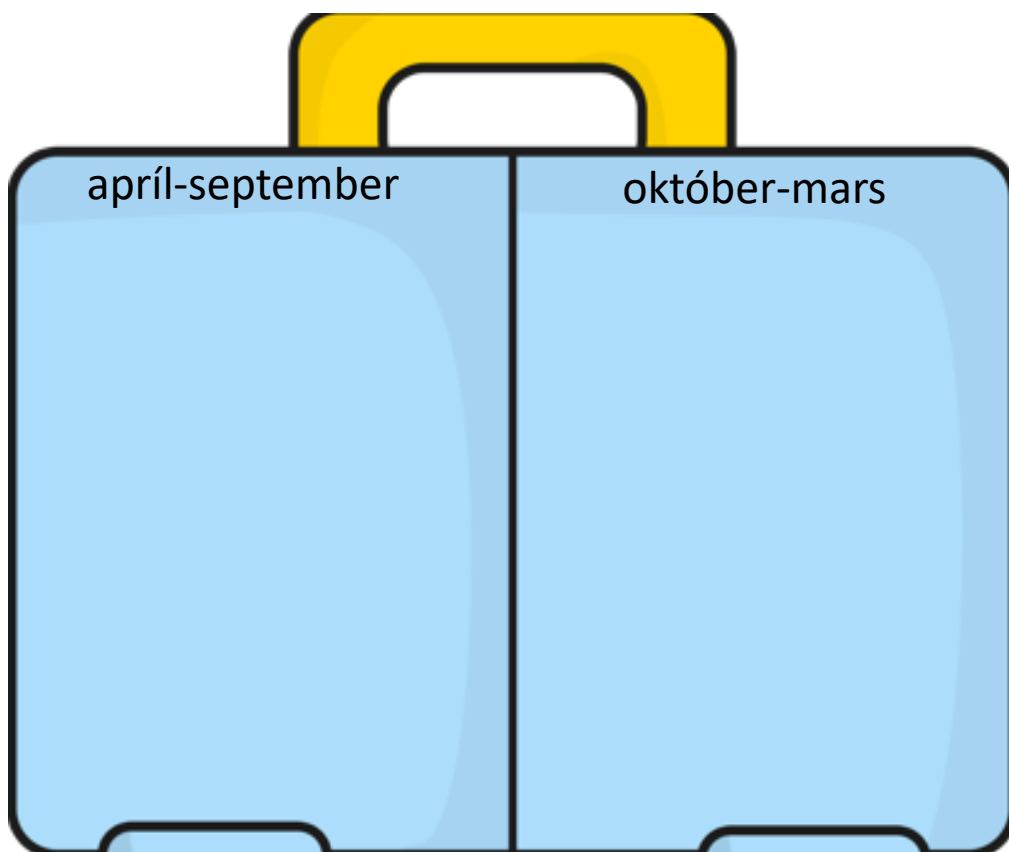
Tungumálið sem talað er í landinu er: _____

- Í landinu búa færri en 1 milljón manns
 1-10 milljón manns
 10-100 milljón manns
 100 milljón eða fleirri

Meðalhitinn apríl-september í landinu er: _____°C

Meðalhitinn október-mars í landinu er : _____°C

Hverju pakka ég þá niður í tösku ef ég fer í heimsókn þangað
Finndu myndir á netinu, afritaðu það sem þú þarft að nota og
límdu í töskuna

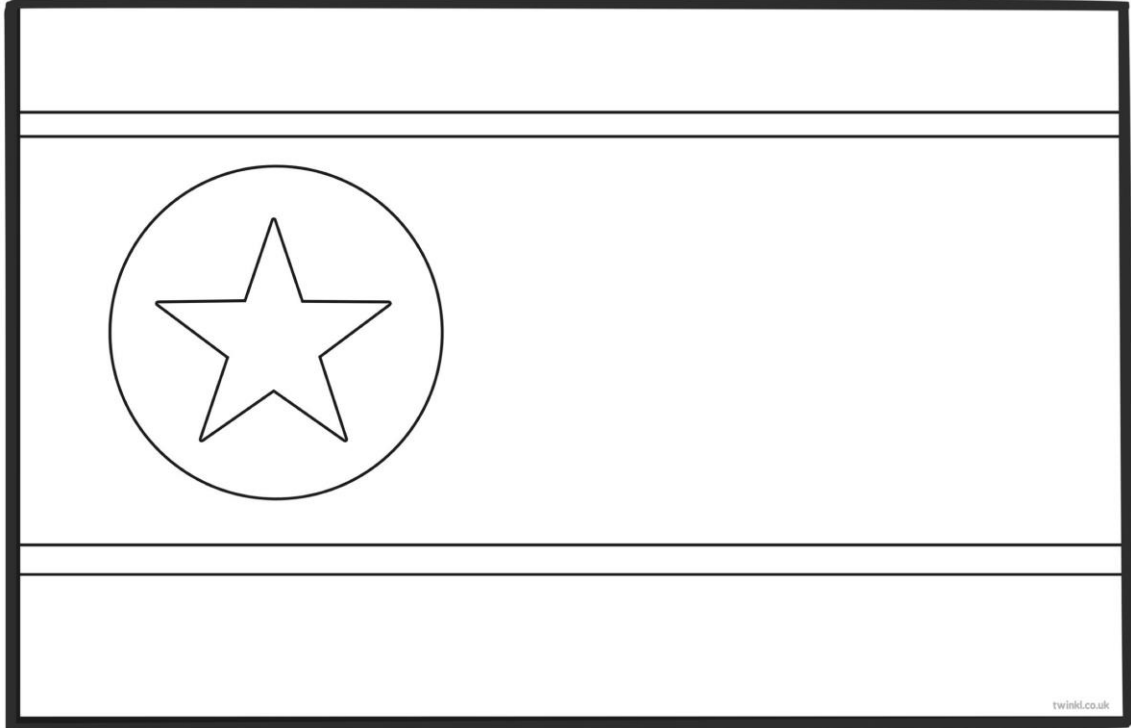


Staðsetning á hnettinum, getur afritað myndir í Wikipedia

106. Landið heitir: **Norður-Kórea** á íslensku og

_____ á ensku

Fáni landsins lítur svona út litaðu í réttum litum



- Landið er í Evrópu
 Asíu
 Afríku
 Norður-Ameríku
 Suður-Ameríku
 Eyjaálfu
 Antartíku

Gjaldmiðillinn í landinu heitir: _____ tákníð fyrir hann er _____

Höfuborg landsins heitir: _____

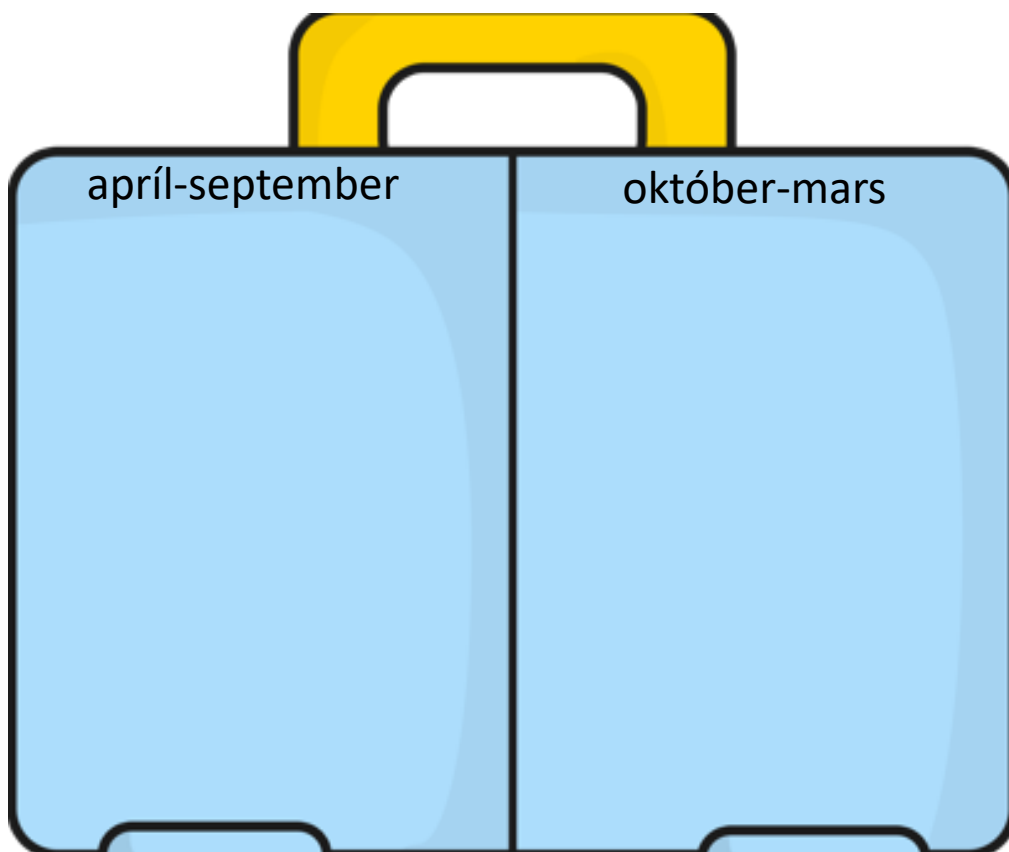
Tungumálið sem talað er í landinu er: _____

- Í landinu búa færri en 1 milljón manns
 1-10 milljón manns
 10-100 milljón manns
 100 milljón eða fleirri

Meðalhitinn apríl-september í landinu er: _____°C

Meðalhitinn október-mars í landinu er : _____°C

Hverju pakka ég þá niður í tösku ef ég fer í heimsókn þangað
Finndu myndir á netinu, afritaðu það sem þú þarft að nota og
límdu í töskuna

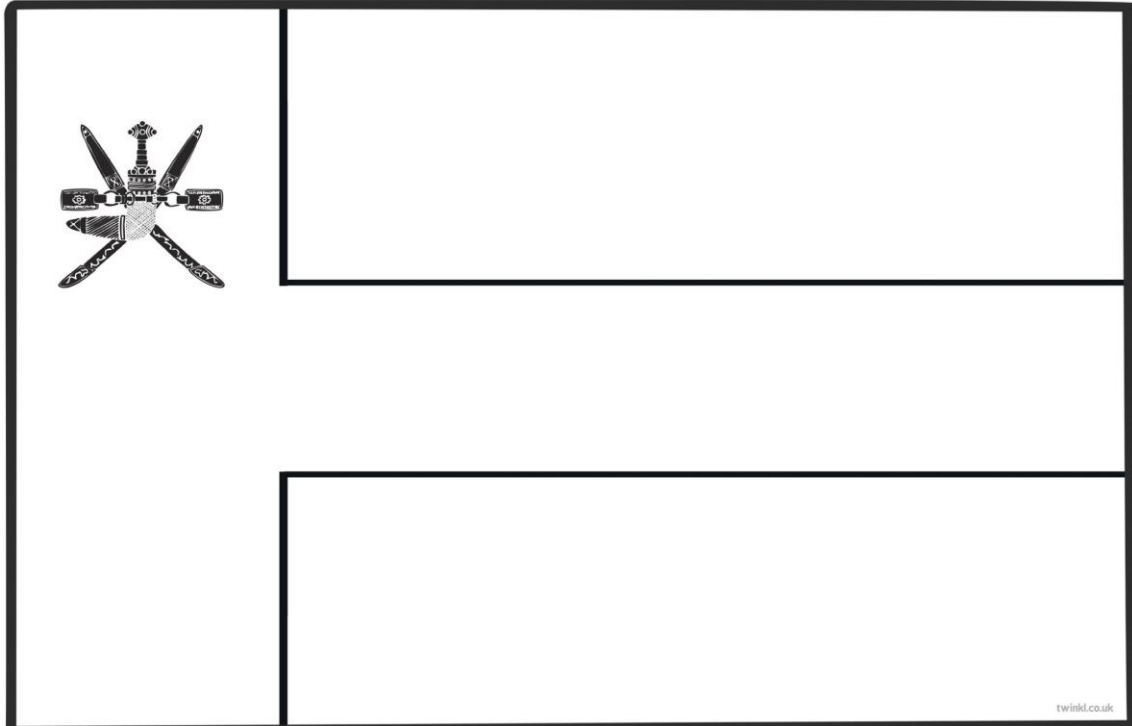


Staðsetning á hnettinum, getur afritað myndir í Wikipedia

109. Landið heitir: **Óman** á íslensku og

á ensku

Fáni landsins lítur svona út litaðu í réttum litum



- Landið er í Evrópu
 Asíu
 Afríku
 Norður-Ameríku
 Suður-Ameríku
 Eyjaálfu
 Antartíku

Gjaldmiðillinn í landinu heitir: _____ táknið fyrir hann er _____

Höfuborg landsins heitir: _____

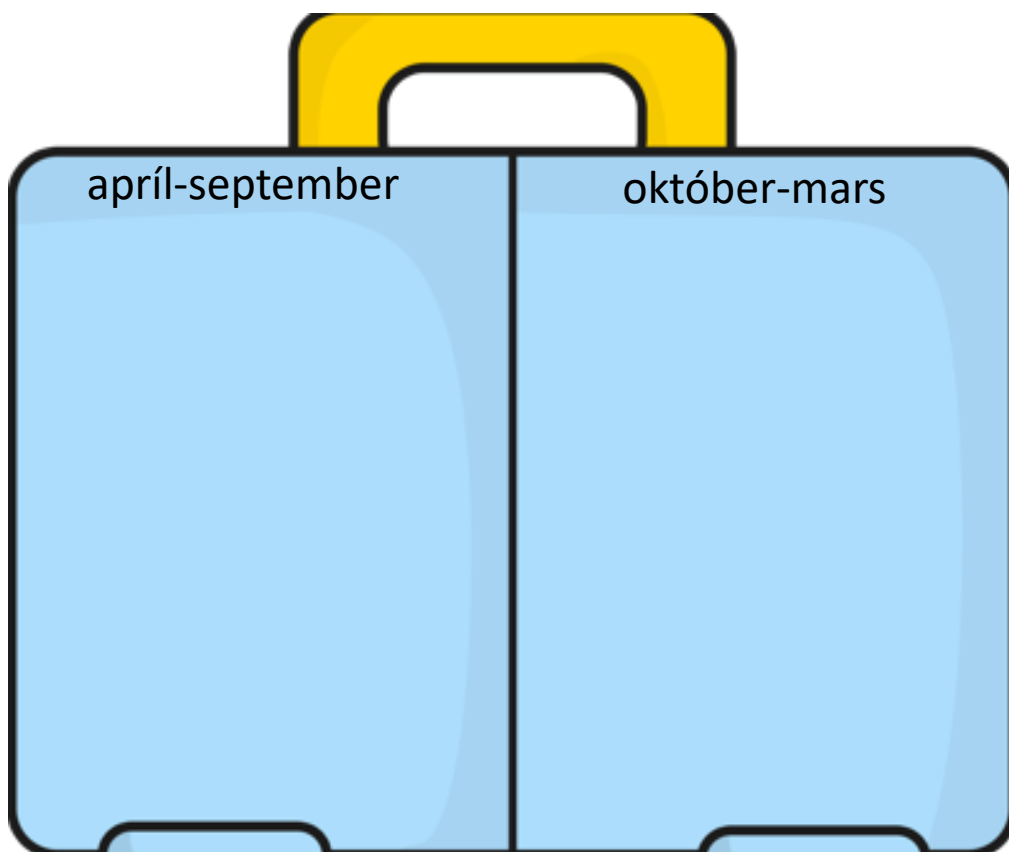
Tungumálið sem talað er í landinu er: _____

- Í landinu búa færri en 1 milljón manns
 1-10 milljón manns
 10-100 milljón manns
 100 milljón eða fleirri

Meðalhitinn apríl-september í landinu er: _____°C

Meðalhitinn október-mars í landinu er : _____°C

Hverju pakka ég þá niður í tösku ef ég fer í heimsókn þangað
Finndu myndir á netinu, afritaðu það sem þú þarft að nota og
límdu í töskuna

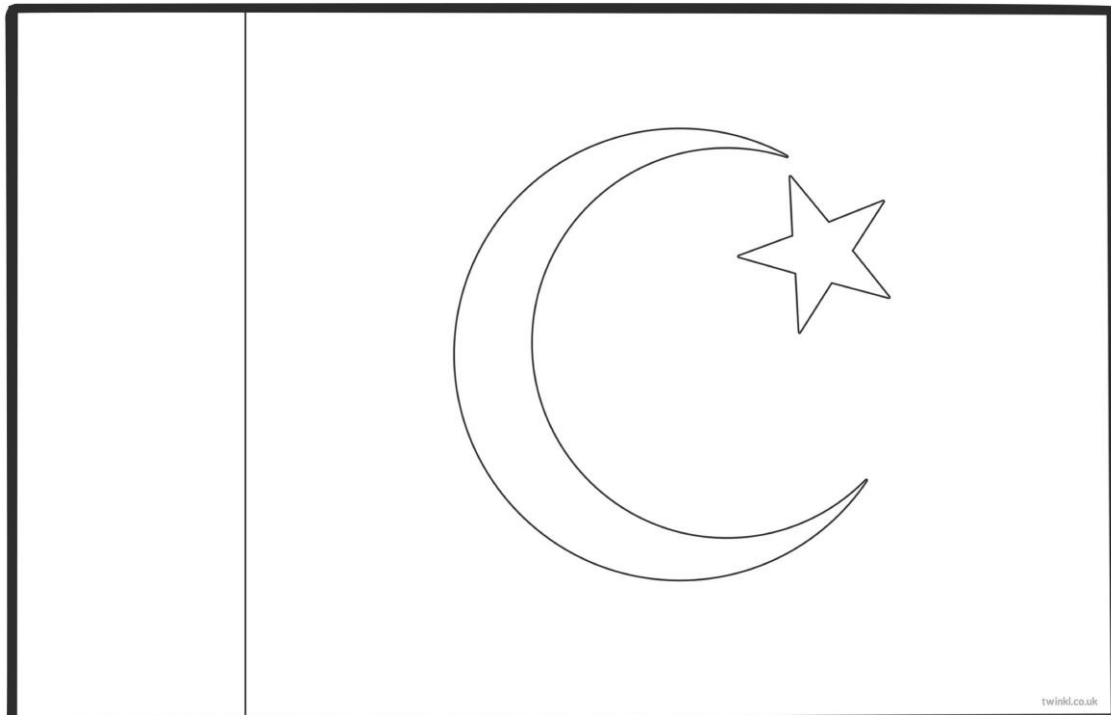


Staðsetning á hnettinum, getur afritað myndir í Wikipedia

110. Landið heitir: **Pakistan** á íslensku og

á ensku

Fáni landsins lítur svona út litaðu í réttum litum



- Landið er í Evrópu
 Asíu
 Afríku
 Norður-Ameríku
 Suður-Ameríku
 Eyjaálfu
 Antartíku

Gjaldmiðillinn í landinu heitir: _____ táknið fyrir hann er _____

Höfuborg landsins heitir: _____

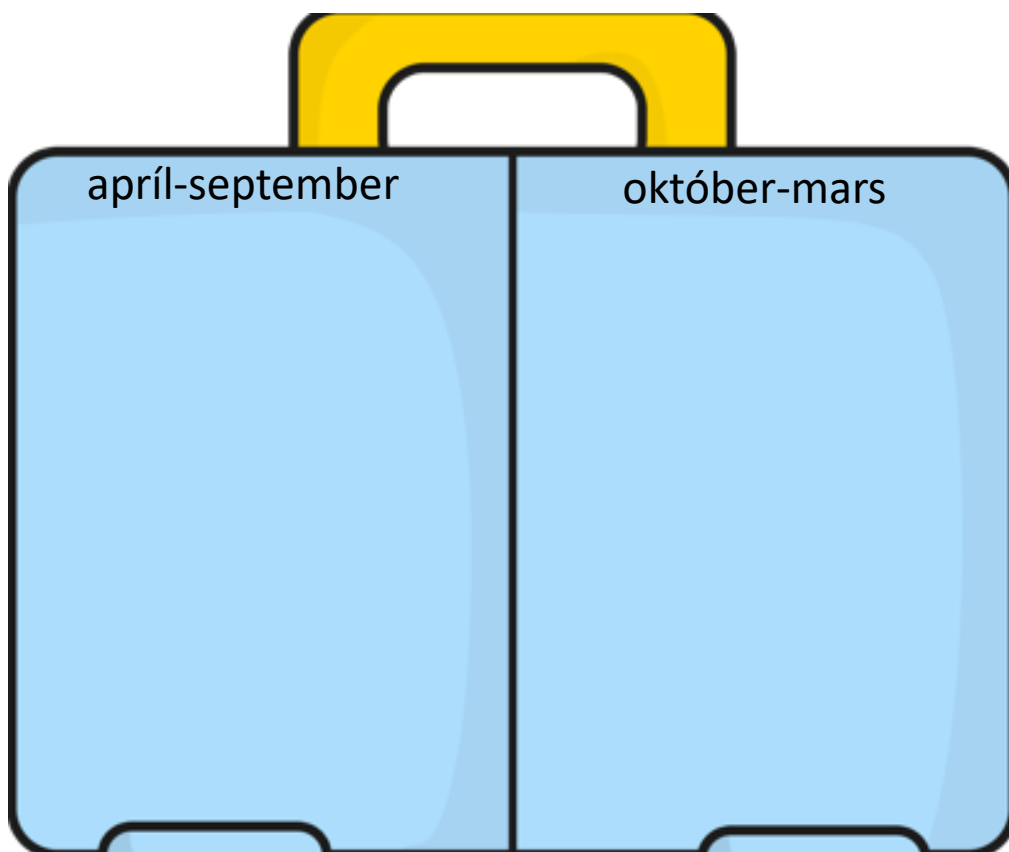
Tungumálið sem talað er í landinu er: _____

- Í landinu búa færri en 1 milljón manns
 1-10 milljón manns
 10-100 milljón manns
 100 milljón eða fleirri

Meðalhitinn apríl-september í landinu er: _____°C

Meðalhitinn október-mars í landinu er : _____°C

Hverju pakka ég þá niður í tösku ef ég fer í heimsókn þangað
Finndu myndir á netinu, afritaðu það sem þú þarft að nota og
límdu í töskuna




Staðsetning á hnettinum, getur afritað myndir í Wikipedia

122. Landið heitir: **Sádi-Arabía** á íslensku og

á ensku

Fáni landsins lítur svona út litaðu í réttum litum



- Landið er í Evrópu
 Asíu
 Afríku
 Norður-Ameríku
 Suður-Ameríku
 Eyjaálfu
 Antartíku

Gjaldmiðillinn í landinu heitir: _____ tákníð fyrir hann er _____

Höfuborg landsins heitir: _____

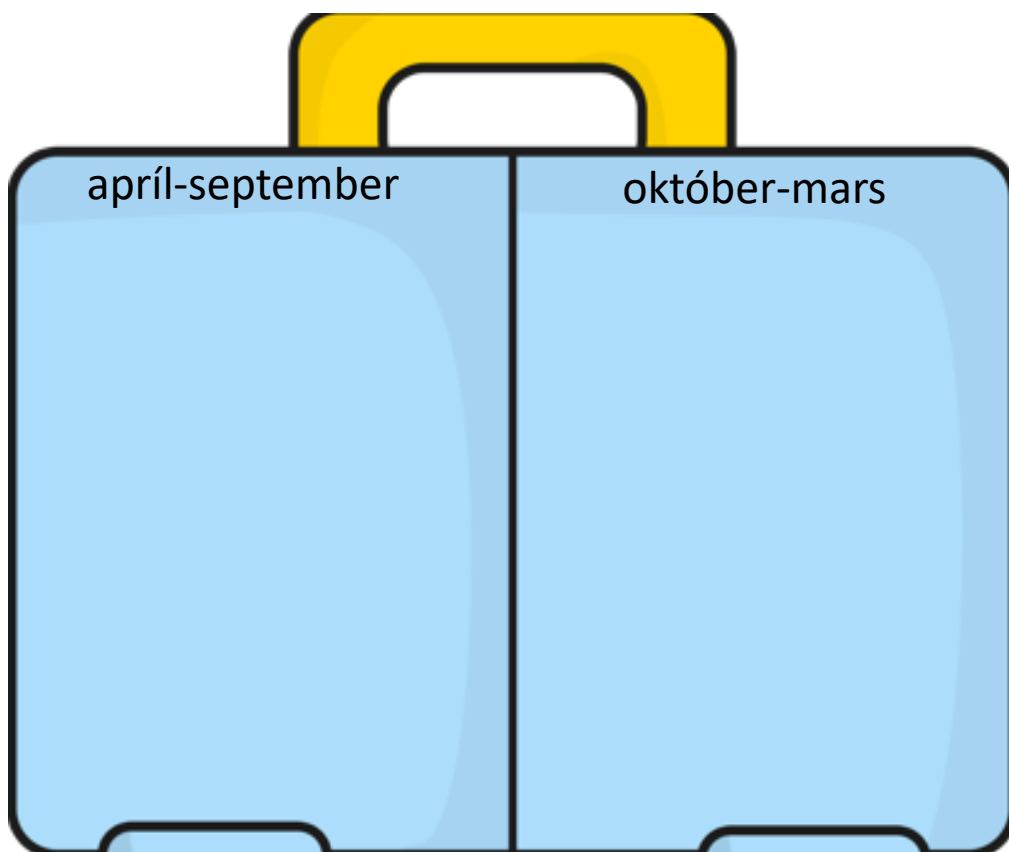
Tungumálið sem talað er í landinu er: _____

- Í landinu búa færri en 1 milljón manns
 1-10 milljón manns
 10-100 milljón manns
 100 milljón eða fleirri

Meðalhitinn apríl-september í landinu er: _____°C

Meðalhitinn október-mars í landinu er : _____°C

Hverju pakka ég þá niður í tösku ef ég fer í heimsókn þangað
Finndu myndir á netinu, afritaðu það sem þú þarft að nota og
límdu í töskuna



Staðsetning á hnettinum, getur afritað myndir í Wikipedia

125. Landið heitir: **Sameinuðu arabafurstadæmin** á íslensku og

_____ á ensku

Fáni landsins lítur svona út litaðu í réttum litum

twinkl.co.uk

- Landið er í Evrópu
 Asíu
 Afríku
 Norður-Ameríku
 Suður-Ameríku
 Eyjaálfu
 Antartíku

Gjaldmiðillinn í landinu heitir: _____ tákníð fyrir hann er _____

Höfuborg landsins heitir: _____

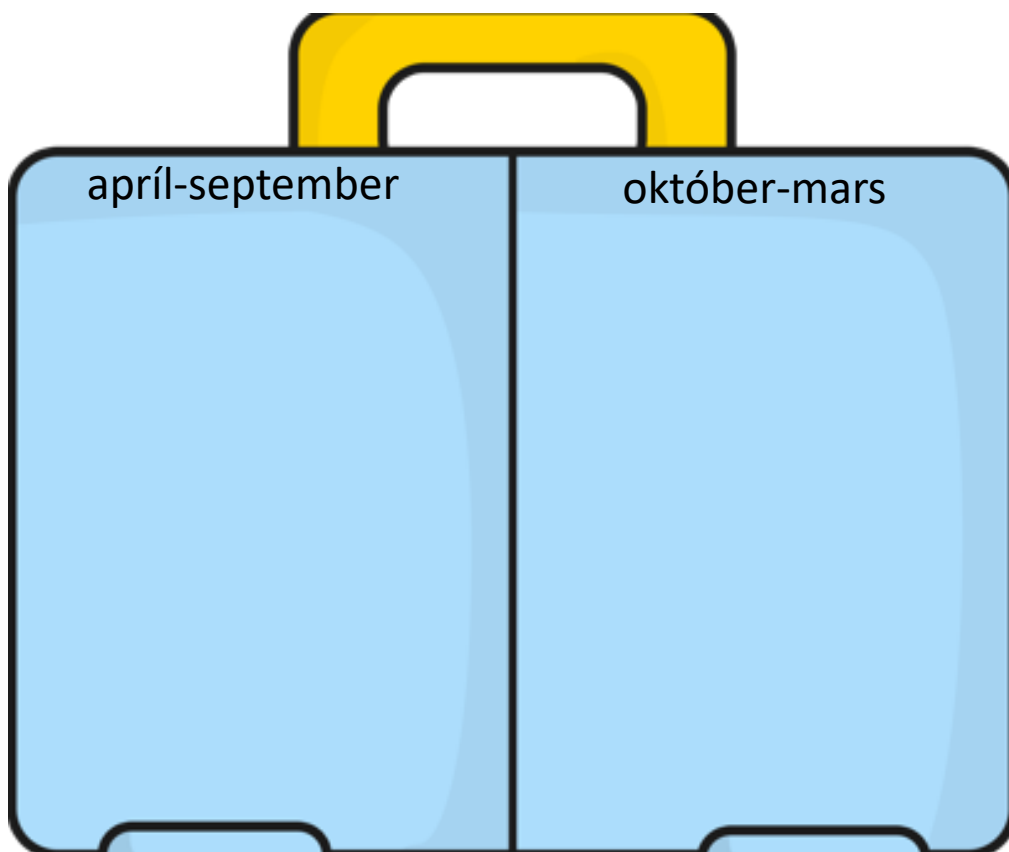
Tungumálið sem talað er í landinu er: _____

- Í landinu búa færri en 1 milljón manns
 1-10 milljón manns
 10-100 milljón manns
 100 milljón eða fleirri

Meðalhitinn apríl-september í landinu er: _____°C

Meðalhitinn október-mars í landinu er : _____°C

Hverju pakka ég þá niður í tösku ef ég fer í heimsókn þangað
Finndu myndir á netinu, afritaðu það sem þú þarft að nota og
límdu í töskuna




Staðsetning á hnettinum, getur afritað myndir í Wikipedia

136. Landið heitir: **Singapúr** á íslensku og

á ensku

Fáni landsins lítur svona út litaðu í réttum litum



- Landið er í Evrópu
 Asíu
 Afríku
 Norður-Ameríku
 Suður-Ameríku
 Eyjaálfu
 Antartíku

Gjaldmiðillinn í landinu heitir: _____ táknið fyrir hann er _____

Höfuborg landsins heitir: _____

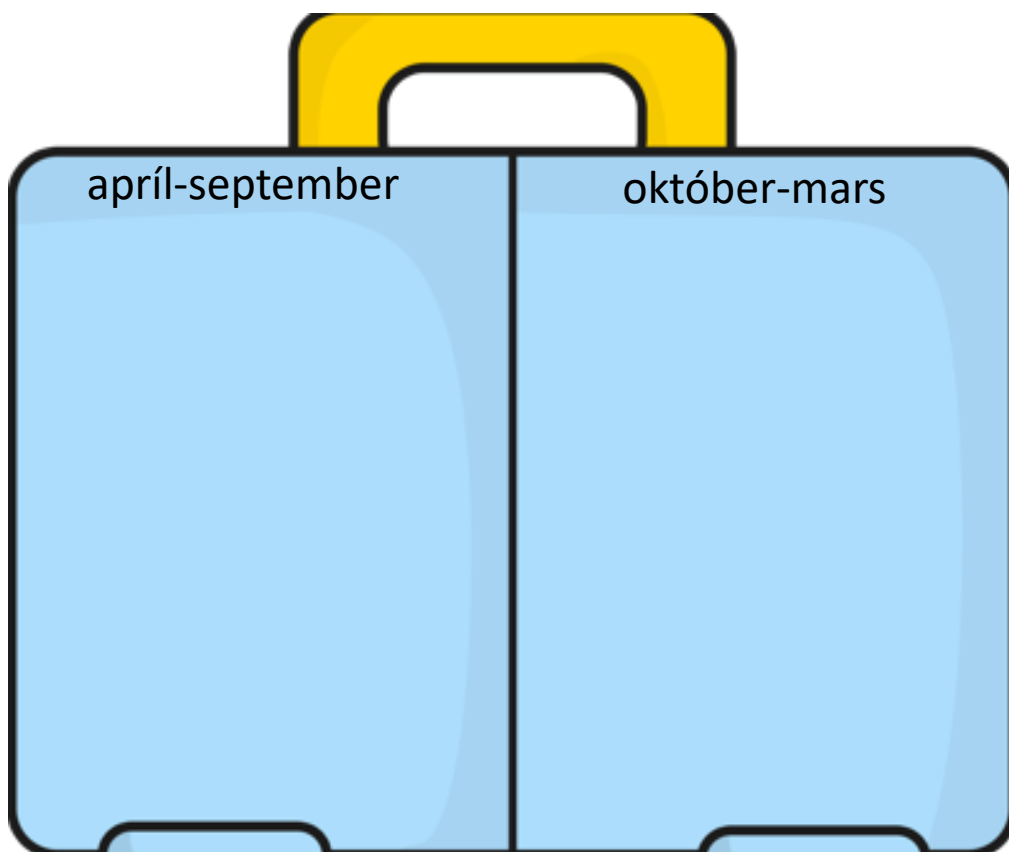
Tungumálið sem talað er í landinu er: _____

- Í landinu búa færri en 1 milljón manns
 1-10 milljón manns
 10-100 milljón manns
 100 milljón eða fleirri

Meðalhitinn apríl-september í landinu er: _____°C

Meðalhitinn október-mars í landinu er : _____°C

Hverju pakka ég þá niður í tösku ef ég fer í heimsókn þangað
Finndu myndir á netinu, afritaðu það sem þú þarft að nota og
límdu í töskuna




Staðsetning á hnettinum, getur afritað myndir í Wikipedia

140. Landið heitir: **Srí Lanka** á íslensku og

á ensku

Fáni landsins lítur svona út litaðu í réttum litum



- Landið er í Evrópu
 Asíu
 Afríku
 Norður-Ameríku
 Suður-Ameríku
 Eyjaálfu
 Antartíku

Gjaldmiðillinn í landinu heitir: _____ táknið fyrir hann er _____

Höfuborg landsins heitir: _____

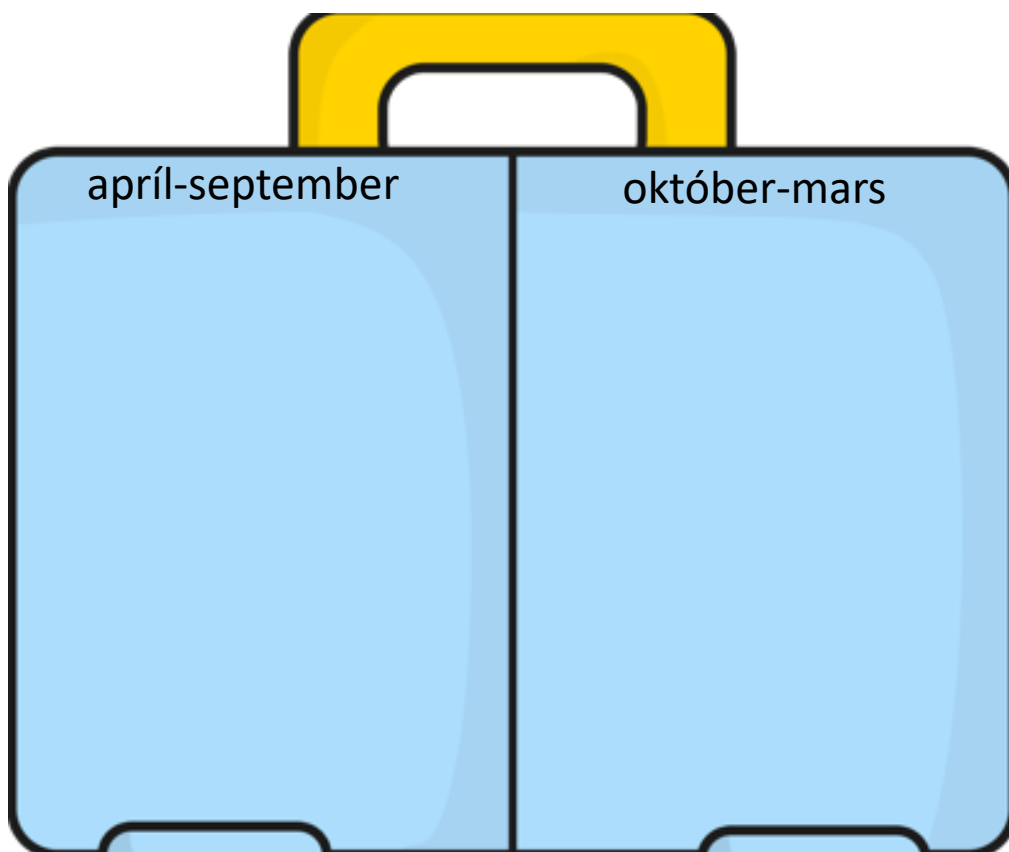
Tungumálið sem talað er í landinu er: _____

- Í landinu búa færri en 1 milljón manns
 1-10 milljón manns
 10-100 milljón manns
 100 milljón eða fleirri

Meðalhitinn apríl-september í landinu er: _____°C

Meðalhitinn október-mars í landinu er : _____°C

Hverju pakka ég þá niður í tösku ef ég fer í heimsókn þangað
Finndu myndir á netinu, afritaðu það sem þú þarft að nota og
límdu í töskuna

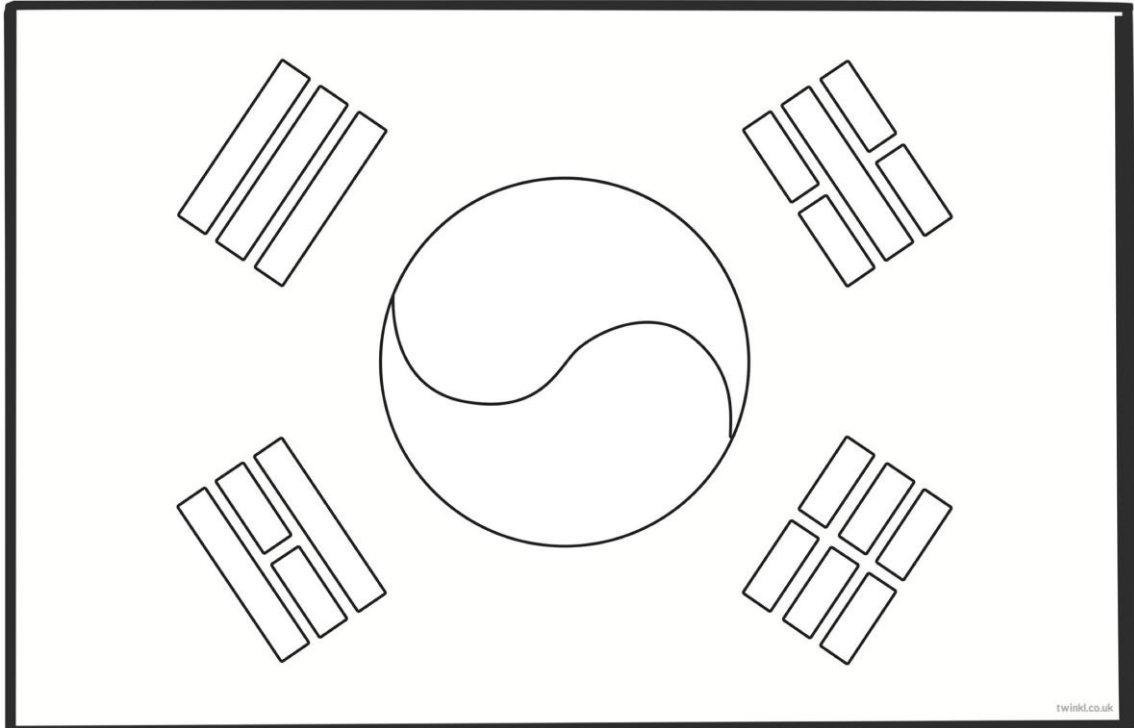


Staðsetning á hnettinum, getur afritað myndir í Wikipedia

143. Landið heitir: **Suður-Kórea** á íslensku og

_____ á ensku

Fáni landsins lítur svona út litaðu í réttum litum



- Landið er í Evrópu
 Asíu
 Afríku
 Norður-Ameríku
 Suður-Ameríku
 Eyjaálfu
 Antartíku

Gjaldmiðillinn í landinu heitir: _____ táknið fyrir hann er _____

Höfuborg landsins heitir: _____

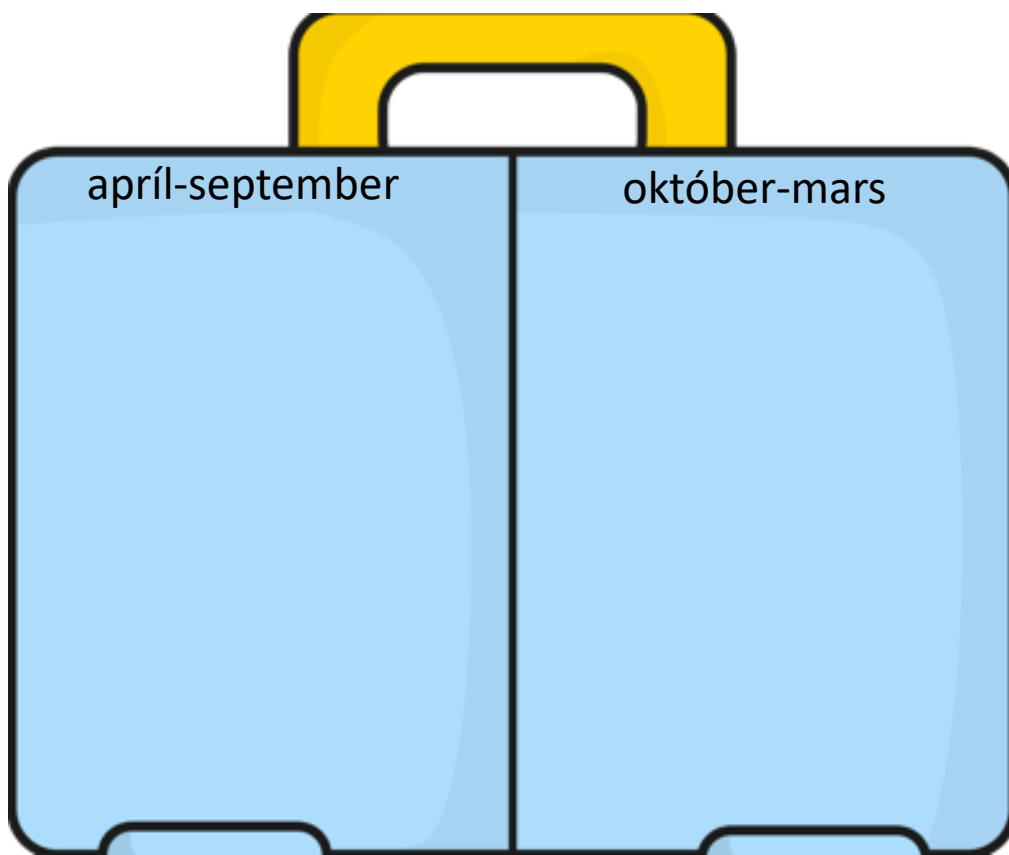
Tungumálið sem talað er í landinu er: _____

- Í landinu búa færri en 1 milljón manns
 1-10 milljón manns
 10-100 milljón manns
 100 milljón eða fleirri

Meðalhitinn apríl-september í landinu er: _____°C

Meðalhitinn október-mars í landinu er : _____°C

Hverju pakka ég þá niður í tösku ef ég fer í heimsókn þangað
Finndu myndir á netinu, afritaðu það sem þú þarft að nota og
límdu í töskuna

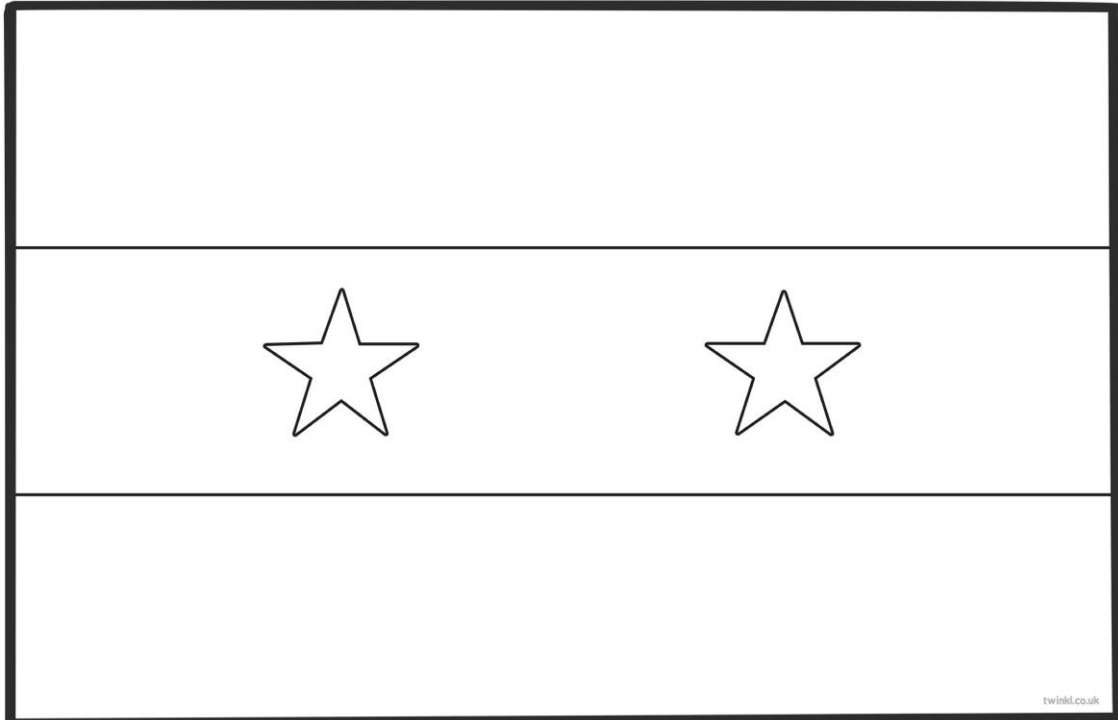


Staðsetning á hnettinum, getur afritað myndir í Wikipedia

149. Landið heitir: **Sýrland** á íslensku og

á ensku

Fáni landsins lítur svona út litaðu í réttum litum



- Landið er í Evrópu
 Asíu
 Afríku
 Norður-Ameríku
 Suður-Ameríku
 Eyjaálfu
 Antartíku

Gjaldmiðillinn í landinu heitir: _____ táknið fyrir hann er _____

Höfuborg landsins heitir: _____

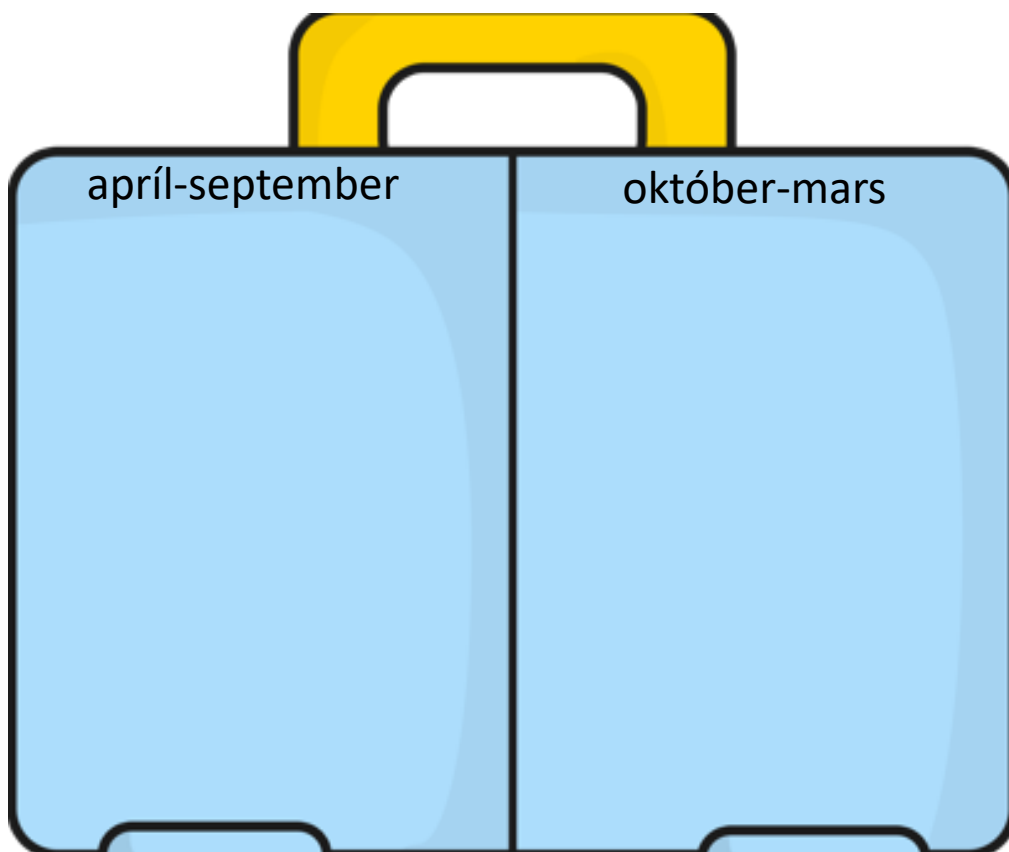
Tungumálið sem talað er í landinu er: _____

- Í landinu búa færri en 1 milljón manns
 1-10 milljón manns
 10-100 milljón manns
 100 milljón eða fleirri

Meðalhitinn apríl-september í landinu er: _____°C

Meðalhitinn október-mars í landinu er : _____°C

Hverju pakka ég þá niður í tösku ef ég fer í heimsókn þangað
Finndu myndir á netinu, afritaðu það sem þú þarft að nota og
límdu í töskuna




Staðsetning á hnettinum, getur afritað myndir í Wikipedia

150. Landið heitir: Tadsjikistan á íslensku og

á ensku

Fáni landsins lítur svona út litaðu í réttum litum



- Landið er í Evrópu
 Asíu
 Afríku
 Norður-Ameríku
 Suður-Ameríku
 Eyjaálfu
 Antartíku

Gjaldmiðillinn í landinu heitir: _____ táknið fyrir hann er _____

Höfuborg landsins heitir: _____

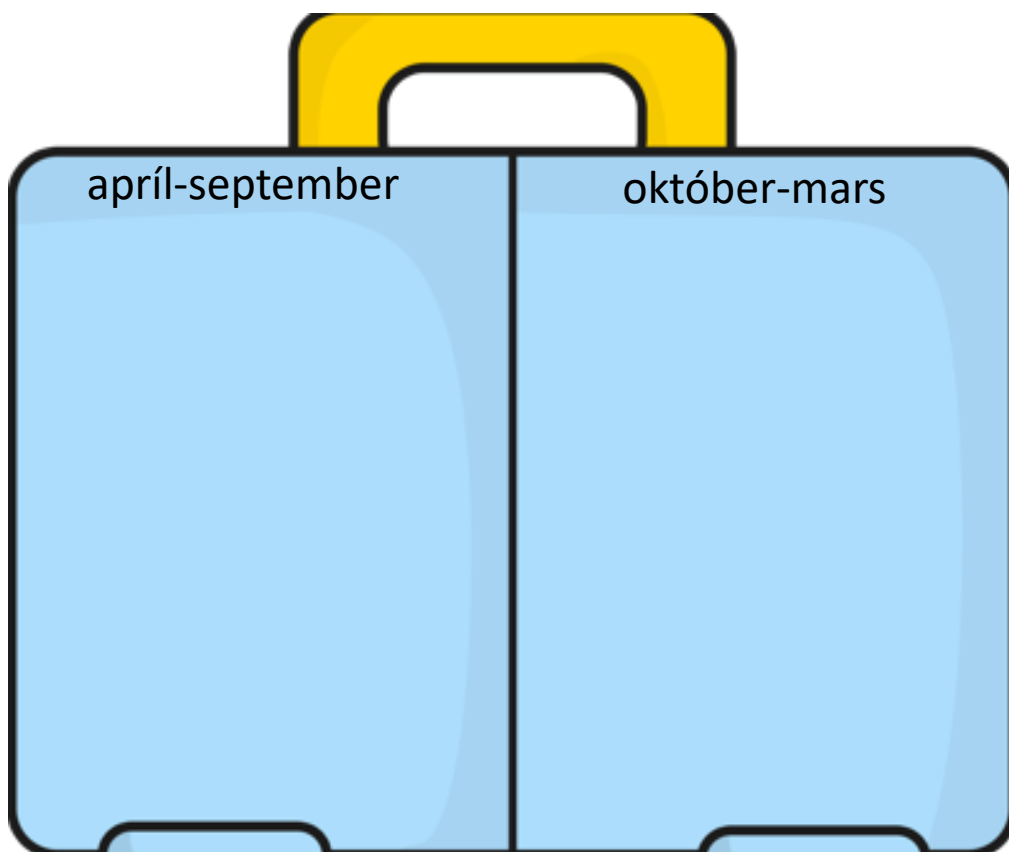
Tungumálið sem talað er í landinu er: _____

- Í landinu búa færri en 1 milljón manns
 1-10 milljón manns
 10-100 milljón manns
 100 milljón eða fleirri

Meðalhitinn apríl-september í landinu er: _____°C

Meðalhitinn október-mars í landinu er : _____°C

Hverju pakka ég þá niður í tösku ef ég fer í heimsókn þangað
Finndu myndir á netinu, afritaðu það sem þú þarft að nota og
límdu í töskuna



Staðsetning á hnettinum, getur afritað myndir í Wikipedia

151. Landið heitir: **Taíland** á íslensku og

_____ á ensku

Fáni landsins lítur svona út litaðu í réttum litum

twinkl.co.uk

- Landið er í Evrópu
 Asíu
 Afríku
 Norður-Ameríku
 Suður-Ameríku
 Eyjaálfu
 Antartíku

Gjaldmiðillinn í landinu heitir: _____ tákníð fyrir hann er _____

Höfuborg landsins heitir: _____

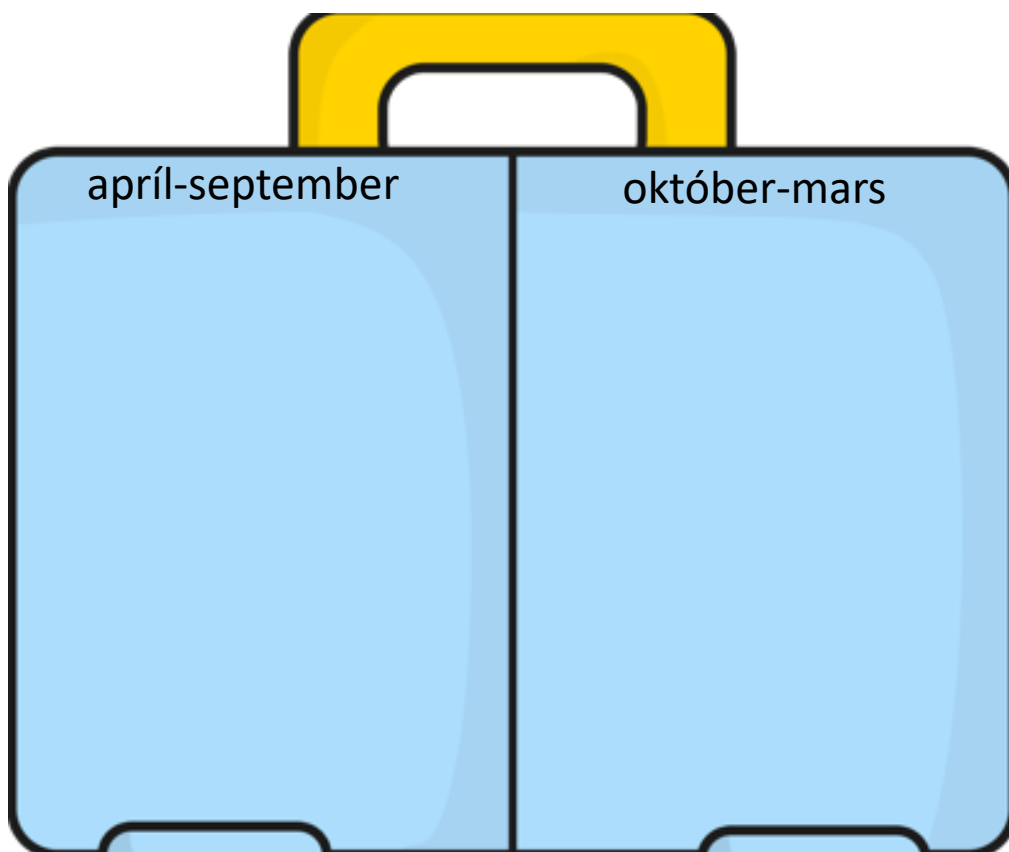
Tungumálið sem talað er í landinu er: _____

- Í landinu búa færri en 1 milljón manns
 1-10 milljón manns
 10-100 milljón manns
 100 milljón eða fleirri

Meðalhitinn apríl-september í landinu er: _____°C

Meðalhitinn október-mars í landinu er : _____°C

Hverju pakka ég þá niður í tösku ef ég fer í heimsókn þangað
Finndu myndir á netinu, afritaðu það sem þú þarft að nota og
límdu í töskuna

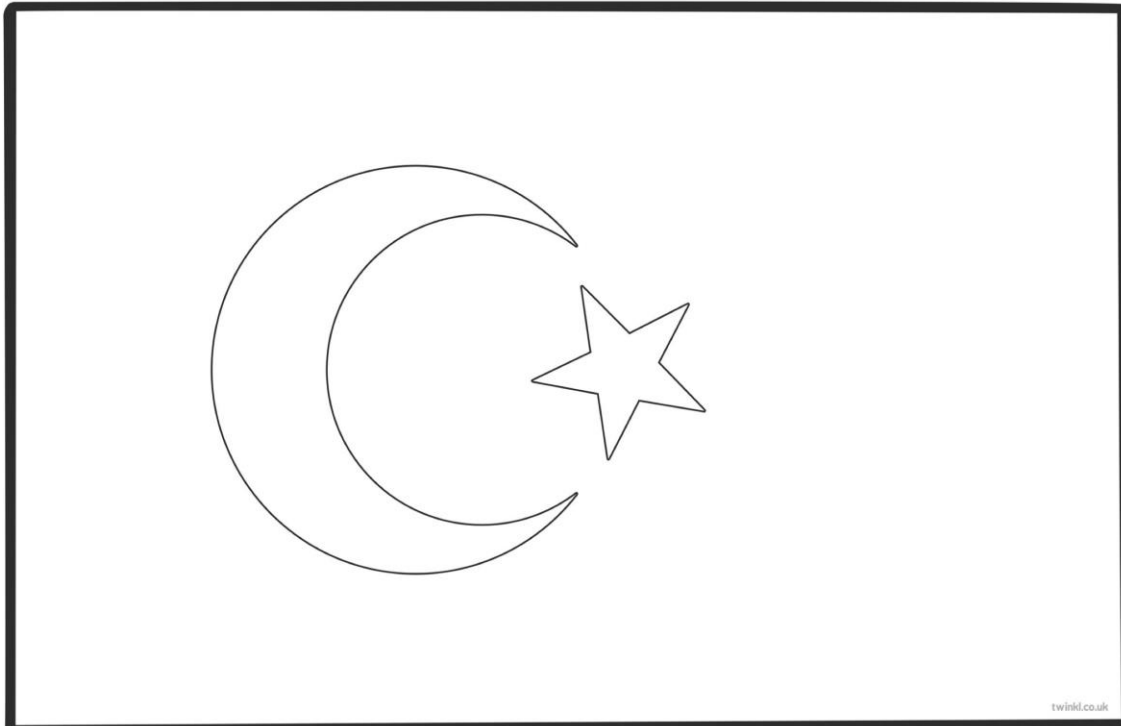


Staðsetning á hnettinum, getur afritað myndir í Wikipedia

159. Landið heitir: **Tyrkland** á íslensku og

á ensku

Fáni landsins lítur svona út litaðu í réttum litum



- Landið er í Evrópu
 Asíu
 Afríku
 Norður-Ameríku
 Suður-Ameríku
 Eyjaálfu
 Antartíku

Gjaldmiðillinn í landinu heitir: _____ táknið fyrir hann er _____

Höfuborg landsins heitir: _____

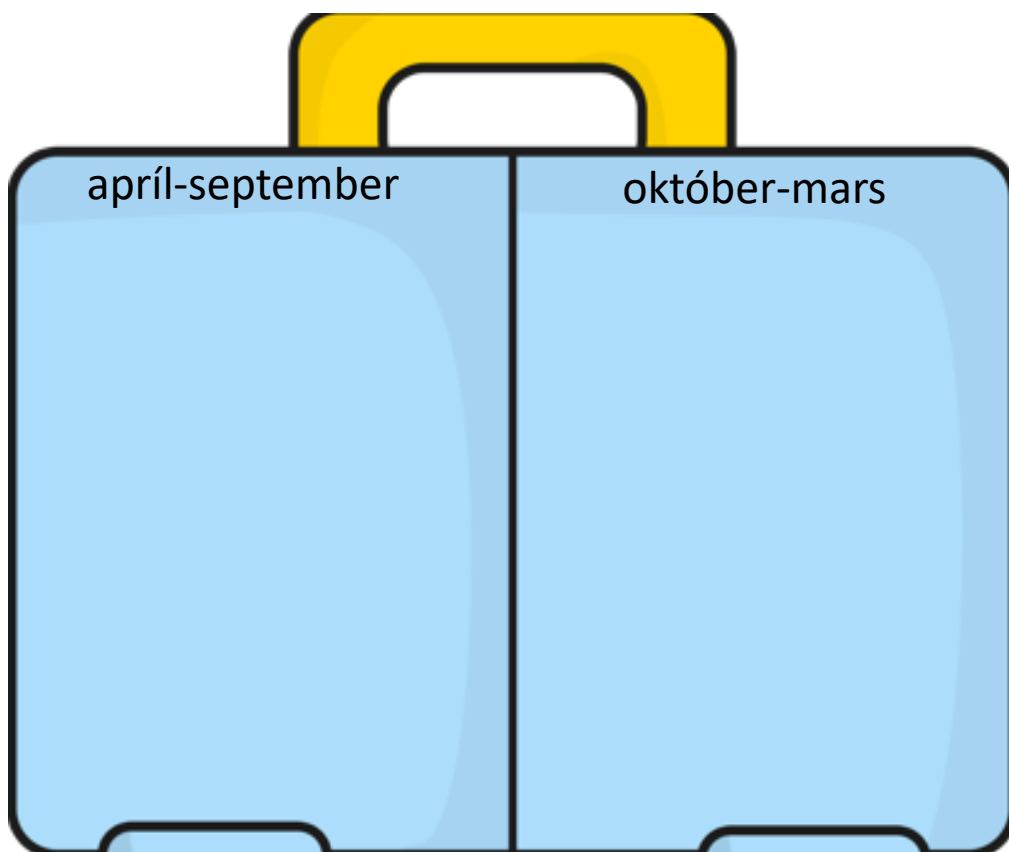
Tungumálið sem talað er í landinu er: _____

- Í landinu búa færri en 1 milljón manns
 1-10 milljón manns
 10-100 milljón manns
 100 milljón eða fleirri

Meðalhitinn apríl-september í landinu er: _____°C

Meðalhitinn október-mars í landinu er : _____°C

Hverju pakka ég þá niður í tösku ef ég fer í heimsókn þangað
Finndu myndir á netinu, afritaðu það sem þú þarft að nota og
límdu í töskuna

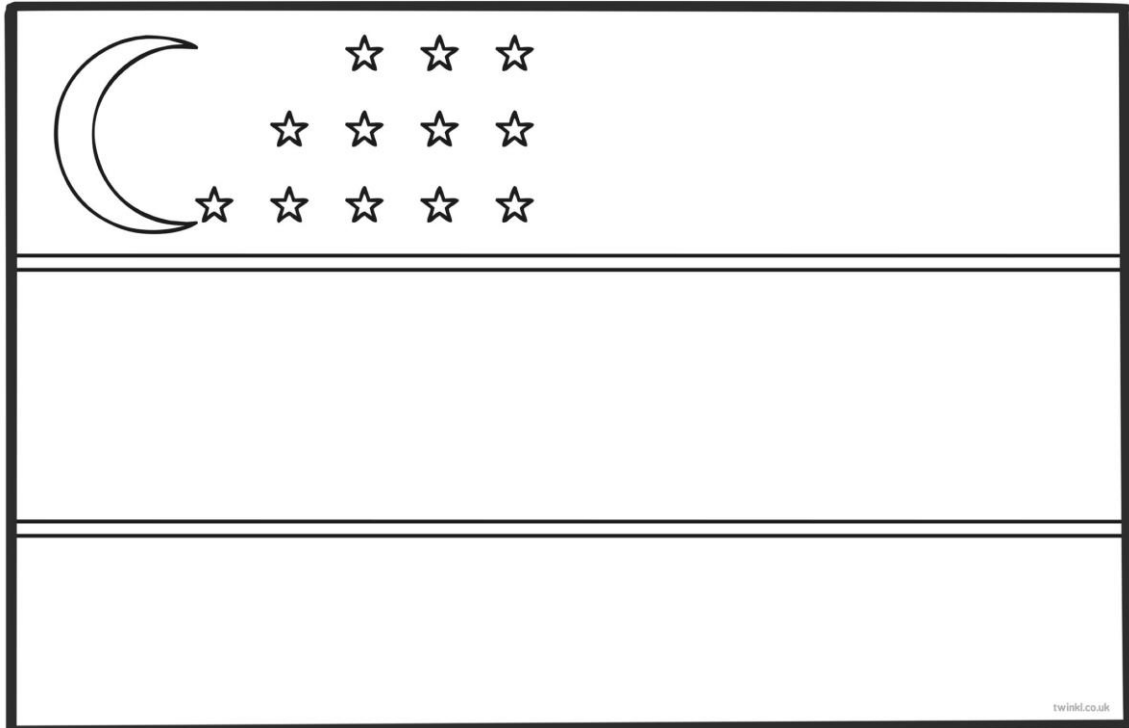


Staðsetning á hnettinum, getur afritað myndir í Wikipedia

163. Landið heitir: **Úsbekistan** á íslensku og

á ensku

Fáni landsins lítur svona út litaðu í réttum litum



- Landið er í Evrópu
 Asíu
 Afríku
 Norður-Ameríku
 Suður-Ameríku
 Eyjaálfu
 Antartíku

Gjaldmiðillinn í landinu heitir: _____ táknið fyrir hann er _____

Höfuborg landsins heitir: _____

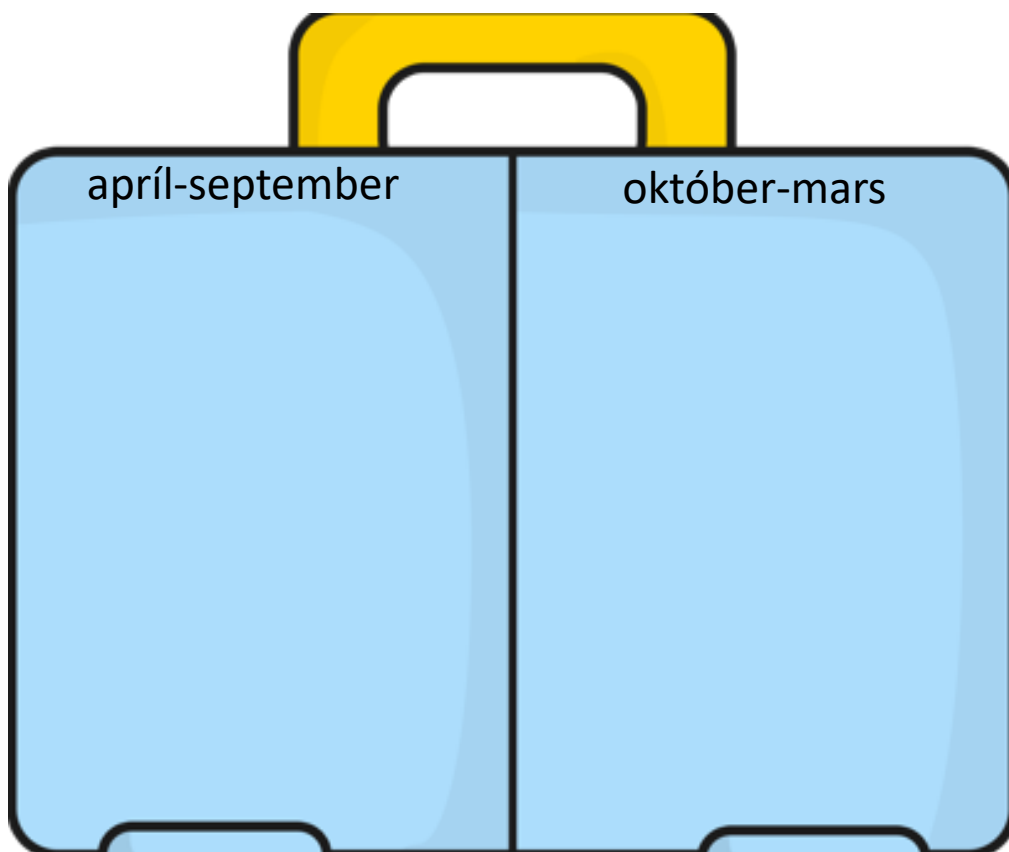
Tungumálið sem talað er í landinu er: _____

- Í landinu búa færri en 1 milljón manns
 1-10 milljón manns
 10-100 milljón manns
 100 milljón eða fleirri

Meðalhitinn apríl-september í landinu er: _____°C

Meðalhitinn október-mars í landinu er : _____°C

Hverju pakka ég þá niður í tösku ef ég fer í heimsókn þangað
Finndu myndir á netinu, afritaðu það sem þú þarft að nota og
límdu í töskuna




Staðsetning á hnettinum, getur afritað myndir í Wikipedia

166. Landið heitir: **Víetnam** á íslensku og

_____ á ensku

Fáni landsins lítur svona út litaðu í réttum litum



- Landið er í Evrópu
 Asíu
 Afríku
 Norður-Ameríku
 Suður-Ameríku
 Eyjaálfu
 Antartíku

Gjaldmiðillinn í landinu heitir: _____ táknið fyrir hann er _____

Höfuborg landsins heitir: _____

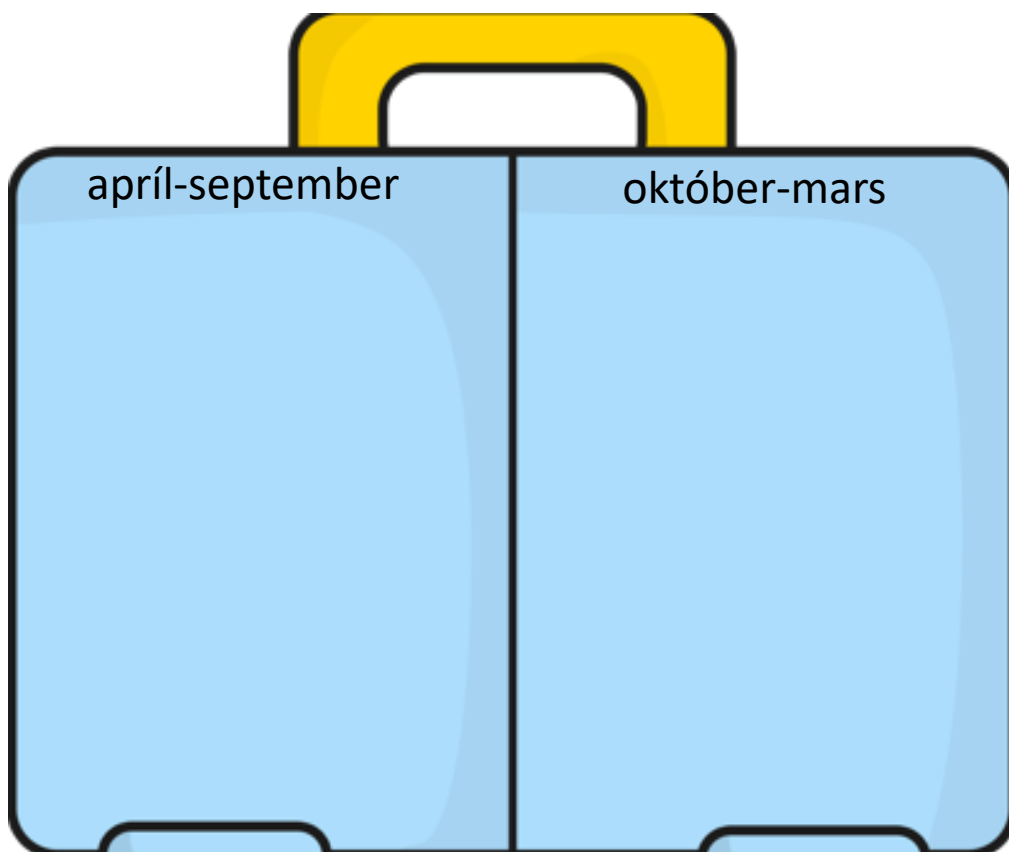
Tungumálið sem talað er í landinu er: _____

- Í landinu búa færri en 1 milljón manns
 1-10 milljón manns
 10-100 milljón manns
 100 milljón eða fleirri

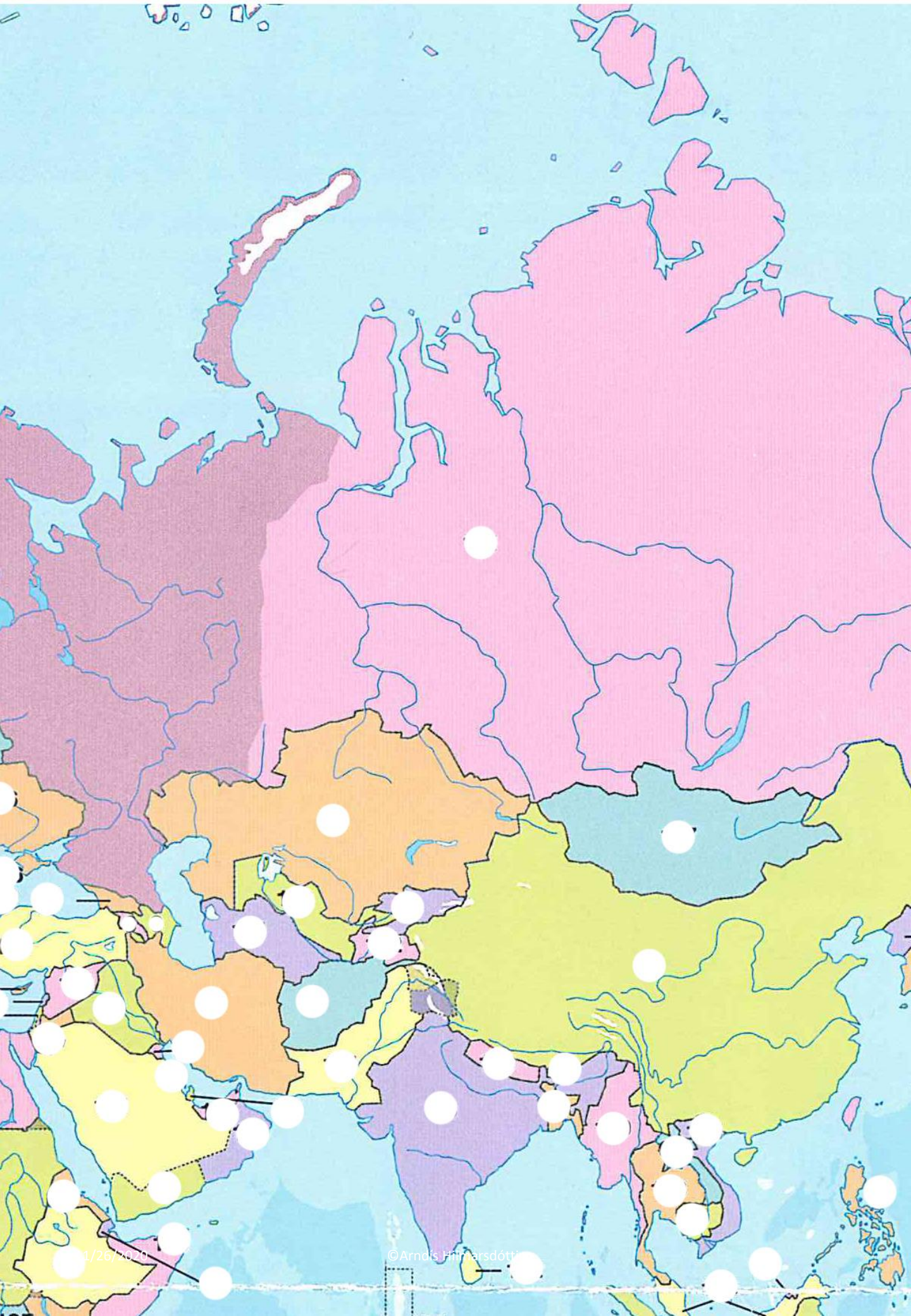
Meðalhitinn apríl-september í landinu er: _____°C

Meðalhitinn október-mars í landinu er : _____°C

Hverju pakka ég þá niður í tösku ef ég fer í heimsókn þangað
Finndu myndir á netinu, afritaðu það sem þú þarft að nota og
límdu í töskuna



Staðsetning á hnettinum, getur afritað myndir í Wikipedia



Upplýsingaveitur

Á netinu

Wikipedia: www.wikipedia.org

Lönd heimsins: <http://www1.nams.is/loend/index.php>

Globalis: www.globalis.is

Heimsreisa:

<http://www1.nams.is/heimsreisa/index.php>

Í bókum

Landabréfabækur

Öpp

Bitsboard

Asía



Kyrahafið

Indlandshaf

